


# 수학 영역(나형) 해설지

Epsilon



## 정답 및 해설

1) [정답] ④ (출제자 : 18 이현준)

[출제의도] 간단한 지수의 연산을 할 수 있는가?

[해설]

$$4^{\frac{3}{2}} = (2^2)^{\frac{3}{2}} = 2^{2 \times \frac{3}{2}} = 2^3 = 8$$

$$2^0 = 1$$

$$\therefore 4^{\frac{3}{2}} \times 2^0 = 8 \times 1 = 8$$

2) [정답] ⑤ (출제자 : 18 이현준)

[출제의도] 두 집합이 서로 같을 조건을 이해하여 두 집합의 원소를 비교할 수 있는가?

[해설]

$A = B$  를 만족시킨다는 것은 두 집합  $A$  와  $B$  의 원소가 모두 같다는 것을 의미한다.

$A$  와  $B$  를 비교해보았을 때 두 집합에는 각각 4가 공통으로 포함되어 있으므로, 다른 원소들을 비교해보자.

(i)  $a = b - 2$  인 경우

집합  $A$  의 원소인 1 과 집합  $B$  의 원소인 5 는 서로 다르므로 이 경우는 조건을 만족시키지 않는다.

(ii)  $a = 5$  인 경우

집합  $A$  의 원소인 1 과 집합  $B$  의 원소인  $b - 2$  가 같다고 가정하면 조건을 만족시킨다.

(i), (ii)에 의해  $a = 5$ ,  $b - 2 = 1$  이므로  $a + b = 8$  이다.

따라서 구하는 값은 8 이다.

3) [정답] ③ (출제자 : 17 석진우)

[출제의도] 수열의 극한값을 구할 수 있는가?

[해설]

$$\lim_{n \rightarrow \infty} \frac{6n^2 + 3n + 1}{4n^2 - 1} = \lim_{n \rightarrow \infty} \frac{6 + \frac{3}{n} + \frac{1}{n^2}}{4 - \frac{1}{n^2}} = \frac{3}{2}$$

4) [정답] ③ (출제자 : 17 김도훈)

[출제의도] 역함수의 정의를 이용하여 함숫값을 구할 수 있는가?

[해설]

주어진 그림에서  $f(3) = 6$  이므로

역함수의 정의에 의하여  $f^{-1}(6) = 3$  이다.

$$\therefore f^{-1}(6) = 3$$

5) [정답] ④ (출제자 : 18 이현준)

[출제의도] 주어진 함수의 그래프를 이용하여 좌극한과 우극한의 값을 구할 수 있는가?

[해설]

주어진 함수의 그래프에서

$$\lim_{x \rightarrow -2^+} f(x) = 2 \text{ 이고 } \lim_{x \rightarrow 1^-} f(x) = 2 \text{ 이므로}$$

구하는 값은  $2 + 2 = 4$  이다.

6) [정답] ③ (출제자 : 17 문혁준)

[출제의도] 독립사건의 개념을 알고 이를 활용할 수 있는가?

[해설]

$$P(A) = P(B) = \frac{1}{2} \text{ 이고}$$

두 사건  $A$  와  $B$  가 서로 독립이므로  $P(A \cap B) = P(A)P(B) = \frac{1}{4}$  이다.

$$P(A \cup B) = P(A) + P(B) - P(A \cap B) \text{ 이므로}$$

$$P(A \cup B) = \frac{1}{2} + \frac{1}{2} - \frac{1}{4} = \frac{3}{4} \text{ 이다.}$$

7) [정답] ① (출제자 : 17 김도훈)

[출제의도] 표를 이용하여 조건부확률을 구할 수 있는가?

[해설]

32 명의 학생 중에서 임의로 선택한 한 명이 남성일 사건을  $A$ , 동아리 Epsilon에 가입한 학생일 사건을  $B$  라 하자.

구하는 확률을 기호로 나타내면  $P(B|A)$  이므로

표를 이용하여 구해보면

$$P(B|A) = \frac{P(A \cap B)}{P(A)} = \frac{\frac{8}{32}}{\frac{20}{32}} = \frac{2}{5} \text{ 이다.}$$

# 수학 영역(나형)

8) [정답] ② (출제자 : 16 김민지)

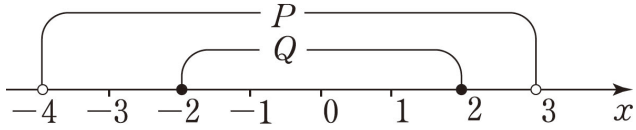
[출제의도] 필요조건에 대하여 이해하고 이를 활용할 수 있는가?

[해설]

조건  $p$ 의 진리집합을  $P$ , 조건  $q$ 의 진리집합을  $Q$ 라 하면

$$P = \{x \mid -4 < x < 3\} \text{ 이고}$$

$$Q = \{x \mid -a \leq x \leq a\} \text{ 이다.}$$



$p$ 가  $q$ 이기 위한 필요조건이 되기 위해선  $Q \subset P$  이어야 하므로  $a < 3$  이어야 한다.

조건을 만족하는 자연수  $a$ 는 1, 2이다.

따라서 자연수  $a$ 의 최댓값은 2이다.

9) [정답] ① (출제자 : 17 김정빈)

[출제의도] 수열의 합( $\sum$ )의 개념을 잘 적용할 수 있는가?

[해설]

$$\sum_{n=1}^{10} a_n(a_n + k) = \sum_{n=1}^{10} (a_n^2 + ka_n) = \sum_{n=1}^{10} a_n^2 + k \sum_{n=1}^{10} a_n \text{ 이고}$$

$$\sum_{n=1}^{10} a_n^2 = 5, \sum_{n=1}^{10} a_n = 4 \text{ 이므로}$$

$$\sum_{n=1}^{10} a_n(a_n + k) = 5 + 4k = 13 \text{ 이다.}$$

정리하면  $k = 2$  이다.

10) [정답] ⑤ (출제자 : 17 김국연)

[출제의도] 간단한 정적분의 계산을 할 수 있는가?

[해설]

$$\int_0^a (x^3 - 1) dx = \frac{1}{4}a^4 - a = a$$

위의 방정식을 풀면  $\frac{1}{4}a^4 - 2a = 0$  이다.

정리하면  $a(a^3 - 8) = a(a-2)(a^2 + 2a + 4) = 0$  이고

이 방정식을 만족시키는 양수  $a$ 의 값은 2이다.

( $\because a^2 + 2a + 4 = 0$ 의 두 근은 허수)

11) [정답] ③ (출제자 : 17 김도훈)

[출제의도] 로그의 성질을 이용하여 주어진 값을 구할 수 있는가?

[해설]

주어진 수식을 정리하면

$$\log_a 2 \times \log_4 b = \log_a 2 \times \frac{1}{2} \log_2 b = \frac{1}{2} \times \frac{\log 2}{\log a} \times \frac{\log b}{\log 2}$$

$$= \frac{1}{2} \times \frac{\log b}{\log a} = \frac{1}{2} \log_a b = \frac{1}{8} \text{ 이므로 } \log_a b = \frac{1}{4} \text{ 이다.}$$

이를 통해  $\log_b a$ 의 값을 구하면

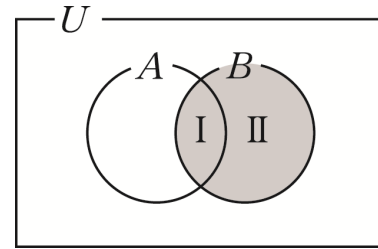
$$\log_b a = \frac{1}{\log_a b} = 4 \text{ 이다.}$$

$\therefore \log_b a = 4$

12) [정답] ① (출제자 : 18 김운태)

[출제의도] 집합의 연산을 할 수 있는가?

[해설]



집합  $B$ 가 어떤 원소를 갖는지 결정하기 위해 영역 I의 원소 1가지와 영역 II의 원소들을 결정하여 각 경우의 수를 곱해주어 집합  $B$ 의 개수를 구한다.

i) 집합  $A$ 에서 영역 I의 원소를 하나 고르는 경우는 3가지

ii) 집합  $U - A$ 에서 영역 II의 원소들을 고르는 경우

$\Rightarrow U - A$ 의 원소 3개가 각각 영역 II에 각각 포함되는 경우와 포함이 되지 않는 경우의 2가지 경우가 생기므로 총 경우는  $2^3 = 8$ 가지

$3 \times 8 = 24$  이므로 모든 집합  $B$ 의 개수는 24이다.

13) [정답] ⑤ (출제자 : 17 김도훈)

[출제의도] 유리함수의 최댓값을 이용하여 함수의 식을 구할 수 있는가?

[해설]

근호 안의 수는 음이 아닌 실수이어야 하므로

함수  $y = 2\sqrt{x-3} - 1$ 의 정의역은  $\{x \mid x-3 \geq 0\}$ , 즉  $\{x \mid x \geq 3\}$ 이다.

$$f(x) = \frac{-2x+k}{x+1} \quad (k > 0) \text{ 라 하면 } f(x) = \frac{k+2}{x+1} - 2 \text{ 이고}$$

$k+2 > 0$  이므로 함수  $f(x)$ 는  $[3, \infty)$ 에서 감소한다.

따라서 함수  $f(x)$ 는  $x=3$ 에서 최댓값  $f(3) = -\frac{1}{4}$ 을 갖는다.

$$f(3) = \frac{k-6}{4} = -\frac{1}{4} \text{ 이므로 } k = 5 \text{ 이다.}$$

14) [정답] ① (출제자 : 17 김도훈, 17 김동규)

[출제의도] 정규분포를 따르는 연속확률변수에 대한 확률밀도함수의 그래프의 대칭성을 이용하여, 주어진 확률을 구할 수 있는가?

[해설]

주어진 등식의 좌변을 살펴보면

$$P(k \leq X \leq k+12) = P(k \leq X \leq k+8) + P(k+8 \leq X \leq k+12)$$

이다. 마찬가지로 주어진 등식의 우변을 살펴보면

$$P(k-4 \leq X \leq k+8) = P(k-4 \leq X \leq k) + P(k \leq X \leq k+8)$$

이다.

따라서 주어진 등식을

$$P(k-4 \leq X \leq k) = P(k+8 \leq X \leq k+12) \text{ 로 볼 수 있다.}$$

위의 등식의 좌변에서  $k-4$ 와  $k$ 의 차이가 4이고

우변에서  $k+8$ 과  $k+12$ 의 차이도 4이다.

따라서 정규분포의 확률밀도함수의 그래프는 평균을 기준으로 좌우대칭인 종 모양의 그래프이므로 위의 등식으로부터  $m$ 의 값이  $k-4$ 와  $k+12$ 의 평균이자  $k$ 와  $k+8$ 의 평균인  $k+4$ 임을 알 수 있다. ... ([보충] 참고)

확률변수  $X$ 의 평균이  $k+4$ 이고 표준편차가 4이므로

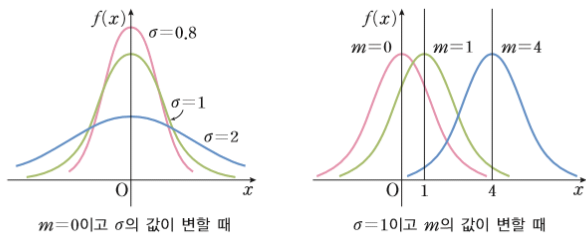
구하는 값인  $P(X \geq k+12)$ 를 표준화시키면

$$P(X \geq k+12) = P(Z \geq 2) = 0.0228 \text{ 이다.}$$

# 수학 영역(나형)

[보충] 이강섭 외 14인, 미래엔, 2009 개정 교육과정 확률과 통계 111p

정규분포의 확률밀도함수의 그래프는  $m$ 과  $\sigma$ 의 값에 따라 그 모양이 정해진다.



일반적으로 정규분포  $N(m, \sigma^2)$ 을 따르는 확률변수  $X$ 의 확률밀도함수의 그래프에는 다음과 같은 특징이 있다.

- ① 직선  $x=m$ 에 대하여 대칭인 종 모양의 곡선이고, 점근선은  $x$ 축이다.
- ② 곡선과  $x$ 축 사이의 넓이는 1이다.
- ③  $x=m$ 일 때, 최댓값을 갖는다.
- ④  $m$ 의 값이 일정할 때,  $\sigma$ 의 값이 커지면 곡선은 낮아지면서 양쪽으로 퍼지고  $\sigma$ 의 값이 작아지면 곡선은 높아지면서 뾰족하게 된다.
- ⑤  $\sigma$ 의 값이 일정할 때,  $m$ 의 값이 변하면 대칭축의 위치는 바뀌지만 곡선의 모양은 같다.

15) [정답] ② (출제자 : 17 김국연)

[출제의도] 주어진 상황을 이해하여 경우의 수를 구할 수 있는가?

[해설]

양 끝에 놓인 숫자의 합이 4가 되는 경우는  $2+2, 1+3$  두 가지 경우뿐이다.

① 양 끝에 2, 2가 올 때:

나머지 5장의 카드가 1, 1, 1, 3, 3이므로  $\frac{5!}{2!3!} = 10$

② 양 끝에 1, 3이 올 때:

나머지 5장의 카드가 1, 1, 2, 2, 3이므로  $\frac{5!}{2!2!} \times 2! = 60$

따라서 총 경우의 수는 70이다.

16) [정답] ② (출제자 : 17 문혁준)

[출제의도] 극한값을 가지는 조건과 미분의 정의를 이용하여 문제를 해결할 수 있는가?

[해설]

$f(x) = a_1x^n + a_2x^{n-1} + \dots + a_nx + a_{n+1}$  ( $a_1 \neq 0$ ) 이라 하자.

이때  $\lim_{x \rightarrow \infty} \frac{f(x)}{xf'(x)}$ 의 값을 구하면 다음과 같다.

$$\begin{aligned} \lim_{x \rightarrow \infty} \frac{f(x)}{xf'(x)} &= \lim_{x \rightarrow \infty} \frac{a_1x^n + a_2x^{n-1} + \dots + a_nx + a_{n+1}}{na_1x^n + (n-1)a_2x^{n-1} + \dots + a_nx} \\ &= \frac{a_1}{na_1} = \frac{1}{n} = \frac{1}{2} \end{aligned}$$

여기서  $n=2$ 이므로  $f(x)$ 는 이차함수임을 알 수 있다. 따라서  $f(x) = ax^2 + bx + c$  ( $a \neq 0$ )라 쓸 수 있다.

$$\lim_{x \rightarrow 0} \frac{f(x)}{xf'(x)} = \lim_{x \rightarrow 0} \frac{ax^2 + bx + c}{2ax^2 + bx} = \frac{1}{2} \text{ 이다.}$$

여기서  $\lim_{x \rightarrow 0} (2ax^2 + bx) = 0$ 이므로  $\lim_{x \rightarrow 0} (ax^2 + bx + c) = 0$ 이어야

$\lim_{x \rightarrow 0} \frac{ax^2 + bx + c}{2ax^2 + bx}$ 의 값이 정의된다.

$\lim_{x \rightarrow 0} (ax^2 + bx + c) = c$ 이므로  $c=0$ 임을 알 수 있다.

다시 식을 정리하면 다음과 같다.

$$\lim_{x \rightarrow 0} \frac{ax^2 + bx}{2ax^2 + bx} = \lim_{x \rightarrow 0} \frac{ax + b}{2ax + b} = \frac{1}{2}$$

여기서  $b \neq 0$ 이면  $\lim_{x \rightarrow 0} \frac{ax + b}{2ax + b} = \frac{b}{b} = 1$ 이 되므로 모순이고

$b=0$ 일 때  $\lim_{x \rightarrow 0} \frac{ax}{2ax} = \frac{1}{2}$ 로 조건을 만족시킴을 알 수 있다.

따라서  $f(x) = ax^2$  ( $a \neq 0$ )이다.

$$f(6) = 36a, f(2) = 4a \text{ 이므로 } k = \frac{36a}{4a} = 9 \text{ 이다.}$$

17) [정답] ④ (출제자 : 17 박승용)

[출제의도] 등비급수를 이용하여 도형의 넓이를 구할 수 있는가?

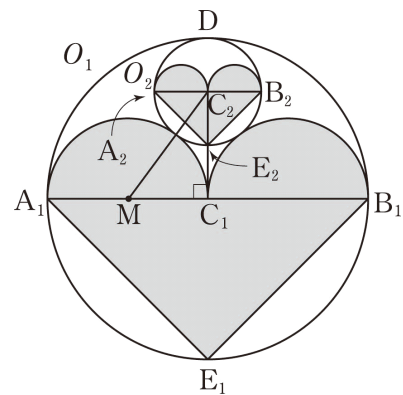
[해설]

선분  $A_1C_1$ 과  $B_1C_1$ 을 지름으로 하는 반원의 넓이는

$$\overline{A_1C_1} = \overline{B_1C_1} = 1 \text{ 이므로 각각 } \frac{1}{2} \times \pi \times \left(\frac{1}{2}\right)^2 = \frac{\pi}{8} \text{ 이고}$$

삼각형  $A_1B_1E_1$ 의 넓이는  $2 \times 1 \times \frac{1}{2} = 1$ 이다.

따라서,  $S_1 = 2 \times \frac{\pi}{8} + 1 = \frac{\pi+4}{4}$ 이다.



선분  $A_1C_1$ 의 중점을  $M$ 이라 할 때, 삼각형  $C_1MC_2$ 이 직각삼각형이므로  $\overline{MC_2}^2 = \overline{MC_1}^2 + \overline{C_1C_2}^2$ 이 성립한다.

원  $O_2$ 의 반지름의 길이를  $r$ 라고 하면

$$\overline{MC_2} = r + \frac{1}{2}$$

$$\overline{MC_1} = \frac{1}{2}$$

$$\overline{C_1C_2} = 1 - r \text{ 이다.}$$

따라서  $\left(r + \frac{1}{2}\right)^2 = \left(\frac{1}{2}\right)^2 + (1-r)^2$ 이 성립하므로 식을 정리하면

$$r^2 + r + \frac{1}{4} = \frac{1}{4} + r^2 - 2r + 1 \text{ 에서}$$

$$3r = 1, \text{ 즉 } r = \frac{1}{3} \text{ 이므로}$$

원  $O_1$ 과 원  $O_2$ 의 닮음비가 3:1이며 넓이비는 9:1이다.

$$\text{따라서 } \lim_{n \rightarrow \infty} S_n = \lim_{n \rightarrow \infty} \frac{S_1 \left\{1 - \left(\frac{1}{9}\right)^n\right\}}{1 - \frac{1}{9}}$$

$$\begin{aligned} &= \lim_{n \rightarrow \infty} \left[ \frac{9}{8} \times \frac{\pi+4}{4} \times \left\{1 - \left(\frac{1}{9}\right)^n\right\} \right] \\ &= \frac{9(\pi+4)}{32} \text{ 이다.} \end{aligned}$$

# 수학 영역(나형)

18) [정답] ④ (출제자 : 14 임현우)

[출제의도] 시그마의 뜻을 이해하고 등차수열의 합 공식을 이용하여 주어진 값을 구할 수 있는가?

[해설]

$$\sum_{k=1}^{16} (-1)^k a_k = 2$$

$$\Rightarrow -a_1 + a_2 - a_3 + \dots - a_{15} + a_{16} = 2$$

$$\Rightarrow (-a_1 + a_2) + (-a_3 + a_4) + \dots + (-a_{15} + a_{16}) = 2$$

$$\Rightarrow 8d = 2$$

$$\Rightarrow d = \frac{1}{4}$$

$a_{2k}$  는  $(a_2, a_4, a_6, \dots)$  의 수열이므로

첫째항이  $a_2$  이고 공차가  $2d$ , 즉  $\frac{1}{2}$  인 등차수열이다.

따라서  $a_{2k}$  의 첫 번째 항부터 8 번째 항까지의 합을 등차수열의 합 공식을 이용하여 계산하면

$$\sum_{k=1}^8 a_{2k} = \frac{8(2a_2 + 7 \times \frac{1}{2})}{2} = 4 \text{ 이다.}$$

$$\Rightarrow 2a_2 + \frac{7}{2} = 1$$

$$\Rightarrow a_2 = -\frac{5}{4}$$

$$\therefore a_8 = a_2 + 6d = -\frac{5}{4} + \frac{6}{4} = \frac{1}{4}$$

[별해]

$$\sum_{k=1}^{16} (-1)^k a_k = 2 \Rightarrow -a_1 + a_2 - a_3 + \dots - a_{15} + a_{16} = 2 \dots (1)$$

$$\sum_{k=1}^8 a_{2k} = 4 \Rightarrow a_2 + a_4 + \dots + a_{16} = 4 \dots (2)$$

$$(2) - (1) : a_1 + a_3 + \dots + a_{15} = 2 \dots (3)$$

$$(2) + (3) : a_1 + a_2 + a_3 + \dots + a_{15} + a_{16} = 6$$

(1)에 의해  $d = \frac{1}{4}$  이므로

$$\Rightarrow \frac{16(2a_1 + 15 \times \frac{1}{4})}{2} = 6$$

$$\Rightarrow 2a_1 + \frac{15}{4} = \frac{3}{4}$$

$$\Rightarrow a_1 = -\frac{3}{2}$$

$$\Rightarrow a_8 = a_1 + 7d = -\frac{3}{2} + \frac{7}{4} = \frac{1}{4}$$

19) [정답] ⑤ (출제자 : 17 조영호)

[출제의도] 미분을 이용하여 다항함수의 개형을 파악할 수 있는가?

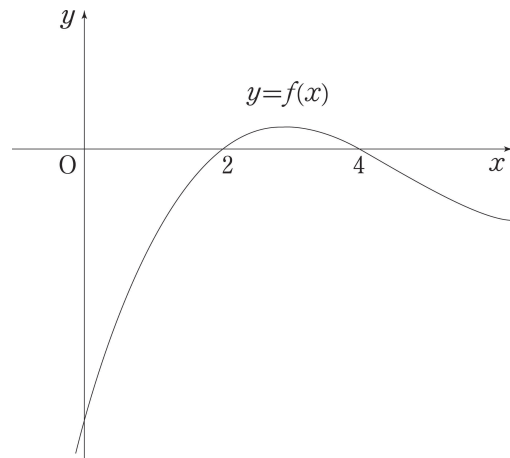
[해설]

조건 (나)에서 두 구간  $(0, 2)$ ,  $(2, 4)$ 에서  $f(x)f(x+2) < 0$  이므로 두 가지의 경우를 살펴볼 수 있다.

1)  $0 < x < 2$ 에서  $f(x) < 0$  인 경우

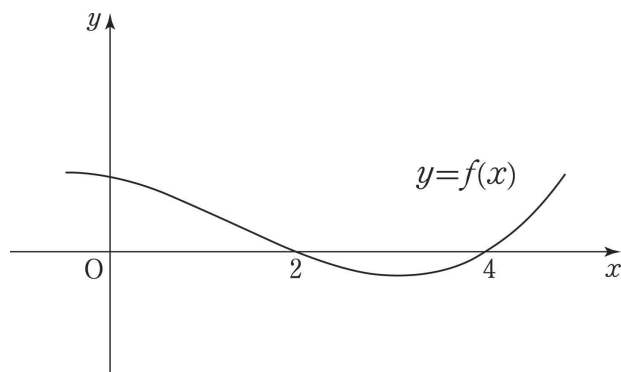
2)  $0 < x < 2$ 에서  $f(x) > 0$  인 경우

1)의 경우를 살펴보면 구간  $(0, 2)$ 에서  $f(x)f(x+2) < 0$  이므로  $2 < x < 4$ 에서  $f(x) > 0$  이고 마찬가지로 구간  $(2, 4)$ 에서  $f(x)f(x+2) < 0$  이므로  $4 < x < 6$ 에서  $f(x) < 0$  이다. 사이값 정리에 의하여  $f(2) = f(4) = 0$  이므로 함수  $f(x)$  의 그래프의 개형을 살펴보면 최고차항의 계수가 1 (양수)이므로 다음 그림과 같다.



이 경우는 조건 (가)의  $f'(0) \leq 0$  을 만족시키지 못한다.

2)의 경우를 살펴보면 구간  $(0, 2)$ 에서  $f(x)f(x+2) < 0$  이므로  $2 < x < 4$ 에서  $f(x) < 0$  이고 마찬가지로 구간  $(2, 4)$ 에서  $f(x)f(x+2) < 0$  이므로  $4 < x < 6$ 에서  $f(x) > 0$  이다. 이에 따라 사이값 정리에 의하여  $f(2) = f(4) = 0$  이므로 함수  $f(x)$  의 그래프의 개형을 살펴보면 최고차항의 계수가 1 (양수)이므로 다음과 같다.



이 경우는 조건 (가)의  $f'(0) \leq 0$  을 만족시킬 수 있다.

따라서 함수  $f(x)$  의 그래프의 개형은 위의 그림과 같다.

이에 따라 함수  $f(x)$  는 극대와 극소가 되는  $x$  가 각각 1 개씩 존재한다. 그러므로 ㄱ과 ㄴ은 참이다.

ㄷ의 참, 거짓을 판별하기 위해

위에서 추론한 함수  $f(x)$  의 그래프의 개형을 살펴보자.

함수  $f(x)$  는  $x < 2$ 에서 극댓값을 갖고  $2 < x < 4$ 에서 극솟값을 가지므로 함수  $f(x)$  가  $x = a$  ( $a < 2$ )에서 극댓값을 갖고  $x = b$  ( $2 < b < 4$ )에서 극솟값을 갖는다고 하자.

함수  $f(x)$  의 증가와 감소를 표로 나타내면 다음과 같다.

$x$	$x < a$	$x = a$	$a < x < b$	$x = b$	$x > b$
$f'(x)$	+	0	-	0	+
$f(x)$	↗	극대	↘	극소	↗

# 수학 영역(나형)

조건 (가)에서  $f'(0) \leq 0$  이므로  $a \leq 0$  이다.

따라서  $f(a) \geq f(0)$ , 즉  $M \geq f(0)$  이다. (단, 등호는  $a=0$  일 때 성립)  
 함수  $f(x)$  는 최고차항의 계수가 1 이고 그래프가 두 점  $(2, 0)$ ,  $(4, 0)$  을  
 지나므로  $f(x) = (x-c)(x-2)(x-4)$  라 할 수 있다. (단,  $c$  는 상수)  
 $f'(x) = (x-2)(x-4) + (x-c)(x-4) + (x-c)(x-2)$  이므로

조건 (가)에 의해  $f'(0) = 8+6c \leq 0$ , 즉  $c \leq -\frac{4}{3}$  이다.

이에 따라  $f(0) = -8c \geq \frac{32}{3}$  이다.

따라서  $M \geq f(0) \geq \frac{32}{3}$  이므로  $\text{ㄷ}$  은 참이다.

$\therefore \neg, \text{ㄴ}, \text{ㄷ}$

## 20) [정답] ③ (출제자 : 18 안동우)

[출제의도] 각 상황에 맞는 경우의 수를 구할 수 있는가?

[해설]

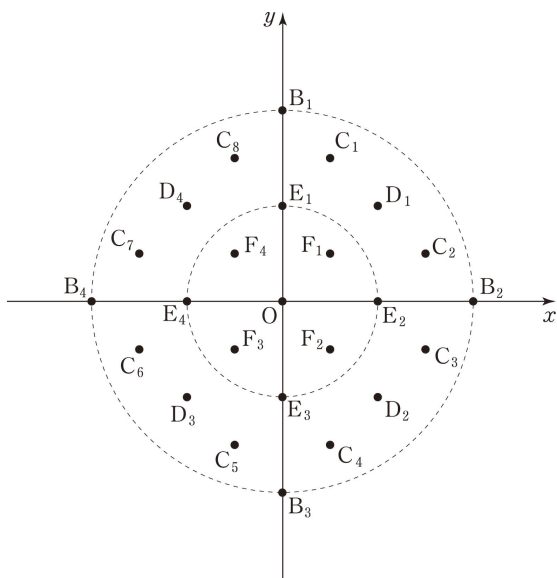
$x$  축의 양의 방향으로 1 이동하는 것을  $\rightarrow$ ,  
 $x$  축의 음의 방향으로 1 이동하는 것을  $\leftarrow$ ,  
 $y$  축의 양의 방향으로 1 이동하는 것을  $\uparrow$ ,  
 $y$  축의 음의 방향으로 1 이동하는 것을  $\downarrow$  라 하자.

각 순서마다 이동할 수 있는 방향의 가짓수는 4 가지이고, 총 4 번  
 이동하므로 이동할 수 있는 전체 경우의 수는  $4^4 = 256$  이다.

점 A 의 위치로 가능한 모든 곳을 아래의 조건에 따라 정하자.

- 점  $B_n$  - 한 방향으로만 4 번 이동한 경우 (단,  $n=1, 2, 3, 4$ )
- 점  $C_n$  - 한 방향으로 1 번, 그 방향과 수직인 두 방향 중 한 방향으로만  
3 번 이동한 경우 (단,  $n=1, 2, 3, 4, 5, 6, 7, 8$ )
- 점  $D_n$  - 한 방향으로 2 번, 그 방향과 수직인 두 방향 중 한 방향으로만  
2 번 이동한 경우 (단,  $n=1, 2, 3, 4$ )
- 점  $E_n$  - 한 방향으로 1 번, 반대 방향으로 3 번 이동한 경우 또는  
한 방향으로 1 번, 반대 방향으로 1 번, 두 방향과 수직인 두 방향  
중 한 방향으로만 2 번 이동한 경우 (단,  $n=1, 2, 3, 4$ )
- 점  $F_n$  - 한 방향으로 1 번, 반대 방향으로 2 번, 두 방향과 수직인 두 방향  
중 한 방향으로만 1 번 이동한 경우 (단,  $n=1, 2, 3, 4$ )
- 원점 O - 한 방향으로 2 번, 반대 방향으로 2 번 이동한 경우  
또는 모든 방향으로 1 번 이동한 경우

각 조건에 따라 점 A 의 위치로 가능한 모든 곳을 표시하면 다음과 같다.



점 A 가 점  $B_n$  일 때  $t=4$ , 점  $C_n$  일 때  $t = \sqrt{10}$ ,  
 점  $D_n$  일 때  $t=2\sqrt{2}$ , 점  $E_n$  일 때  $t=2$ ,  
 점  $F_n$  일 때  $t = \sqrt{2}$ , 원점 O 일 때  $t=0$  이다.  
 따라서 가능한  $t$  의 값은  $0, \sqrt{2}, 2, 2\sqrt{2}, \sqrt{10}, 4$  이다.

$t=0, t=2, t=4$  일 때, 1 점을 획득하고

$t = \sqrt{2}$  일 때, 2 점을 획득하고

$t=2\sqrt{2}, t = \sqrt{10}$  일 때, 3 점을 획득한다.

i)  $X=1$  일 때

i-1)  $t=0$  일 때

원점 O 에서 원점 O 로 이동하는 경우는 다음 괄호 안의 기호를  
 나열하는 경우와 같다.

$(\rightarrow, \rightarrow, \leftarrow, \leftarrow), (\uparrow, \uparrow, \downarrow, \downarrow), (\rightarrow, \leftarrow, \uparrow, \downarrow)$   
 따라서  $t=0$  일 때의 경우의 수는

$$\frac{4!}{2!2!} + \frac{4!}{2!2!} + 4! = 36 \text{ 이다.}$$

i-2)  $t=2$  일 때

원점 O 에서 점  $E_1$  으로 이동하는 경우는 다음 괄호 안의 기호를  
 나열하는 경우와 같다.

$(\uparrow, \uparrow, \uparrow, \downarrow), (\rightarrow, \leftarrow, \uparrow, \uparrow)$

따라서  $\frac{4!}{3!} + \frac{4!}{2!} = 16$  가지이다.

원점 O 에서 점  $E_1$  이나 점  $E_2, E_3, E_4$  로 이동하는 경우의  
 조건은 서로 같으므로 각 점으로 이동하는 경우의 수는 동일하다.

따라서  $t=2$  일 때의 경우의 수는  $4 \times \left(\frac{4!}{3!} + \frac{4!}{2!}\right) = 64$  이다.

i-3)  $t=4$  일 때

원점 O 에서 점  $B_1$  으로 이동하는 경우는 다음 괄호 안의 기호를  
 나열하는 경우와 같다.

$(\uparrow, \uparrow, \uparrow, \uparrow)$

따라서  $\frac{4!}{4!}$  가지이다.

원점 O 에서 점  $B_1$  이나 점  $B_2, B_3, B_4$  로 이동하는 경우의  
 조건은 서로 같으므로 각 점으로 이동하는 경우의 수는 동일하다.

따라서  $t=4$  일 때의 경우의 수는  $4 \times \frac{4!}{4!} = 4$  이다.

따라서

$$\begin{aligned} P(X=1) &= \frac{1}{256} \times \left\{ \left(4! + 2 \times \frac{4!}{2!2!}\right) + 4 \times \left(\frac{4!}{2!} + \frac{4!}{3!}\right) + 4 \times \frac{4!}{4!} \right\} \\ &= \frac{1}{256} \times (36 + 64 + 4) \\ &= \frac{13}{32} \end{aligned}$$

이다.

ii)  $X=2$  일 때

$t = \sqrt{2}$  일 때

원점 O 에서 점  $F_1$  으로 이동하는 경우는 다음 괄호 안의 기호를  
 나열하는 경우와 같다.

$(\rightarrow, \rightarrow, \leftarrow, \uparrow), (\rightarrow, \uparrow, \uparrow, \downarrow)$

따라서  $\frac{4!}{2!} + \frac{4!}{2!}$  이다.

원점 O 에서 점  $F_1$  이나 점  $F_2, F_3, F_4$  로 이동하는 경우의 조건은  
 서로 같으므로 각 점으로 이동하는 경우의 수는 동일하다.

따라서  $t = \sqrt{2}$  일 때의 경우의 수는  $\left(4 \times \left(\frac{4!}{2!} + \frac{4!}{2!}\right)\right)$  이다.

따라서

$$P(X=2) = \frac{1}{256} \times \left(4 \times \left(\frac{4!}{2!} + \frac{4!}{2!}\right)\right) = \frac{3}{8} \text{ 이다.}$$



# 수학 영역(나형)

iii)  $X = 3$  일 때

$$P(X = 3) = 1 - \{P(X = 1) + P(X = 2)\}$$

$$= 1 - \left(\frac{13}{32} + \frac{3}{8}\right) = \frac{7}{32}$$

이다.

따라서 확률변수  $X$ 의 평균  $E(X)$ 는 다음과 같다.

$$E(X) = \sum_{i=1}^3 \{i \times P(X = i)\}$$

$$= 1 \times \frac{13}{32} + 2 \times \frac{3}{8} + 3 \times \frac{7}{32}$$

$$= \frac{29}{16}$$

따라서  $a = \sqrt{2}$ ,  $b = 24$ ,  $c = \frac{29}{16}$  이므로

$$8a^2c - b = 8 \times (\sqrt{2})^2 \times \frac{29}{16} - 24 = 5 \text{ 이다.}$$

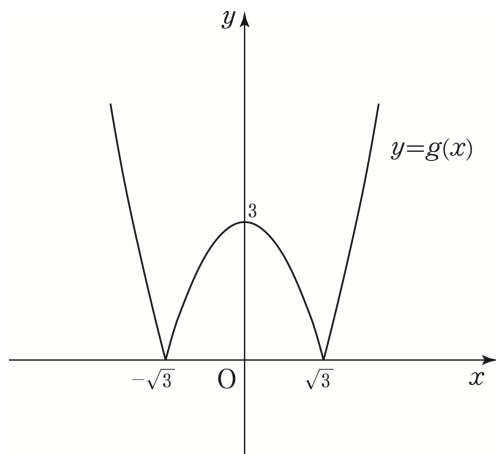
21) [정답] ④ (출제자 : 17 문혁준)

[출제의도] 합성함수의 정의를 이용하여 문제를 해결할 수 있는가?

[해설]

$g(x) = t$ 로 치환하면  $g(x) = t$ 이고  $f(t) = 4$ 를 만족하는 모든 실수  $x$ 의 개수가 5일 때를 찾으려 한다.

함수  $g(x)$ 의 그래프는 다음과 같다.



이때  $t$ 의 범위에 따라  $g(x) = t$ 를 만족시키는  $x$ 의 개수를 찾아보자.

- (1)  $t = 0$  : 그래프에서 이를 만족시키는  $x$ 의 개수는 2이다.
- (2)  $0 < t < 3$  : 그래프에서 이를 만족시키는  $x$ 의 개수는 4이다.
- (3)  $t = 3$  : 그래프에서 이를 만족시키는  $x$ 의 개수는 3이다.
- (4)  $t > 3$  : 그래프에서 이를 만족시키는  $x$ 의 개수는 2이다.

$f(t) = 4$ 를 만족시키는 실수  $t$ 의 개수가 1이라면 방정식  $f(g(x)) = 4$ 를 만족시키는  $x$ 는 최대 4개고,  $f(t) = 4$ 를 만족시키는 실수  $t$ 의 개수가 3 이상이면 방정식  $f(g(x)) = 4$ 를 만족시키는  $x$ 는 최소 6개다.

따라서 방정식  $f(g(x)) = 4$ 를 만족시키는  $x$ 가 5개가 되려면  $f(t) = 4$ 를 만족시키는 실수  $t$ 의 개수는 2여야 한다. ... ㉠

위의 (1)~(4) 중에서  $t$ 를 2개 고를 때, 만족시키는 모든  $x$ 가 5개가 되도록 고르는 방법은  $\langle x \text{가 2개일 때} \rangle + \langle x \text{가 3개일 때} \rangle$ 밖에 없다.

따라서 (1), (3)을 고르거나 (3), (4)를 고르는 방법밖에 없다.

I) (1), (3)을 고르는 경우

$f(0) = f(3) = 4$ 이므로  $a = 4$ ,  $3b + c = 4$ 이다. 또한 함수  $f(x)$ 는  $x = 2$ 에서 연속이므로  $-2 + a = 2b + c$ 이고  $a = 4$ 이므로  $2b + c = 2$ 이다.

$3b + c = 4$ ,  $2b + c = 2$ 에서  $b = 2$ ,  $c = -2$ 이다.

따라서  $a \times b \times c = 4 \times 2 \times (-2) = -16$ 이다.

II) (3), (4)를 고르는 경우

$t = 3$ 과  $t = k$  ( $k > 3$ )에서  $f(t) = 4$ 이므로  $f(3) = f(k) = 4$ 이다.

따라서  $3b + c = kb + c = 4$ 이고, 이 식에서  $b = 0$ ,  $c = 4$ 이다.

$b = 0$ 이므로  $t = k'$  ( $k' > 3$ )에서도  $k'b + c = 4$ 이니  $f(k') = 4$ 이다.

이는  $f(t) = 4$ 를 만족시키는 실수  $t$ 의 개수가 3 이상이라는 것이고

이는 ㉠에 모순이다. 따라서 이 경우는 선택할 수 없다.

I), II)에서 세 상수  $a, b, c$ 의 곱  $abc = -16$ 이다.

[별해] - 그래프 없이 식으로만 풀 경우

$g(x)$ 의 식에서  $g(x) = g(-x)$ 이므로  $f(g(x)) = f(g(-x))$ 이다.

따라서 어떤 양수  $k$ 에 대하여

$$f(g(k)) = 4 \text{ 이면 } f(g(-k)) = 4 \text{ 이다. ... ㉠}$$

㉠에 의해 방정식  $f(g(x)) = 4$ 의 서로 다른 실근의 개수는 짝수가 되어야 할 듯한데 조건에서는 홀수라 나와 있다. 이는 ㉠에서 언급한 실수  $k$ 가  $k = -k$ 를 만족시키는 경우가 하나 존재한다는 뜻이다.

따라서  $k = 0$ 에서  $f(g(0)) = 4$ 이며,  $k = 0$  이외에 양수  $k$ 가 2개 더 존재하면 서로 다른 실근의 개수가 5개가 되어, 조건을 충족시킨다. ... ㉡

$g(x) = t$ 로 치환하자.

이때  $f(g(x)) = f(t)$ 이므로 다음과 같이 쓸 수 있다.

$$f(t) = \begin{cases} -t + a & (0 \leq t < 2) \\ bt + c & (t \geq 2) \end{cases}$$

$g(x) = t = |x^2 - 3|$ 이므로 모든 실수  $x$ 에 대하여  $t \geq 0$ 이다.

따라서  $t = 2$ 일 때를 기점으로  $f(t)$ 를 살펴보자.

㉠에 의해 모든 실수  $x$ 에서 알아볼 필요 없이  $x \geq 0$ 에서만 알아보고  $y$ 축에 대칭시키면 된다.

$|x^2 - 3| = 2$ 를 만족시키는 양수  $x$ 는  $x = 1$ ,  $x = \sqrt{5}$ 이다.

또한  $|x^2 - 3| = 0$ 을 만족시키는 양수  $x = \sqrt{3}$ 이다.

이를 이용해  $x$ 의 범위를 나눠보면 다음과 같다.

- (1)  $x$ 가 구간  $[0, 1]$  안에 존재하는 경우
- (2)  $x$ 가 구간  $(1, \sqrt{3})$  안에 존재하는 경우
- (3)  $x$ 가 구간  $[\sqrt{3}, \sqrt{5})$  안에 존재하는 경우
- (4)  $x$ 가 구간  $[\sqrt{5}, \infty)$  안에 존재하는 경우

(1), (4)에서  $t \geq 2$ 이고 (2), (3)에서  $0 \leq t < 2$ 이다. ... ㉢

$g(x)$ , 즉  $t$ 는 (1), (2)에서 감소하고 (3), (4)에서 증가한다. ... ㉣

$f(x)$ 는  $b$ 의 부호에 따라 증감 여부가 달라진다.

따라서  $b$ 의 부호에 따라  $f(t)$ 가 조건을 만족하는지를

살펴보기로 하자.

# 수학 영역(나형)

I)  $b > 0$

이때  $f(x)$ 는  $0 \leq x < 2$ 에서 감소,  $x \geq 2$ 에서 증가한다.  
 이 사실과 ㉠, ㉡을 이용하면 (1)~(4)의 범위에서 다음을 알 수 있다.  
 (1)  $t$ 는 감소,  $f(x)$ 는 증가  $\rightarrow f(t)$ 는 감소  
 (2)  $t$ 와  $f(x)$  둘 다 감소  $\rightarrow f(t)$ 는 증가  
 (3)  $t$ 는 증가,  $f(x)$ 는 감소  $\rightarrow f(t)$ 는 감소  
 (4)  $t$ 와  $f(x)$  둘 다 증가  $\rightarrow f(t)$ 는 증가

㉠에서  $f(g(0)) = 4$  이므로 (1)의 범위에서  $f(t) = 4$ 는 해 1 개를 갖는다.  
 $f(g(\sqrt{5})) = f(2) < f(3) = f(g(0))$  ( $\because b > 0$ ) 이고  
 (4)의 범위에서  $f(t)$ 는 증가하므로, (4)의 범위에서도  $f(t) = 4$ 는 1 개의 해를 갖는다.  
 위 사항과 ㉠에 의해  $f(g(x)) = 4$ 의 해 중 3 개는 구해졌으니, (2), (3)의 범위에서 해를 1 개 가져야 조건을 만족시킨다.  
 ( $\because$  (2), (3)의 범위에서 해를 1 개 가지면 ㉠에 의해 1 개 더 생겨서 5 개) 이것이 가능한 경우는 (2)의 범위에서는 해가 존재하지 않고,  
 (3)의 범위 중  $x = \sqrt{3}$ 에서 해가 존재할 경우이다. (... [증명] 참고)  
 따라서  $f(g(\sqrt{3})) = f(0) = 4$ 에서  $a = 4$ 임을 알 수 있고  
 $f(g(0)) = f(3) = 4$ 에서  $3b + c = 4$ 이다.  
 $f(x)$ 는 연속이므로  $x = 2$ 에서  $2b + 2 = 2$ 이며, 연립하면  $b = 2, c = -2$ 임을 알 수 있다.

II)  $b = 0$

이때  $f(x)$ 는  $0 \leq x < 2$ 에서 감소,  $x \geq 2$ 에서 상수함수이다.  
 이 사실과 ㉠, ㉡을 이용하면 (1)~(4)의 범위에서 다음을 알 수 있다.  
 (1)  $t$ 는 감소,  $f(x)$ 는 일정  $\rightarrow f(t)$ 는 일정  
 (2)  $t$ 와  $f(x)$  둘 다 감소  $\rightarrow f(t)$ 는 증가  
 (3)  $t$ 는 증가,  $f(x)$ 는 감소  $\rightarrow f(t)$ 는 감소  
 (4)  $t$ 는 증가,  $f(x)$ 는 일정  $\rightarrow f(t)$ 는 일정  
 ㉠에 의해  $f(g(0)) = 4$ 이고 (1)의 범위에서  $f(t)$ 는 일정하므로  
 $0 \leq x \leq 1$ 인 모든  $x$ 에 대하여  $f(g(x)) = 4$ 이다.  
 따라서  $f(g(x)) = 4$ 를 만족시키는 실수  $x$ 가 무수히 많으므로 조건과 모순이다.

III)  $b < 0$

이때  $f(x)$ 는 양의 실수 전체의 집합에서 감소한다.  
 이 사실과 ㉠, ㉡을 이용하면 (1)~(4)의 범위에서 다음을 알 수 있다.  
 (1)  $t$ 와  $f(x)$  둘 다 감소  $\rightarrow f(t)$ 는 증가  
 (2)  $t$ 와  $f(x)$  둘 다 감소  $\rightarrow f(t)$ 는 증가  
 (3)  $t$ 는 증가,  $f(x)$ 는 감소  $\rightarrow f(t)$ 는 감소  
 (4)  $t$ 는 증가,  $f(x)$ 는 감소  $\rightarrow f(t)$ 는 감소  
 따라서 양의 실수 전체에서  $f(t)$ 의 증감 변화는 1 번이다.  
 ㉠에 의해  $f(g(0)) = 4$ 이고 (4)의 범위에서  $f(g(k)) = 4$ 인  $k$ 가 하나 존재하므로 방정식  $f(g(x)) = 4$ 의 서로 다른 실근은 3 개이며, 이는 조건에 모순이다.

I), II), III)에서  $b > 0$ 일 때만 조건을 만족시키며, 이때  $a = 4, b = 2, c = -2$ 이다. 따라서 세 상수  $a, b, c$ 의 곱  $abc = -16$ 이다.

(I)에서의 [증명]

(2) 또는 (3)의 범위에서 방정식  $f(g(x)) = 4$ 의 해를 1 개는 가져야 하는 상황이다.  
 (2)의 범위와 (3)의 범위를 합치면  $(1, \sqrt{5})$ 이다. 이 범위 안에 있는  $k$ 에 대하여  $g(k) = p$ 이고  $f(p) = 4$ 라고 하자.  
 $g(x) = |x^2 - 3| \geq 0$ 이므로  $p \geq 0$ 이다.  
 $p > 0$ 인 경우와  $p < 0$ 인 경우로 나누어 생각해 보자.

$\langle p > 0$  일 때  $\rangle$

$|x^2 - 3| = p$ 에서  $x^2 - 3 = \pm p$ 이며,  $x^2 - 3 = p$ 일 경우  $x = \sqrt{3+p}$ ,  $x^2 - 3 = -p$ 일 경우  $x = \sqrt{3-p}$ 이다.

$k$ 의 범위가  $1 < k < \sqrt{5}$ 임을 생각하면,  $0 < p < 2$ 이고 이에 따라  $1 < \sqrt{3-p} < \sqrt{3}$ ,  $\sqrt{3} < \sqrt{3+p} < \sqrt{5}$ 이다.  
 따라서 (2)의 범위에 들어가는 해인  $x = \sqrt{3-p}$ 와 (3)의 범위에 들어가는 해인  $x = \sqrt{3+p}$ 가 나오고 ㉠에 의해  $x = -\sqrt{3-p}, x = -\sqrt{3+p}$ 역시 해가 될 수 있으며 앞에서 (1), (4)의 범위에서 근을 3 개 구했기 때문에 방정식  $f(g(x)) = 4$ 의 서로 다른 실근의 개수가 7이 된다. 이는 조건에 모순이다.

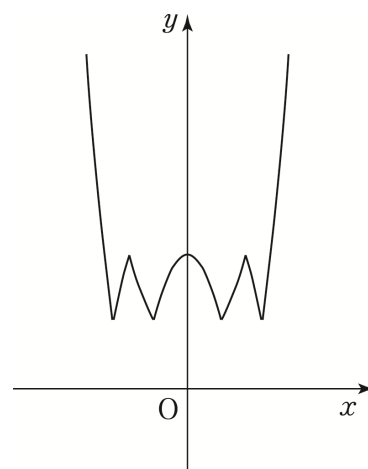
$\langle p = 0$  일 때  $\rangle$

위의 논리에서  $\sqrt{3-p} = \sqrt{3+p} = \sqrt{3}$ 이 된다.  
 따라서 (3)의 범위에 들어가는 해인  $x = \sqrt{3}$ 이 나오고 ㉠에 의해  $x = -\sqrt{3}$ 역시 해가 될 수 있으며 앞에서 (1), (4)의 범위에서 근을 3 개 구했기 때문에 방정식  $f(g(x)) = 4$ 의 서로 다른 실근의 개수가 5가 된다.

따라서  $p = 0$ 일 때, 다시 말해  $x = \sqrt{3}$ 에서 해를 가질 때만 조건을 만족시킬 수 있다.

[참고 1]

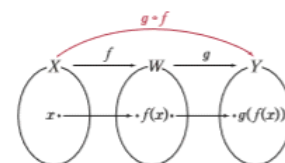
정답 상황의 그래프 개형을 나타내면 다음과 같다.  
 (I)의 상황 중 (2), (3)의 범위에서  $x = \sqrt{3}$ 만을 해로 갖는 경우)



[참고 2]

<2009 개정 교육과정 수학 2> 81p, 신항균 외 11명, 지학사

●  $X$ 의 각 원소  $x$ 에  $Y$ 의 원소  $y = g(f(x))$ 가 하나씩만 대응하므로 이 대응은 함수가 된다. 따라서 이 대응은 집합  $X$ 를 정의역, 집합  $Y$ 를 공역으로 하는 함수가 된다. 일반적으로 두 함수  $f: X \rightarrow W, g: W \rightarrow Y$ 에 대하여 집합  $X$ 의 임의의 원소  $x$ 에 집합  $Y$ 의 원소  $g(f(x))$ 를 대응시키면  $X$ 를 정의역,  $Y$ 를 공역으로 하는 새로운 함수를 얻는다. 이 함수를 함수  $f$ 와  $g$ 의 합성함수라고 하며, 이것을 기호로  $g \circ f$ 와 같이 나타낸다.



# 수학 영역(나형)

22) [정답] 56 (출제자 : 17 김정빈)

[출제의도] 간단한 조합의 계산을 할 수 있는가?

[해설]

$${}_8C_3 = \frac{8 \times 7 \times 6}{1 \times 2 \times 3} = 56$$

23) [정답] 31 (출제자 : 18 이현준)

[출제의도] 간단한 다항함수의 미분을 할 수 있는가?

[해설]

$f(x) = 2x^2 + 7x + 6$ 의 양변을  $x$ 에 대하여 미분하면

$$f'(x) = 4x + 7 \text{ 이다.}$$

$x$ 에 6를 대입하면

$$f'(6) = 4 \times 6 + 7$$

$$= 31$$

따라서 구하는 값은 31이다.

24) [정답] 240 (출제자 : 17 김도훈)

[출제의도] 이항정리를 이용하여 주어진 항의 계수를 구할 수 있는가?

[해설]

이항정리를 이용하여 다항식  $(1 - 2x^2)^6$ 의 일반항을 구하면

$${}_6C_r \times (-2)^r \times x^{2r} \quad (0 \leq r \leq 6) \text{ 이므로}$$

이 다항식에는 짝수차항만 존재한다.

그러므로 주어진  $x^9$ 의 계수를 구하는 것은

다항식  $(1 - 2x^2)^6$ 의 전개식에서  $x^8$ 의 계수와

다항식  $(1 + x)$ 에서  $x$ 의 계수인 1의 곱을 구하는 것과 같다.

다항식  $(1 - 2x^2)^6$ 의 전개식에서  $x^8$ 의 계수는

다항식  $(1 - 2x^2)^6$ 의 일반항인  ${}_6C_r \times (-2)^r \times x^{2r}$ 에서

$r = 4$ 인 경우이다.

따라서 주어진  $x^9$ 의 계수를 구하면  ${}_6C_4 \times (-2)^4 = 15 \times 16 = 240$ 이다.

25) [정답] 41 (출제자 : 18 김성찬)

[출제의도] 함수의 연속에 대해 알고 있는가?

[해설]

함수  $f(x)$ 가 실수 전체의 집합에서 연속이면

$$\lim_{x \rightarrow 1^-} f(x) = f(1) \text{ 이다.}$$

$$\therefore 2 = 1 + a + b \quad \dots \textcircled{1}$$

또한  $f(x) = f(x+2)$ 이므로

$$f(0) = f(2) = \lim_{x \rightarrow 2^-} f(x) \text{ 이다.}$$

$$\therefore 1 = 4 + 2a + b \quad \dots \textcircled{2}$$

식 ①과 ②를 연립하여 풀면  $a = -4$ ,  $b = 5$ 이다.

$$\therefore a^2 + b^2 = 41$$

26) [정답] 27 (출제자 : 17 김정빈)

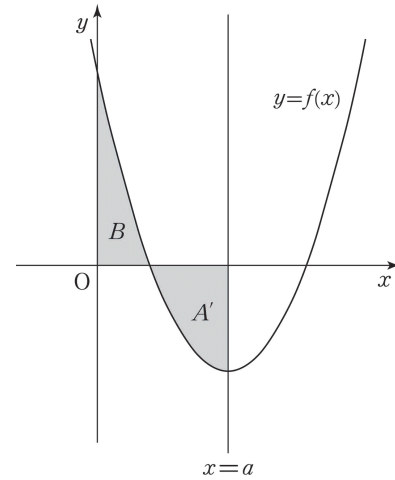
[출제의도] 정적분과 함수의 성질을 이용하여 함수의 그래프로 둘러싸인 도형의 넓이와 적분의 관계를 파악할 수 있는가?

[해설]

함수  $f(x)$ 의 그래프는 직선  $x = a$ 에 대해서 대칭이므로

도형  $A$ 와 직선  $x = a$ 로 둘러싸인 도형 중 왼쪽 도형을  $A'$ 이라 하면

$A'$ 의 넓이는  $A$ 의 넓이의  $\frac{1}{2}$ 배이다. 이는  $B$ 의 넓이와 같다.



$B$ 의 넓이와  $A'$ 의 넓이가 같으므로  $\int_0^a f(x) dx = 0$ 임을 알 수 있다.

정리하면

$$\begin{aligned} \int_0^a \{(x-a)^2 - 9\} dx &= \int_0^a (x^2 - 2ax + a^2 - 9) dx \\ &= \left[ \frac{1}{3}x^3 - ax^2 + (a^2 - 9)x \right]_0^a = \frac{a^3}{3} - 9a = 0 \end{aligned}$$

에서  $a^3 - 27a = a(a^2 - 27) = 0$ 이다.

$a > 3$ 이므로  $a = 3\sqrt{3}$ 이고, 따라서  $a^2 = 27$ 이다.

27) [정답] 16 (출제자 : 14 서재현)

[출제의도] 모집단과 표본집단 사이의 관계를 알고, 모평균의 추정을 할 수 있는가?

[해설]

농가에서 생산하는 레몬의 무게의 표준편차를  $\sigma$ 라고 하면, 레몬의 무게는 정규분포  $N(m, \sigma^2)$ 를 따른다.

이 농가에서 생산한 레몬 중 임의추출한  $n$ 개의 레몬의 무게의 표본평균

$\bar{X}$ 는  $N\left(m, \left(\frac{\sigma}{\sqrt{n}}\right)^2\right)$ 을 따른다.

표본평균  $\bar{X}$ 의 값을  $\bar{x}$ 라 하면

표본평균  $\bar{x}$ 와 표본표준편차  $s$ 의 값이 32임을 이용해서

모평균  $m$ 에 대한 신뢰도 95%의 신뢰구간을 구할 수 있다.

모평균  $m$ 에 대한 신뢰도 95%의 신뢰구간은

$$\bar{x} - 1.96 \times \frac{\sigma}{\sqrt{n}} \leq m \leq \bar{x} + 1.96 \times \frac{\sigma}{\sqrt{n}} \text{ 이다.}$$

표본의 크기가 충분히 크면  $\sigma = s$ 로 대체 가능하므로

$$\bar{x} - 1.96 \times \frac{\sigma}{\sqrt{n}} \leq m \leq \bar{x} + 1.96 \times \frac{\sigma}{\sqrt{n}}$$

$$\Rightarrow \bar{x} - 1.96 \times \frac{32}{\sqrt{n}} \leq m \leq \bar{x} + 1.96 \times \frac{32}{\sqrt{n}} \text{ 이다.}$$

따라서  $a = \bar{x} - 1.96 \times \frac{32}{\sqrt{n}}$ ,  $b = \bar{x} + 1.96 \times \frac{32}{\sqrt{n}}$ 이다.

$$b - a = 2 \times 1.96 \times \frac{32}{\sqrt{n}} = 3.92 \times \frac{32}{\sqrt{n}} \leq 31.36 \text{ 을 만족하는}$$

$n$ 의 최솟값은 16이다.



# 수학 영역(나형)

28) [정답] 12 (출제자 : 17 문혁준)

[출제의도] 주어진 상황을 해석하고 그 확률을 계산할 수 있는가?

[해설]

맨 처음 상태에서 A 와 B 의 점수를 합하면 16 점이다.

A 와 B 의 점수의 합의 변화를 기준으로 볼 때, 한 번 게임을 하면 다음의 3 가지 경우가 가능하다.

(1) 진 사람의 점수가 4 점 이상일 경우

이긴 사람은 2 점을 얻고, 진 사람은 4 점을 잃으므로 A 와 B 의 점수의 합은 2 점 낮아진다.

(2) 진 사람의 점수가 2 점일 경우

이긴 사람은 2 점을 얻고 진 사람은 2 점을 잃으므로 A 와 B 의 점수의 합은 그대로이다.

(3) 진 사람의 점수가 0 점일 경우

이긴 사람은 2 점을 얻고 진 사람의 점수에는 변화가 없다.

따라서 A 와 B 의 점수의 합은 2 점 높아진다.

(1)의 경우를 '-2', (2)의 경우를 '0', (3)의 경우를 '+2'라 하자.

게임을 4 번 한 결과 두 사람의 점수의 합이 16 점에서 10 점이 되었으므로 6 점이 감소했다.

만약 +2 가 단 한 번이라도 있었다면, 남은 3 번 안에 8 점을 감소시켜야 하는데 이는 불가능하다.

따라서 주어진 상황에서 +2 의 경우는 일어나지 않는다.

이제 -2 와 0 을 이용해 두 사람의 점수의 합을 6 점 감소시키면 된다. 이것이 가능한 경우는 -2 가 3 번, 0 이 1 번 있는 경우이다.

'0'이 1 번 있어야 하므로 2 점일 때 패배하는 순간이 1 번 있어야 한다. 따라서 최대 3 번의 게임을 거친 후 A 와 B 둘 중 한 명은 2 점이 되어야 하는데, 시작할 때 A 와 B 둘 다 8 점으로 시작하므로 게임을 1 번 또는 2 번 해서는 2 점을 만들 수가 없다.

3 번째 게임이 끝났을 때, 순서에 상관없이 1 승 2 패를 하면 2 점이 되고 마지막 4 번째 게임에서 2 점인 사람이 지면 조건을 충족시키게 된다.

A 가 2 점이 되는 경우로 생각해 확률을 계산하자.

3 번 게임을 한 결과 A 가 1 승 2 패가 될 확률은

$${}^3C_1 \times \left(\frac{1}{2}\right)^3 = \frac{3}{8} \text{ 이고, 마지막 게임에서 A 가 질 확률은 } \frac{1}{2} \text{ 이므로}$$

$$\text{이때의 확률은 } \frac{3}{8} \times \frac{1}{2} = \frac{3}{16} \text{ 이다.}$$

A 가 2 점이 되는 경우도 있지만 B 가 2 점이 되는 경우도 있으므로

$$k = \frac{3}{16} \times 2 = \frac{3}{8} \text{ 이다.}$$

$$\text{따라서 } 32k \text{ 의 값은 } 32 \times \frac{3}{8} = 12 \text{ 이다.}$$

29) [정답] 5 (출제자 : 18 안동우)

[출제의도] 구간에 따른 함수의 그래프를 추론하여 극대 또는 극소를 구할 수 있는가?

[해설]

i)  $h(x) = (x-8t)(x^2-4tx+16)$  이라 하자.

$$h'(x) = 3x^2 - 24tx + 16 + 32t^2$$

$$\frac{D}{4} = (12t)^2 - 3 \times (16 + 32t^2) = 48t^2 - 48$$

i-1)  $0 < t \leq 1$  일 때

$\frac{D}{4} \leq 0$  이므로 방정식  $h'(x) = 0$  은 실근을 갖지 않거나 중근을 갖는다. 따라서 함수  $h(x)$  는 극댓값과 극솟값을 모두 갖지 않는다.

i-2)  $1 < t$  일 때

$0 < \frac{D}{4}$  이므로 방정식  $h'(x) = 0$  은 서로 다른 두 실근을 갖는다. 따라서 함수  $h(x)$  는 극댓값과 극솟값을 하나씩 갖는다. 이때,  $x = a_1$  에서 극댓값을 가지고  $x = a_2$  에서 극솟값을 갖는다고 하자.

ii)  $i(x) = x^2 - 4tx + 16$  이라 하자.

$i(8t) = 32t^2 + 16 > 0$  이므로 방정식  $i(x) = 0$  은 방정식  $x - 8t = 0$  과 공통근을 갖지 않는다.

따라서 방정식  $h(x) = 0$  의 근의 개수는 (방정식  $i(x) = 0$  의 근의 개수) + 1 이다.

방정식  $i(x) = 0$  의 판별식을 구하면

$$\frac{D}{4} = (2t)^2 - 16 = 4t^2 - 16 \text{ 이다.}$$

ii-1)  $0 < t < 2$  일 때

$\frac{D}{4} < 0$  이므로 방정식  $i(x) = 0$  은 실근을 갖지 않는다.

따라서 방정식  $h(x) = 0$  은  $x = 8t$  에서만 한 실근을 갖는다.

ii-2)  $t = 2$  일 때

$\frac{D}{4} = 0$  이므로 방정식  $i(x) = 0$  은

$x = \alpha$  ( $\alpha \neq 8t$ ) 에서 중근을 갖는다.

따라서  $h(x) = 0$  은  $x = 8t$ ,  $x = \alpha$  에서 서로 다른 두 실근을 갖는다.

ii-3)  $2 < t$  일 때

$0 < \frac{D}{4}$  이므로 방정식  $i(x) = 0$  은

$x = \beta$ ,  $x = \gamma$  ( $\beta, \gamma \neq 8t$ ) 에서

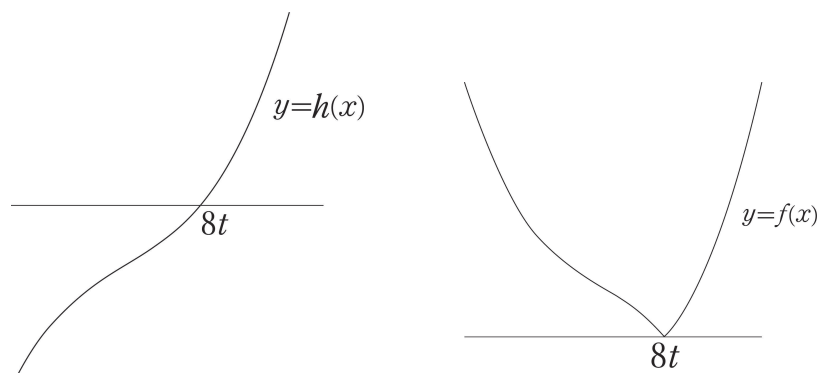
서로 다른 두 실근을 갖는다.

따라서 방정식  $h(x) = 0$  은  $x = 8t$ ,  $x = \beta$ ,  $x = \gamma$  에서 서로 다른 세 실근을 가진다.

i), ii)를 통해 다음과 같은 사실을 알 수가 있다.

①  $0 < t \leq 1$  일 때

함수  $y = h(x)$  와  $y = f(x)$  의 개형은 다음과 같다.

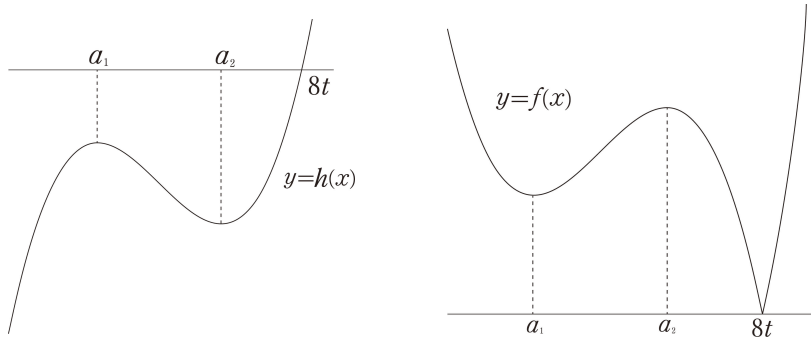


따라서 함수  $f(x)$  는  $x = 8t$  에서만 극솟값을 갖는다.

# 수학 영역(나형)

②  $1 < t < 2$  일 때

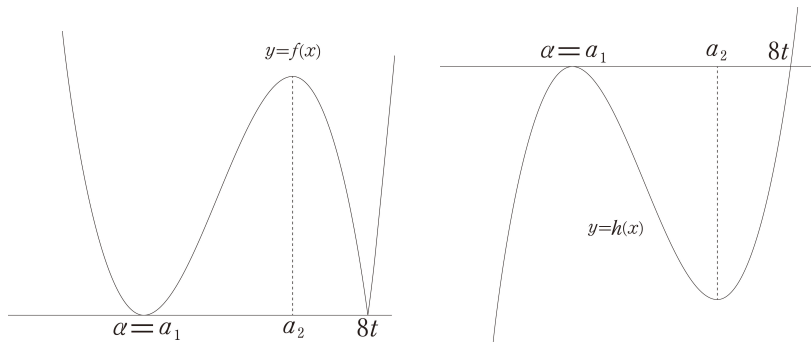
함수  $y = h(x)$ 와  $y = f(x)$ 의 개형은 다음과 같다.



따라서  $x = a_1, x = a_2, x = 8t$ 에서 극댓값 또는 극솟값을 갖는다.

③  $t = 2$  일 때

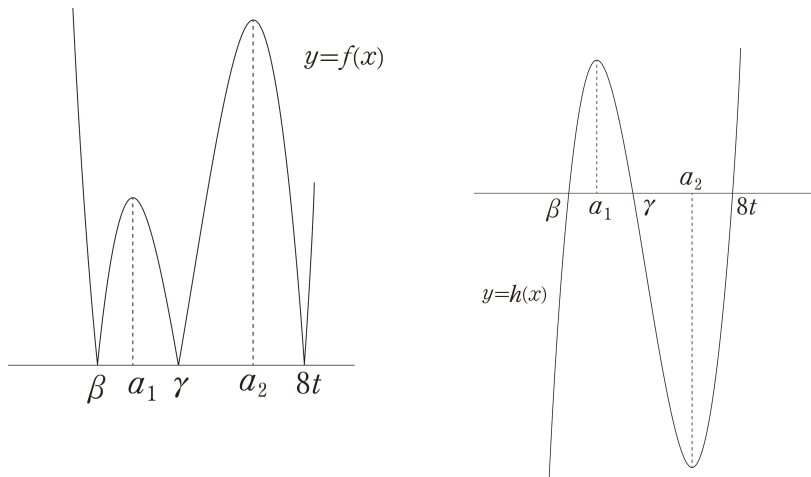
함수  $y = h(x)$ 와  $y = f(x)$ 의 개형은 다음과 같다.



따라서  $x = \alpha, x = a_2, x = 8t$ 에서 극댓값 또는 극솟값을 갖는다.

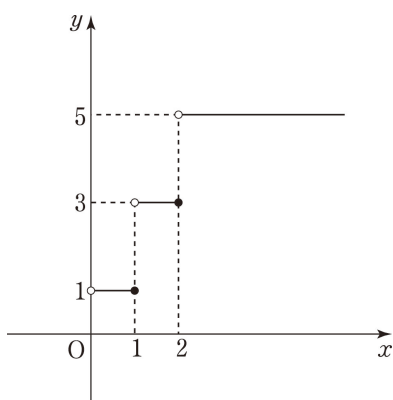
④  $2 < t$  일 때

함수  $y = h(x)$ 와  $y = f(x)$ 의 개형은 다음과 같다.



따라서  $x = \beta, x = \gamma, x = a_1, x = a_2, x = 8t$ 에서 극댓값 또는 극솟값을 갖는다.

①, ②, ③, ④에 의해서 함수  $g(t)$ 의 그래프는 다음과 같다.



방정식  $g(t) = mt$ 의 서로 다른 실근의 개수가 3이 되도록 하는 모든 실수  $m$ 의 범위는  $\frac{3}{2} \leq m < \frac{5}{2}$  이므로 방정식  $g(t) = mt$ 의 서로 다른 실근의 개수가 3이 되도록 하는 실수  $m$ 의 최솟값은  $\frac{3}{2}$ 이다.

$\therefore p = 2, q = 3$  이므로  $p + q = 5$

30) [정답] 20 (출제자 : 18 안동우)

[출제의도] 주어진 조건과 평균값 정리를 응용하여 함수의 그래프를 추론할 수 있는가?

[해설]

사차함수  $f(x)$ 는 실수 전체의 집합에서 미분가능한 함수이므로 함수  $f(x)$ 는 정수  $n$ 에 대하여 닫힌 구간  $[n, n+1]$ 에서 연속이고 열린 구간  $(n, n+1)$ 에서 미분가능하다.

따라서 평균값 정리에 의해서  $\frac{f(n+1) - f(n)}{(n+1) - n} = f'(c)$ 인  $c$ 가 열린 구간  $(n, n+1)$ 에 적어도 하나 존재하므로 함수  $g(n)$ 의 최솟값은 1이다. ... ①

함수  $f(x)$ 는 사차함수이므로  $f'(x)$ 는 삼차함수이다. 따라서  $f(n+1) - f(n) = f'(c) = k$ 라 할 때, 삼차방정식  $f'(x) = k$ 는 서로 다른 실근을 최대 3개 가질 수 있다.

따라서  $f(n+1) - f(n) = f'(c)$ 인  $c$ 의 개수는 최대 3개이므로 함수  $g(n)$ 의 최댓값은 3이다. ... ②

(나) 조건에서 방정식  $g(n) = n+1$ 을 만족시키는 서로 다른 정수  $n$ 의 개수는 3이다.

①, ②에 의해  $1 \leq g(n) \leq 3$ 이고

$n > 2$ 일 때  $n+1 > 3$ 이고  $n < 0$ 일 때  $n+1 < 1$ 이므로

두 열린 구간  $(-\infty, 0), (2, \infty)$ 에서 방정식  $g(n) = n+1$ 을 만족시키는 정수  $n$ 은 존재하지 않는다.

따라서 방정식  $g(n) = n+1$ 을 만족시키는 서로 다른 정수  $n$ 의 개수가 3이 되기 위해서는  $n = 0, 1, 2$ 에서 방정식을 만족시켜야 한다.

따라서  $g(0) = 1, g(1) = 2, g(2) = 3$ 이다.

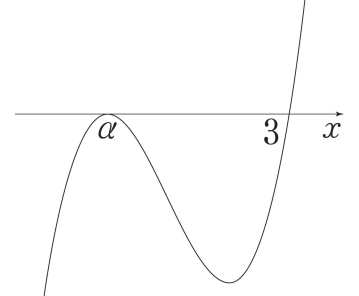
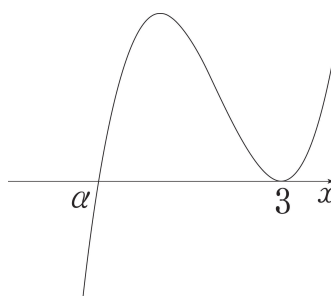
$g(1) = 2$ 이므로  $f(2) - f(1) = f'(c)$ 을 만족시키는 모든 실수  $c$ 의 개수는 2이다.

(가) 조건에 의해서  $c = 3$ 일 때  $f(2) - f(1) = f'(c)$ 을 만족시키고 평균값 정리에 의해서  $f(2) - f(1) = f'(c)$ 를 만족시키는  $c = \alpha$ 가 열린 구간  $(1, 2)$ 에 존재한다.

따라서 방정식  $f'(x) = 0$ 을 만족시키는 실근은  $x = \alpha, 3$ 뿐이므로 함수  $f'(x)$ 의 그래프는 다음 두 가지 개형을 가질 수 있다.

i)  $x = \alpha$ 를 중근으로 가질 때

ii)  $x = 3$ 을 중근으로 가질 때



## 수학 영역(나형)

i)의 경우 닫힌 구간  $[1, 2]$  에서  $f'(x) \leq 0$  이므로

함수  $f(x)$  는 닫힌 구간  $[1, 2]$  에서 감소한다.

따라서  $f(2) - f(1) = 0$  을 만족시킬 수 없다.

ii)의 경우 방정식  $f'(x) = 0$  은  $x = 3$  을 중근으로 가지므로

함수  $f(x)$  는  $(x-3)^3(x-a) + C$  라는 것을 알 수가 있다. (단,  $a, C$  는 상수이고  $a \neq 3$  이다.) ... ([보충] 참고)

$f(2) - f(1) = 0$  이므로

$$\{(2-3)^3(2-a) + C\} - \{(1-3)^3(1-a) + C\} = -7a + 6 = 0$$

따라서  $a = \frac{6}{7}$  이므로  $f(x) = (x-3)^3\left(x - \frac{6}{7}\right) + C$

$$\therefore f(0) - f(4) = \frac{162}{7} - \frac{22}{7} = 20$$

[보충]

$f(3) = C$ ,  $h(x) = f(x) - C$  라 가정하자. (단  $C$  는 상수이다.)

$h(3) = f(3) - C = 0$  이므로 함수  $h(x) = (x-3)Q(x)$  라 할 수 있다.

$C$  는 상수이므로  $h'(x) = f'(x) = Q(x) + (x-3)Q'(x)$  이다.

방정식  $f'(x) = 0$  은  $x = 3$  을 중근으로 가지므로

$$f'(3) = h'(3) = 0 \text{ 이다.}$$

$h'(3) = Q(3) = 0$  이므로  $Q(x) = (x-3)R(x)$  라 할 수 있다.

$$Q'(x) = R(x) + (x-3)R'(x) \text{ 이므로}$$

$$h'(x) = Q(x) + (x-3)Q'(x)$$

$$= (x-3)\{2R(x) + (x-3)R'(x)\}$$

방정식  $h'(x) = 0$  은  $x = 3$  을 중근으로 가지므로

$$2R(3) + (3-3)R'(3) = 2R(3) = 0 \text{ 이다.}$$

최고차항의 계수가 1 인 사차식을 최고차항의 계수가 1 인 일차식으로 나눈 몫이  $Q(x)$  이므로  $Q(x)$  는 최고차항의 계수가 1 인 삼차식이고,  $Q(x)$  를 최고차항의 계수가 1 인 일차식으로 나눈 몫이  $R(x)$  이므로  $R(x)$  는 최고차항의 계수가 1 인 이차식이다.

따라서  $R(3) = 0$  이므로  $R(x) = (x-3)(x-a)$  라 할 수 있다.

$$h'(x) = (x-3)\{2R(x) + (x-3)R'(x)\}$$

$$= (x-3)^2\{3(x-a) + (x-3)\}$$

방정식  $h'(x) = 0$  은  $x = 3$  을 중근으로 가진다.

즉,  $3(3-a) + (3-3) = 3(3-a) \neq 0$  이므로  $a$  는 3 이 아닌 실수이다.

따라서  $f(x) = (x-3)^3(x-a) + C$  이고  $a \neq 3$  이다.