



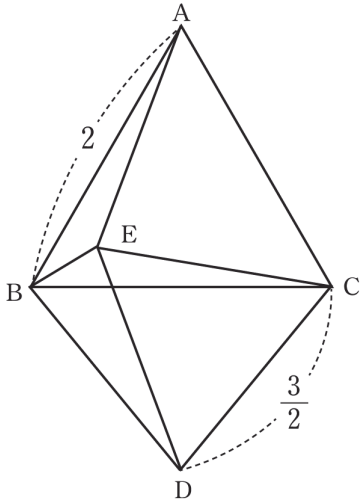
오르비
수학
N제

smart is sexy

Orbi

08 <Idea>

그림과 같이 두 정삼각형 ABC, EDC의 한 변의 길이는 각각 2, $\frac{3}{2}$ 이고 두 선분 DB, DE의 길이가 같다.



<보기>에서 옳은 것만을 있는 대로 고른 것은?
(단, 다섯 점 A, B, C, D, E는 모두 한 평면 위에 있다.)

[4점]

<보기>

ㄱ. 두 삼각형 ACE, BCD는 합동이다.

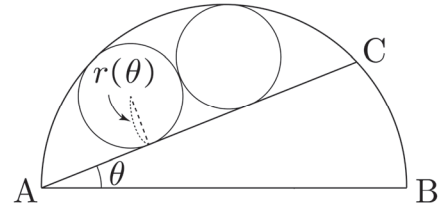
ㄴ. $\angle ABE = \frac{\pi}{6}$

ㄷ. $\sin \angle BEC = \frac{2}{3}$

- ① ㄱ ② ㄷ ③ ㄱ, ㄴ
④ ㄴ, ㄷ ⑤ ㄱ, ㄴ, ㄷ

09

그림과 같이 길이가 2인 선분 AB를 지름으로 하는 반원의 호 위에 $\angle BAC = \theta (0 < \theta < \frac{\pi}{2})$ 가 되도록 점 C를 잡는다. 서로 외접하고 반지름의 길이가 $r(\theta)$ 로 같은 두 원이 모두 호 AC와 선분 AC에 접할 때, $\lim_{\theta \rightarrow \frac{\pi}{2}^-} \frac{r(\theta)}{\left(\frac{\pi}{2} - \theta\right)^2}$ 의 값을 a 라 하자. $100a$ 의 값을 구하시오. [4점]



10 <Idea>

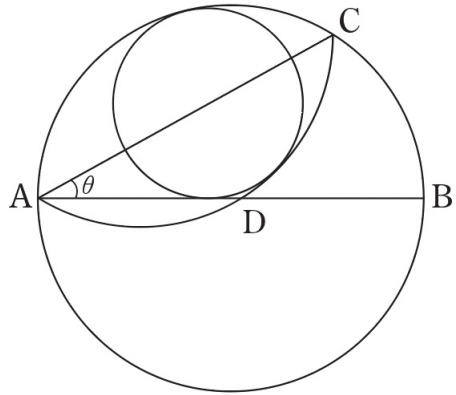
$0 < k < \frac{\pi}{2}$ 인 상수 k 와 실수 t 에 대하여 직선 $y = t$ 와 곡선 $y = \sin x - (\cos k)x$ 가 만나는 점의 개수가 t 의 값에 상관없이 항상 5일 때, $\tan k - k$ 의 값은? [4점]

- ① $\frac{7}{3}\pi$ ② 2π ③ $\frac{5}{3}\pi$ ④ $\frac{4}{3}\pi$ ⑤ π

11

그림과 같이 길이가 2인 선분 AB를 지름으로 하는 원이 있다. $\angle CAB = \theta$ ($0 < \theta < \frac{\pi}{2}$)를 만족시키는 원 위의 점 C와 A를 이은 선분 AC에 의해 잘린 원의 두 부분 중 작은 부분을 선분 AC에 대하여 대칭시킨 도형이 선분 AB와 만나는 점을 D라 할 때, 선분 AB와 두 호 AC, CD에 동시에 접하는 원의 반지름을 $r(\theta)$ 라 하자.

$\lim_{\theta \rightarrow 0^+} \frac{r(\theta)}{\theta}$ 의 값을 구하시오. [4점]



28 <Killer>

$0 < a < 1$ 이고 $b > 0$ 인 두 상수 a, b 와 함수

$f(x) = ax^2 + bx - \{\ln(|x| + 1)\}^2$ 에 대하여 곡선

$y = f(x)$ 위의 점 $(t, f(t))$ 에서의 접선의 방정식을

$y = g(x)$ 라 하자. 함수

$$h(x) = \begin{cases} f(x) & (x < t) \\ g(x) & (x \geq t) \end{cases}$$

가 다음 조건을 만족시킬 때, $f'(t) = \alpha + \ln\beta$ 이다. $\alpha + \beta$ 의 값을 구하시오. (단, $2 < e$ 이고 α 와 β 는 유리수이다.)

[4점]

집합 $S = \{x \mid h'(x) = m\}$ 의 원소의 개수가 2가 되도록 하는 실수 m 의 값은 오직 0 뿐이며, 이 때 집합 S 는 $\{1, k\}$ 이다.

07 정답 : ⑤

점 A 와 점 B 에서 x 축에 내린 수선의 발을 각각 A' , B' 이라 하자. $\overline{PB} = 2\overline{PA}$ 이므로 $\overline{BB'} = 2\overline{AA'}$
 ($\because \triangle PAA'$, $\triangle PBB'$ 은 AA 닮음) 이고 두 점 A 와 B 는 곡선 $y = \log_3 x$ 위의 점이므로 점 A 의 x 좌표를
 a ($0 < a < 5$)라 하면 점 B 의 x 좌표는 a^2 이다.

또한 $\overline{PB'} = 2\overline{PA'}$ 이므로 $a^2 - 5 = 2(5 - a)$ $a^2 + 2a - 15 = 0$, $(a + 5)(a - 3) = 0 \therefore a = 3$

점 B 의 좌표가 B(9, 2) 이므로 $m = \frac{1}{2}$ 이다.

08 정답 : ⑤

ㄱ. $\overline{EC} = \overline{DC} = \frac{3}{2}$, $\overline{BC} = \overline{AC} = 2$, $\angle ACE = \frac{\pi}{3} - \angle ECB = \angle BCD$ 이므로 $\triangle ACE \equiv \triangle BCD$ (SAS 합동)

(참)

ㄴ. ㄱ.의 합동에 의하여 $\overline{AE} = \overline{BD}$ 이고

$\overline{BD} = \overline{ED} = \frac{3}{2}$ (\because 이등변삼각형 BDE, 정삼각형 EDC) 이므로 $\overline{AE} = \frac{3}{2}$ 이다.

그런데 \overline{EC} 역시 $\frac{3}{2}$ 이므로 $\overline{EC} = \overline{AE}$.

이는 직선 BE가 $\angle ABC$ 를 이등분함을 뜻한다.

따라서 ㄴ. 역시 (참)

(혹은 위의 조건들로부터 두 삼각형 ABE, CBE의 SSS 합동을 통해 $\angle ABE = \angle CBE$ 임을 알 수 있다.)

ㄷ. $\angle BEC = \angle BED + \angle CED = \angle BED + \frac{\pi}{3}$ 이다.

$\triangle BDE$ 는 이등변삼각형이므로 $\angle BED = \angle EBD = \frac{\pi}{6} + \angle CBD$ 이다.

(\because ㄴ.에서 $\angle ABE = \frac{\pi}{6}$ 이므로 $\angle CBE = \frac{\pi}{3} - \frac{\pi}{6} = \frac{\pi}{6}$)

따라서 $\angle BEC = \angle CBD + \frac{\pi}{2}$ 이므로

$\sin \angle BEC = \cos \angle CBD = \frac{\frac{2}{3}}{\frac{3}{2}} = \frac{2}{3}$ 이다. (참)

09 정답 : 25

반원의 중심을 O , 조그만 원 두 개의 중심을 왼쪽에서부터 각각 O_1, O_2 , 이 원 두 개의 접점을 D 라 하자.
먼저 선분 OO_1 의 길이는 $1 - r(\theta)$ 이고 선분 O_1D 의 길이는 $r(\theta)$ 이다.

또한 현 AC 의 중점을 M 이라 하면, 선분 OD 의 길이는 두 선분 DM, MO 의 길이의 합으로 나타낼 수 있는데, 두 선분의 길이가 각각 $r(\theta), \sin\theta$ 이므로 선분 OD 의 길이는 $r(\theta) + \sin\theta$ 이다.

직각삼각형 OO_1D 에서 피타고라스의 정리를 적용시키면 $(1 - r(\theta))^2 = (r(\theta))^2 + (r(\theta) + \sin\theta)^2$ 이고,
위 방정식을 $r(\theta)$ 에 대하여 정리하면
 $r(\theta) = \sqrt{2 + 2\sin\theta} - (1 + \sin\theta)$ 이다.

따라서
$$\lim_{\theta \rightarrow \frac{\pi}{2}^-} \frac{r(\theta)}{\left(\frac{\pi}{2} - \theta\right)^2} = \lim_{t \rightarrow 0^+} \frac{\sqrt{2 + 2\cos t} - (1 + \cos t)}{t^2}$$
 이고,

분모와 분자에 $\sqrt{2 + 2\cos t} + (1 + \cos t)$ 를 곱해서 유리화해준 후 극한값을 계산해주면 $\frac{1}{4}$ 이 나온다.

따라서 $100a = 25$.

10 정답 : ②

$f(x) = \sin x - (\cos k)x$ 라 하자.

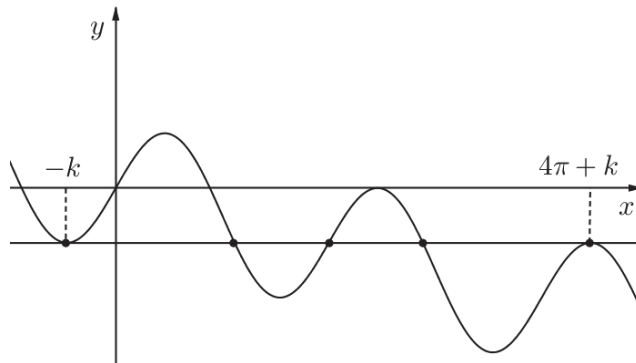
$f'(x) = \cos x - \cos k$ 이므로, 극대 또는 극소인 x 적어보면 $x = -k, k, 2\pi - k, 2\pi + k, 4\pi - k, 4\pi + k, \dots$ 순으로 생긴다.

직선 $y = t$ 와 곡선 $y = \sin x - (\cos k)x$ 가 만나는 점의 개수가 t 의 값에 상관없이 항상 5 라는 조건을 x 축에 평행한 모든 직선이 $f(x)$ 와 5개의 만나는 점을 가진다는 것을 의미하므로, $f(x)$ 와 접하면서 x 축과 평행한 어떤 직선은 다음과 같이 그려져야 한다.

(추가설명) $f(x + 2\pi) = \sin(x + 2\pi) - (\cos k)(x + 2\pi) = f(x) - 2\pi \cos k$ 이므로

$f(x)$ 위에 어떤 점 (a, b) 가 있다면 $f(x)$ 위에는 점 $(a + 2\pi, b - 2\pi \cos k)$ 도 반드시 있다는 것을 알 수 있다.

즉, 2π 간격으로 똑같은 그래프 모양이 y 값은 전체적으로 $-2\pi \cos k$ 만큼 내려가면서 생겨남을 알 수 있겠다.



따라서 위와 같이 곡선이 생긴다면 $f(x)$ 와 접하면서 x 축과 평행한 모든 직선은 곡선 $y = f(x)$ 와 5번 만나게 된다.
(그림에서 그려진 직선을 위아래로 움직여보자.)

따라서 $f(x)$ 가 극소일 때 ($x = -k$)그은 접선이 그 다음으로 생기는 3번째 극대인 점 ($x = 4\pi + k$)에서 곡선 $y = f(x)$ 와 접할 때, 모든 실수 t 에서 $g(t) = 5$ 를 만족시킨다.

즉, $f(-k) = f(4\pi + k)$ 일 때 이므로 $\sin(-k) - (\cos k)(-k) = \sin(4\pi + k) - (\cos k)(4\pi + k)$ 이다.

이를 정리하면

$$\sin k - k \cos k = 2\pi \cos k, \quad \cos k \neq 0 \text{이고,}$$

양변에 $\cos k$ 를 나누면 $\tan k - k = 2\pi$ 임을 알 수 있다.

11 정답 : 2

두 호 AC, CD로 둘러싸인 도형은 선분 AC에 대하여 대칭인 도형이므로, 이 두 호에 동시에 접하는 작은 원 역시 선분 AC에 대하여 대칭이어야 한다. 이러한 사실은 작은 원의 중심이 선분 AC 위에 있음을 알려준다.

이 원의 중심을 O' , 선분 AB를 지름으로 하는 큰 원의 중심을 O , 이 두 원의 접점을 E라 하자.

그러면 내접하는 두 원의 성질상 선분 OE 위에 O' 이 있으므로 선분 OO' 의 길이는 $1 - r(\theta)$ 이다.

점 O' 에서 AB에 내린 수선의 발을 H라 하면, 이 점은 작은 원과 선분 AB의 접점과 동일한 점이다. 따라서 $\overline{O'H} = r(\theta)$.

삼각형 $OO'H$ 는 직각삼각형이므로 피타고라스의 정리에 의하여 $\overline{OH} = \sqrt{1 - 2r(\theta)}$ 이고, 따라서 선분 $\overline{AH} = 1 - \sqrt{1 - 2r(\theta)}$.

$$\text{직각삼각형 } AHO' \text{에서 } \tan \theta = \frac{\overline{HO'}}{\overline{AH}} = \frac{r(\theta)}{1 - \sqrt{1 - 2r(\theta)}}.$$

정리하면

$$r(\theta) - \tan \theta = -\tan \theta \sqrt{1 - 2r(\theta)}, \quad \text{양변 제곱 후 } r(\theta) \text{에 대하여 정리하면}$$

$$\{r(\theta)\}^2 - 2(\tan \theta - \tan^2 \theta)r(\theta) = 0 \text{이고, } r(\theta) \neq 0 \text{이므로 } r(\theta) = 2\tan \theta - 2\tan^2 \theta.$$

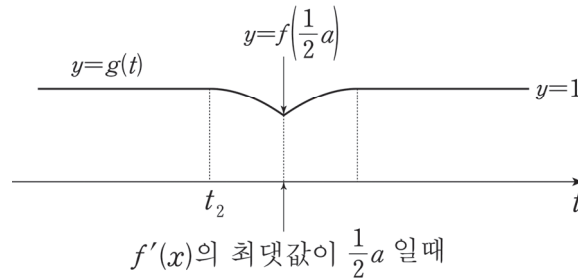
$$\text{따라서 } \lim_{\theta \rightarrow 0^+} \frac{r(\theta)}{\theta} = \lim_{\theta \rightarrow 0^+} \left\{ \frac{2\tan \theta}{\theta} \times (1 - \tan \theta) \right\} = 2 \text{ 이다.}$$

1) $\frac{1}{2}a \geq \frac{\pi}{4a}$ 인 경우

$f(f'(x))$ 의 최댓값은 여전히 1이며 함수 $g(t)$ 는 실수 전체의 집합에서 $g(t)=1$ 인 상수함수가 된다.

2) $\frac{1}{2}a \leq \frac{\pi}{4a}$ 인 경우

구간 $\left[t, t + \frac{4\pi}{3a}\right]$ 에서 $f'(x)$ 의 최댓값이 $\frac{\pi}{4a}$ 가 되도록 하는 실수 t 의 값을 t_2 라 하면 함수 $g(t)$ 의 그래프는 아래 그림과 같다.



위의 그림처럼 $g(t)$ 는 한 점에서 미분불가능하고, 이 점은 2π 의 주기로 반복된다.

$a \leq \frac{\pi}{4a}$ 라면 위의 $a \geq \frac{\pi}{4a}$ 이고 $\frac{1}{2}a \leq \frac{\pi}{4a}$ 인 경우처럼

구간 $\left[t, t + \frac{4\pi}{3a}\right]$ 에서 $f'(x)$ 의 최댓값이 $\frac{1}{2}a$ 가 되도록 하는 실수 t 에 대하여 미분불가능하다.

따라서 $\frac{1}{2}a \geq \frac{\pi}{4a}$ 이고 a 가 양수이므로 $a^2 \geq \frac{\pi}{2}$ 이다. 따라서 $k^2 = \frac{1}{2}\pi$ 이므로 답은 3이다.

28 정답 : 7

먼저 $f'(x)$ 를 구해 보자.

$$f(x) = \begin{cases} ax^2 + bx - \{\ln(-x+1)\}^2 & (x < 0) \\ ax^2 + bx - \{\ln(x+1)\}^2 & (x \geq 0) \end{cases}$$

이므로

$$f'(x) = \begin{cases} 2ax + b - \frac{2\ln(-x+1)}{x-1} & (x < 0) \\ 2ax + b - \frac{2\ln(x+1)}{x+1} & (x \geq 0) \end{cases}$$

이다. $f(x)$ 는 $x=0$ 에서도 미분가능하고 $f'(0)=b$ 이다. $h'(x)$ 는 $x < t$ 에서는 $f'(x)$ 와 같고, $x \geq t$ 에서는 $f'(t)$ (상수)와 같다. 이제 $f'(x)$ 그래프의 개형을 확인하기 위해

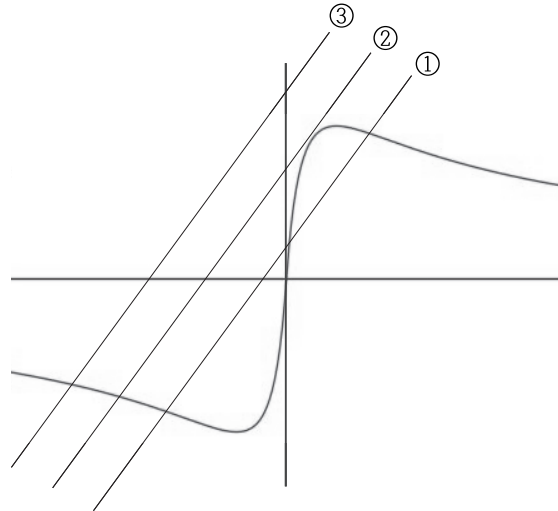
$$y = \begin{cases} \frac{2\ln(-x+1)}{x-1} & (x < 0) \\ \frac{2\ln(x+1)}{x+1} & (x > 0) \end{cases}$$

를 $u(x)$ 라 두고, $u(x)$ 의 그래프와 직선 $y = 2ax + b$ 가 어떻게 만나는지 볼 수 있다.

$u(x)$ 는 원점 대칭인 기함수이며, $x > 0$ 에서는 $x = e - 1$ 에서 극댓값을 가지고, 극대가 된 이후에는 계속 감소하는 함수이다($\lim_{x \rightarrow \infty} \frac{\ln x}{x}$ 의 값은 알지 못하여도 된다).

그리고 a 와 b 는 양수이므로 $u(x)$ 의 그래프와 직선 $y = 2ax + b$ 는 아래의 [그림 1]과 같이 나타날 수 있다. ($x < 0$ 인 구간에서는 반드시 1번 만난다.)

가능한 경우들을 ①, ②, ③으로 나누어 살펴보자.



[그림 1] $u(x)$ 의 그래프와 직선 $y = 2ax + b$

그 전에 중요한 것이 더 남아 있다. 문제에서 제시된 조건인 a 의 범위 $0 < a < 1$ 은 문제를 해결하는 데에 매우 중요한 조건이다. $u(x)$ 의 도함수

$$u'(x) = \frac{2}{(|x|+1)^2} \{1 - \ln(|x|+1)\}$$

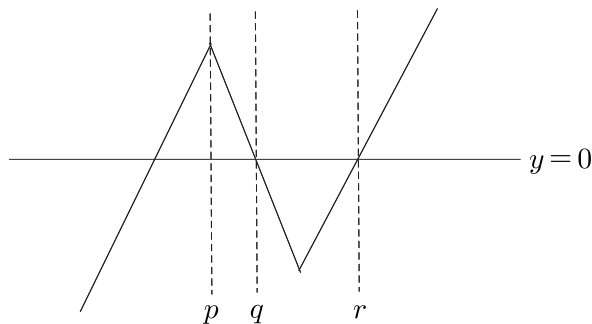
는 y 축에 대하여 대칭인 우함수이며, $x = 0$ 에서 최댓값 2를 갖는다.

a 의 범위 $0 < a < 1$ 에 의해 직선 $y = 2ax + b$ 의 기울기 $2a$ 가 2보다 작기 때문에, $f'(x)$ 는 두 개의 극값을 가지게 된다.

(참고로 이것은 ①, ②의 경우가 존재하기 위해서 필요한 조건이기도 하다.)

(1) ①의 경우

이 경우에 $f'(x)$ 의 그래프는 대략적으로 [그림 2]와 같이 나타난다.



[그림 2] ①의 경우 $f'(x)$ 의 그래프, p 는 $f'(x)$ 가 극대가 되는 x 이고, q, r 은 x 절편이다.

이제, 표기의 편의상 $m = k$ 일 때 집합 S 를 S_k 라 하자.

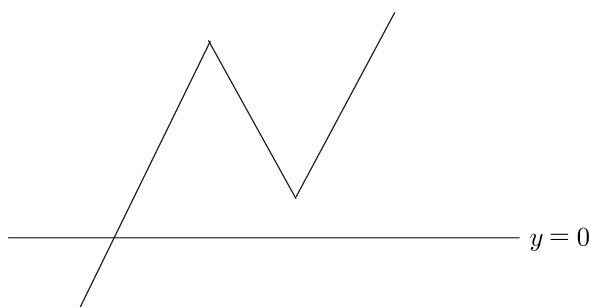
(즉, $S_k = \{x \mid h'(x) = k\}$)

$h'(x)$ 는 $x < t$ 에서는 $f'(x)$ 와 같고, $x \geq t$ 에서는 $f'(t)$ (상수)와 같다는 사실을 다시 한 번 상기하자. 여기에서 S_0 의 원소의 개수가 2가 되기 위해서는 t 의 범위가 $q < t < r$ 이어야 한다. 그런데 $q < t < r$ 일 때에는 $f'(t) < m < f'(p)$ 인 임의의 m 에 대하여 S_m 의 원소의 개수가 2가 된다.

따라서 ①은 가능한 경우가 아니다.

(2) ③의 경우

이 경우에 $f'(x)$ 의 그래프는 대략적으로 [그림 3]과 같이 나타난다.



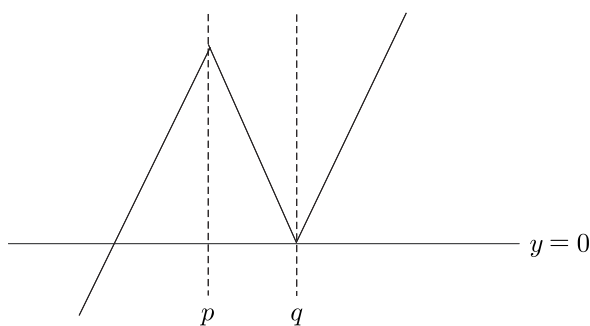
[그림 3] ③의 경우 $f'(x)$ 의 증감을 나타낸 그래프

여기에서는 임의의 t 에 대하여 S_0 의 원소의 개수가 2가 될 수 없다.

따라서 ③은 가능한 경우가 아니다.

(3) ②의 경우

이 경우에 $f'(x)$ 의 그래프는 대략적으로 [그림 4]와 같이 나타난다.



[그림 4] ②의 경우 $f'(x)$ 의 그래프, p 는 $f'(x)$ 가 극대가 되는 x 이고, q 는 x 절편이다.

여기에서 S_0 의 원소의 개수가 2가 되기 위해서는 t 의 범위가 $t > q$ 이어야 한다. 그런데 $f'(t) < f'(p)$ 라면 $f'(t) < m < f'(p)$ 인 임의의 m 에 대해 S_m 의 원소의 개수가 2가 되어 0이 아닌 m 이 존재하여 모순이고 $f'(t) > f'(p)$ 라면 $m = f'(t) (\neq 0)$ 일 때 S_m 의 원소의 개수가 2가 되도록 하는 0이 아닌 m 이 존재하여 마찬가지로 모순이다.

따라서 $f'(t) = f'(p)$ 이어야 한다.

이것을 정리하면 다음과 같다.

직선 $y = 2ax + b$ 는 $u(x)$ 의 그래프에 접해야 하며, $f'(t) = f'(p)$ 이어야 한다.

직선 $y = 2ax + b$ 가 $u(x)$ 의 그래프에 접하는 것부터 고려해 보자. $S_0 = \{1, k\}$ 이므로, 직선 $y = 2ax + b$ 는 $x = 1, x = k$ 에서 $u(x)$ 의 그래프와 만나며, $x = 1$ 일 때 접하므로 $2a = u'(1)$ 이다. 여기서 e 의 범위 $2 < e$ 을 준 까닭을 알 수 있다. 접점의 x 좌표는 $u(x)$ 가 극대가 되는 x 인 $e - 1$ 보다 작아야 하기 때문이다. 실제로 문제에서 준 접점의 x 좌표인 1은 $e - 1$ 보다 작다. $2a = u'(1)$ 이므로

$$u'(1) = \frac{1}{2}(1 - \ln 2) = 2a \Rightarrow a = \frac{1}{4}(1 - \ln 2)$$

이고, $2a + b = u(1)$ 이므로

$$u(1) = \ln 2 = 2a + b \Rightarrow b = -\frac{1}{2} + \frac{3}{2}\ln 2$$

이다. 이로써 $f(x)$ 를 완전히 구하였다.

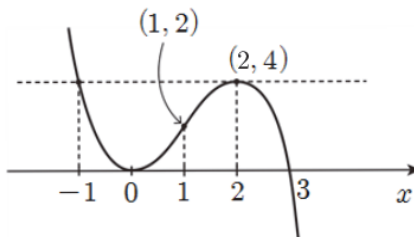
이제 $f'(t) = f'(p)$ 인 것을 생각해 보자. 여기서 p 는 $f'(x)$ 가 극대가 되는 x 라는 것을 다시 한 번 상기하자. 즉, $u'(x) = 2a$ 를 만족시키는 1이 아닌 x 이다. 그런데 $u'(x)$ 는 우함수이므로, $p = -1$ 이 됨을 바로 알 수 있다. 따라서

$$f'(t) = f'(-1) = -2a + b + \ln 2 = -1 + 3\ln 2$$

이고 $\alpha = -1, \beta = 2^3 = 8$ 이므로 $\alpha + \beta = 7$ 이다.

29 정답 : 216

- ① 먼저 $f(x) = -x^3 + 3x^2$ 의 그래프를 그리자. 극점과 변곡점을 조사해 그려보면, $x = 0, 2$ 에서 극점을 가지고, $x = 1$ 에서 변곡점이다.



- ② 이제 어떤 미분가능한 함수 $g(x)$ 에 대하여 $t \geq -4$ 에서 주어진 $h(x)$ 의 관계식에 의해 다음 세 가지의 경우가 가능하다.
- (1) $h(x) = f(x)$
 - (2) $h(x) = f(x - g(t)) - t$
 - (3) $h(x)$ 가 $f(x), f(x - g(t)) - t$ 가 번갈아 나오기.
- (a) (1)의 경우엔 조건 (다)에 모순이다.
 (b) (2)의 경우엔, 일단 $f(x)$ 를 x 축 방향으로 $g(t)$, y 축 방향으로 $-t$ 만큼 평행이동 했다는 의미인데, 이것도 조건(다)에 모순이다.
 (c) 따라서 번갈아 나오는 것 밖에 안된다.