

파급의 기출효과



cafe.naver.com/spreadeffect

파급의 기출효과 NAVER 카페

기출의 파급효과 시리즈는 기출 분석서입니다. 기출의 파급효과 시리즈는 국어, 수학, 영어, 물리학 1, 화학 1, 생명과학 1, 사회·문화가 예정되어 있습니다.

준킬러 이상 기출에서 얻어갈 수 있는 '꼭 필요한 도구와 태도'를 정리합니다.

'꼭 필요한 도구와 태도' 체화를 위해 관련도가 높은 준킬러 이상 기출을 바로바로 보여주며 체화 속도를 높입니다. 단시간 내에 점수를 극대화할 수 있도록 교재가 설계되었습니다.

학습하시다 질문이 생기신다면 '파급의 기출효과' 카페에서 질문을 할 수 있습니다.

교재 인증을 하시면 질문 게시판을 이용하실 수 있습니다.

기출의 파급효과 팀 소속 오르비 저자분들이 올리시는 학습자료를 받아보실 수 있습니다.

위 저자 분들의 콘텐츠 질문 답변도 교재 인증 시 가능합니다.

더 궁금하시다면 <https://cafe.naver.com/spreadeffect/15>에서 확인하시면 됩니다.

제 2 교시

수학 영역

5 지선 다형

1. $(3\sqrt{3})^{\frac{1}{3}} \times 3^{\frac{3}{2}}$ 의 값은? [2점]

- ① 1 ② $\sqrt{3}$ ③ 3 ④ $3\sqrt{3}$ ⑤ 9

$$3^{\frac{1}{2}} \times 3^{\frac{3}{2}} = 9 \quad \text{⑤}$$

2. 함수 $f(x) = x^3 + 2x^2 + 3x + 4$ 에 대하여 $f'(-1)$ 의 값은? [2점]

- ① 1 ② 2 ③ 3 ④ 4 ⑤ 5

$$f'(x) = 3x^2 + 4x + 3 \quad \text{②}$$

$$3 - 4 + 3 = 2$$

3. 등차수열 $\{a_n\}$ 에 대하여

$$a_4 = 6, \quad 2a_7 = a_{10}$$

일 때, a_1 의 값은? [3점]

- ① 1 ② 2 ③ 3 ④ 4 ⑤ 5

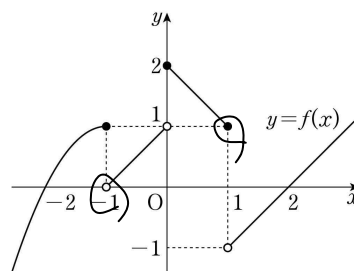
$$a + 3d = 6 \quad \text{④}$$

$$2a + 12d = a + 10d$$

$$a = 6d \quad d = \frac{2}{3}$$

$$6 \times \frac{2}{3} = 4$$

4. 함수 $y = f(x)$ 의 그래프가 그림과 같다.



$\lim_{x \rightarrow -1^+} f(x) + \lim_{x \rightarrow 1^-} f(x)$ 의 값은? [3점]

- ① -2 ② -1 ③ 0 ④ 1 ⑤ 2

④

5. $\frac{\pi}{2} < \theta < \pi$ 인 θ 에 대하여 $\cos\theta \tan\theta = \frac{1}{2}$ 일 때, $\cos\theta + \tan\theta$ 의 값은? [3점]

$$\sin\theta = \frac{1}{2}$$

- ① $-\frac{5\sqrt{3}}{6}$ ② $-\frac{2\sqrt{3}}{3}$ ③ $-\frac{\sqrt{3}}{2}$
 ④ $-\frac{\sqrt{3}}{3}$ ⑤ $-\frac{\sqrt{3}}{6}$

① $-\frac{\sqrt{2}}{2} - \frac{\sqrt{3}}{3} = -\frac{5}{6}\sqrt{3}$

6. 함수 $f(x) = 2x^2 - 3x + 5$ 에서 x 의 값이 a 에서 $a+1$ 까지 변할 때의 평균변화율이 7이다. $\lim_{h \rightarrow 0} \frac{f(a+2h) - f(a)}{2h}$ 의 값은? (단, a 는 상수이다.) [3점]

- ① 6 ② 8 ③ 10 ④ 12 ⑤ 14

$$7 = \frac{f(a+1) - f(a)}{(a+1) - (a)}$$

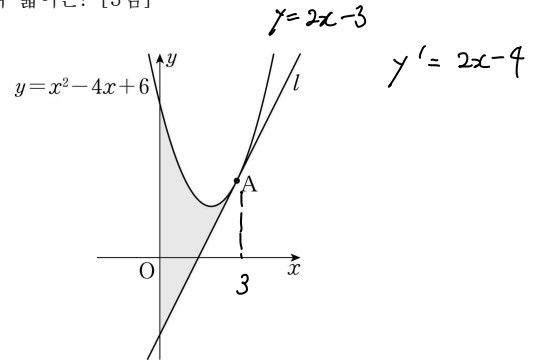
$$7 = \frac{2(a+1)^2 - 3(a+1) - 2a^2 + 3a}{1}$$

$$7 = 4a - 1 \quad a = 2$$

$$f'(x) = 4x - 3 \quad \text{③}$$

$$f'(2) = 5$$

7. 그림과 같이 곡선 $y = x^2 - 4x + 6$ 위의 점 $A(3, 3)$ 에서의 접선을 l 이라 할 때, 곡선 $y = x^2 - 4x + 6$ 과 직선 l 및 y 축으로 둘러싸인 부분의 넓이는? [3점]



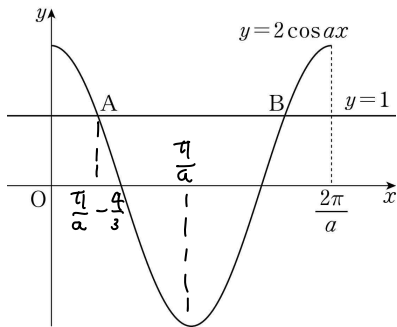
- ① $\frac{26}{3}$ ② 9 ③ $\frac{28}{3}$ ④ $\frac{29}{3}$ ⑤ 10

② $\int_0^3 (x^2 - 6x + 9) dx$
 $= \left[\frac{1}{3}x^3 - 3x^2 + 9x \right]_0^3$
 $= 9$

8. 그림과 같이 양의 상수 a 에 대하여 곡선

$y=2\cos ax$ ($0 \leq x \leq \frac{2\pi}{a}$)와 직선 $y=1$ 이 만나는 두 점을 각각

A, B라 하자. $\overline{AB} = \frac{8}{3}$ 일 때, a 의 값은? [3점]



- ① $\frac{\pi}{3}$
- ② $\frac{5\pi}{12}$
- ③ $\frac{\pi}{2}$
- ④ $\frac{7\pi}{12}$
- ⑤ $\frac{2\pi}{3}$

③

$$1 = 2 \cos a \left(\frac{\pi}{a} - \frac{4}{3} \right)$$

$$\frac{1}{2} = \cos \left(\pi - \frac{4}{3} a \right)$$

$$\pi - \frac{4}{3} a = \frac{\pi}{3} \quad a = \frac{2\pi}{3}$$

9. 수직선 위를 움직이는 점 P의 시각 t ($t \geq 0$)에서의 속도 $v(t)$ 가

$$v(t) = 3t^2 + at = 3t^2 - 12t$$

이다. 시각 $t=0$ 에서의 점 P의 위치와 시각 $t=6$ 에서의 점 P의 위치가 서로 같을 때, 점 P가 시각 $t=0$ 에서 $t=6$ 까지 움직인 거리는? (단, a 는 상수이다.) [4점]

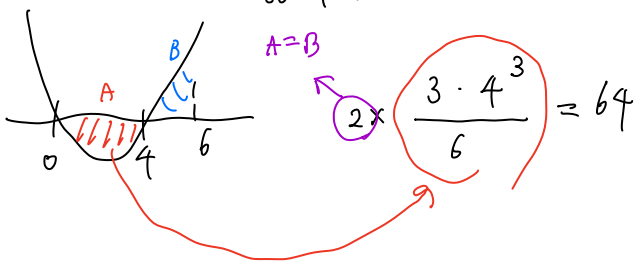
- ① 64
- ② 66
- ③ 68
- ④ 70
- ⑤ 72

①

$$\int_0^6 (3t^2 + at) dt = 0$$

$$\left[t^3 + \frac{a}{2} t^2 \right]_0^6 = 0$$

$$216 + 18a = 0 \quad a = -12$$



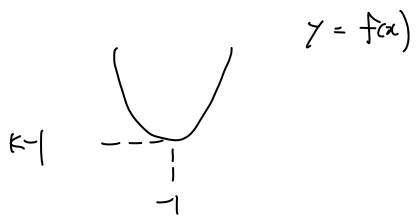
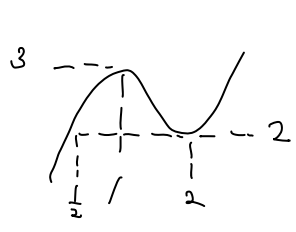
10. 두 함수

$$f(x) = x^2 + 2x + k, \quad g(x) = 2x^3 - 9x^2 + 12x - 2$$

에 대하여 함수 $(g \circ f)(x)$ 의 최솟값이 2가 되도록 하는 실수 k 의 최솟값은? [4점]

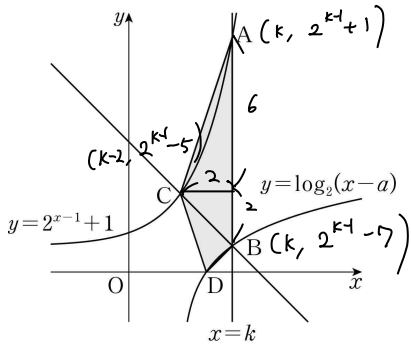
- ① 1
- ② $\frac{9}{8}$
- ③ $\frac{5}{4}$
- ④ $\frac{11}{8}$
- ⑤ $\frac{3}{2}$

$$g(x) = 6x^2 - 18x + 12$$



$$k-1 \geq \frac{1}{2} \quad k \geq \frac{3}{2}$$

11. 그림과 같이 두 상수 a, k 에 대하여 직선 $x=k$ 가 두 곡선 $y=2^{x-1}+1, y=\log_2(x-a)$ 와 만나는 점을 각각 A, B라 하고, 점 B를 지나고 기울기가 -1 인 직선이 곡선 $y=2^{x-1}+1$ 과 만나는 점을 C라 하자. $\overline{AB}=8, \overline{BC}=2\sqrt{2}$ 일 때, 곡선 $y=\log_2(x-a)$ 가 x 축과 만나는 점 D에 대하여 사각형 ACDB의 넓이는? (단, $0 < a < k$) [4점]



- ① 14 ② 13 ③ 12 ④ 11 ⑤ 10

$$2^{k-1} - 5 = 2^{k-3} + 1$$

⑤

$$\frac{3}{4} \cdot 2^{k-1} = 6$$

$$2^{k-1} = 8 \quad k=4$$

$$B(4, 1) \quad l = \log_2(4-a)$$

$$D(3, 0) \quad a=2$$

$$6 + \frac{3}{2} \cdot 3 - \frac{1}{2} = 10$$

12. $a > 2$ 인 상수 a 에 대하여 함수 $f(x)$ 를

$$f(x) = \begin{cases} (x-1)(x-3) & (x \leq 2) \\ x^2 - 4x + 3 & (x \leq 2) \\ -x(x-a) & (x > 2) \\ -x^2 + ax & (x > 2) \end{cases}$$

라 하자. 최고차항의 계수가 1인 삼차함수 $g(x)$ 에 대하여 실수 전체의 집합에서 연속인 함수 $h(x)$ 가 다음 조건을 만족시킬 때, $h(1)+h(3)$ 의 값은? [4점]

(가) $x \neq 1, x \neq a$ 일 때, $h(x) = \frac{g(x)}{f(x)}$ 이다.

(나) $h(1) = h(a)$

- ① $-\frac{15}{6}$ ② $-\frac{7}{3}$ ③ $-\frac{13}{6}$ ④ -2 ⑤ $-\frac{11}{6}$

$f(x)$ 가 $x=2$ 에서 연속이라면

$$f(2) = -1 = -2(2-a) \Rightarrow a = \frac{3}{2} \text{ 이므로 모순!}$$

따라서 $h(x)$ 가 $x=2$ 에서 연속이라면 $g(2)=0$

$$\lim_{x \rightarrow 2} \frac{g(x)}{(x-1)(x-3)} = \lim_{x \rightarrow 2} \frac{g(x)}{-x(x-a)}$$

$$g(x) = (x-1)(x-a)(x-2)$$

$$\frac{-\cancel{(1-a)}}{-2} = \frac{\cancel{(a-2)}}{-a}$$

$$2a-4 = a$$

$$a=4 \quad g(x) = (x-1)(x-2)(x-4)$$

$$h(1) = -\frac{3}{2}$$

$$h(3) = \frac{g(3)}{f(3)} = \frac{-2}{3}$$

$$-\frac{3}{2} - \frac{2}{3} = -\frac{9+4}{6} = -\frac{13}{6}$$

13. 첫째항이 양수인 등차수열 $\{a_n\}$ 의 첫째항부터 제 n 항까지의 합을 S_n 이라 하자.

$$|S_3| = |S_6| = |S_{11}| - 3$$

을 만족시키는 모든 수열 $\{a_n\}$ 의 첫째항의 합은? [4점]

- ① $\frac{31}{5}$ ② $\frac{33}{5}$ ③ 7 ④ $\frac{37}{5}$ ⑤ $\frac{39}{5}$

① (1) $S_3 + S_6 = 0 \quad (S_3 > 0, S_6 < 0)$

$$9a + 18d = 0$$

$$d = -\frac{1}{2}a$$

$$S_3 = \frac{3}{2}a \quad |S_{11}| = \frac{33}{2}a$$

$$S_3 = |S_{11}| - 3 \Rightarrow \frac{3}{2}a = \frac{33}{2}a - 3 \Rightarrow \boxed{a = \frac{1}{5}}$$

(2) $S_3 = S_6$

$$a_5 = 0 \quad a + 4d = 0 \quad d = -\frac{1}{4}a$$

$$S_3 = 3 \times a_2 = \frac{9}{4}a$$

$$S_{11} = 11 \times a_6 = -\frac{11}{4}a$$

$$S_3 = |S_{11}| - 3 \Rightarrow \frac{9}{4}a = \frac{11}{4}a - 3 \Rightarrow \boxed{a = 6}$$

$$\frac{1}{5} + 6 = \frac{31}{5}$$

14. 두 함수

$$f(x) = x^3 - kx + 6, \quad g(x) = 2x^2 - 2$$

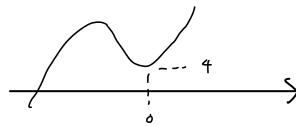
에 대하여 <보기>에서 옳은 것만을 있는 대로 고른 것은?

[4점]

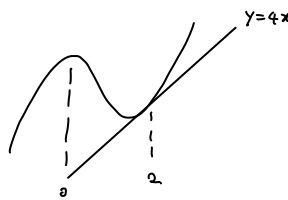
- < 보 기 >
- ㉠ $k=0$ 일 때, 방정식 $f(x)+g(x)=0$ 은 오직 하나의 실근을 갖는다.
- ㉡ 방정식 $f(x)-g(x)=0$ 의 서로 다른 실근의 개수가 2가 되도록 하는 실수 k 의 값은 4뿐이다.
- ㉢ 방정식 $|f(x)|=g(x)$ 의 서로 다른 실근의 개수가 5가 되도록 하는 실수 k 가 존재한다.

- ① ㉠ ② ㉠, ㉡ ③ ㉠, ㉢
 ④ ㉡, ㉢ ⑤ ㉠, ㉡, ㉢

7. $x^3 + 2x^2 + 4 = 0$ ②



㉡. $x^3 - 2x^2 + 8 = kx$



㉢. $|f(x)|, g(x)$ 의 교점은 $|x| \geq 1$ 에서만 존재,
 $|x| < 1$ 에서 $|f(x)| \geq 0 > g(x)$ 이기 때문.

$x^3 + 2x^2 + 4 = kx$ ($k=7$ 일 때 $x=1$ 에서 접함)	$k > 7$	3
	$k=7$	2
	$k < 7$	1
$x^3 - 2x^2 + 8 = kx$ ($k=4$ 일 때 $x=2$ 에서 접함)	$k > 4$	3
	$k=4$	2
	$k < 4$	1

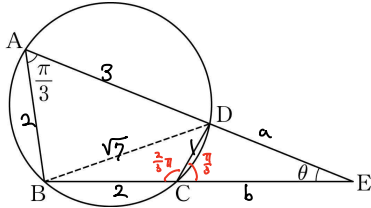
$y = x^3 + 2x^2 + 4, y = x^3 - 2x^2 + 8$ 의 교점 $x = \pm 1$

따라서 $k=7$ 이더라도 교점은 5개가 될 수 없다.

15. 그림과 같이 원에 내접하는 사각형 ABCD에 대하여

$$\overline{AB} = \overline{BC} = 2, \overline{AD} = 3, \angle BAD = \frac{\pi}{3}$$

이다. 두 직선 AD, BC의 교점을 E라 하자.



다음은 $\angle AEB = \theta$ 일 때, $\sin \theta$ 의 값을 구하는 과정이다.

삼각형 ABD와 삼각형 BCD에서 코사인법칙을 이용하면
 $\overline{CD} = \text{(가)}$
 이다. 삼각형 EAB와 삼각형 ECD에서
 $\angle AEB$ 는 공통, $\angle EAB = \angle ECD$
 이므로 삼각형 EAB와 삼각형 ECD는 닮음이다.
 이를 이용하면 $a + 3 = 2b$, $2a = b + 2$, $a = \frac{2}{3}$, $b = \frac{3}{3}$
 $\overline{ED} = \text{(나)}$
 이다. 삼각형 ECD에서 사인법칙을 이용하면
 $\sin \theta = \frac{\text{(다)}}{14}$, $\frac{1}{\sin \theta} = \frac{7}{\sin \frac{\pi}{3}}$, $\sin \theta = \frac{3\sqrt{3}}{14}$
 이다.

위의 (가), (나), (다)에 알맞은 수를 각각 p, q, r라 할 때, $(p+q) \times r$ 의 값은? [4점]

- ① $\frac{\sqrt{3}}{2}$ ② $\frac{4\sqrt{3}}{7}$ ③ $\frac{9\sqrt{3}}{14}$ ④ $\frac{5\sqrt{3}}{7}$ ⑤ $\frac{11\sqrt{3}}{14}$

④ $\frac{10}{3} \cdot \frac{3\sqrt{3}}{14} = \frac{5\sqrt{3}}{7}$

단답형

16. $\frac{\log_5 72}{\log_5 2} - 4 \log_2 \frac{\sqrt{6}}{2}$ 의 값을 구하시오. [3점]

$$\log_2 72 - \log_2 36 + 4 = 5$$

5

17. $\int_{-3}^2 (2x^3 + 6|x|) dx - \int_{-3}^{-2} (2x^3 - 6x) dx$ 의 값을 구하시오.

[3점]

24

$$\int_0^2 2x^3 + 6x dx + \int_{-3}^0 2x^3 - 6x dx + \int_{-2}^{-3} 2x^3 - 6x dx$$

↓

$$\int_{-2}^0 2x^3 - 6x dx$$

$$2 \int_0^2 6x dx = 12 \left[\frac{1}{2} x^2 \right]_0^2 = 24$$

$$\frac{1}{3} (3^5 - 1)$$

18. 부등식 $\sum_{k=1}^5 2^{k-1} < \sum_{k=1}^n (2k-1) < \sum_{k=1}^5 (2 \times 3^{k-1})$ 을 만족시키는 모든 자연수 n 의 값의 합을 구하시오. [3점]

$$3 < n^2 < 242$$

$$n = 6 \sim 15$$

105

$$\frac{15 \times 16}{2} - \frac{5 \times 6}{2} = 105$$

19. 모든 실수 x 에 대하여 부등식

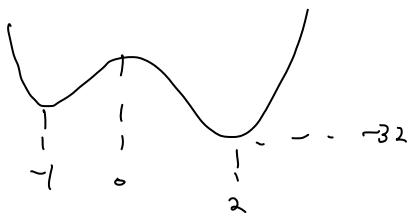
$$3x^4 - 4x^3 - 12x^2 + k \geq 0$$

이 항상 성립하도록 하는 실수 k 의 최솟값을 구하시오. [3점]

$$3x^4 - 4x^3 - 12x^2 \geq -k$$

$$y = 3x^4 - 4x^3 - 12x^2$$

$$y' = 12x(x-2)(x+1)$$



$$-32 \geq -k$$

32

20. 수열 $\{a_n\}$ 은 $1 < a_1 < 2$ 이고, 모든 자연수 n 에 대하여

$$a_{n+1} = \begin{cases} -2a_n & (a_n < 0) \\ a_n - 2 & (a_n \geq 0) \end{cases}$$

을 만족시킨다. $a_7 = -1$ 일 때, $40 \times a_1$ 의 값을 구하시오. [4점]

역으로 추적하다보면 오일러 복잡하다는 것을

풀다보면 알 것이다.

a_1	a_2	a_3	a_4	a_5	a_6
a	$a-2$	$-2a+4$	$-2a+2$	$4a-4$	$4a-6$

$$4a-6 = -1 \quad a = \frac{5}{4}$$

90

21. 상수 k 에 대하여 다음 조건을 만족시키는 좌표평면의 점 $A(a, b)$ 가 오직 하나 존재한다.

- (가) 점 A 는 곡선 $y = \log_2(x+2) + k$ 위의 점이다.
- (나) 점 A 를 직선 $y = x$ 에 대하여 대칭이동한 점은 곡선 $y = 4^{x+k} + 2$ 위에 있다.

$a \times b$ 의 값을 구하시오. (단, $a \neq b$) [4점]

$$\log_2(a+2) + k = b \rightarrow 2^{b-k} - 2 = a$$

$$4^{b+k} + 2 = a$$

$$4^{b+k} - 2^{b-k} + 4 = 0 \quad (b \text{가 동일함, } k \text{는 상수})$$

$2^b = t > 0, 2^k = B > 0$ 로 치환

$$B^2 t^2 - \frac{t}{B} + 4 = 0$$

$$\frac{1}{B^2} = 16 B^2 \rightarrow B = \frac{1}{2} \quad (D=0)$$

$k = -1, t = 4, b = 2, a = 6$

(12)

22. 실수 전체의 집합에서 연속인 함수 $f(x)$ 와 최고차항의 계수가 1이고 상수항이 0인 삼차함수 $g(x)$ 가 있다. 양의 상수 a 에 대하여 두 함수 $f(x), g(x)$ 가 다음 조건을 만족시킨다.

- (가) 모든 실수 x 에 대하여 $x|g(x)| = \int_{2a}^x (a-t)f(t) dt$ 이다.
- (나) 방정식 $g(f(x)) = 0$ 의 서로 다른 실근의 개수는 4이다.

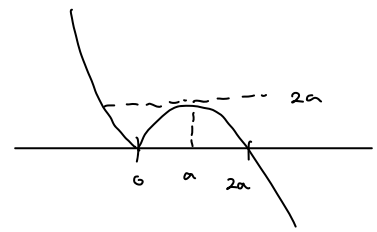
추가설명
 $F(x) = \int_a^x f(t) dt$
 에서 $f(x)$ 가
 연속이면 $F(x)$ 는
 이분가능하다.

$\int_{-2a}^{2a} f(x) dx$ 의 값을 구하시오. [4점]

$x|g(x)|$ 가 이분가능하려면 $g(2a) = 0$ 이므로 $g(x) = x(x-2a)^2$

$$f(x) = \begin{cases} -4x(x-2a) & (x > 0) \\ 4x(x-2a) & (x < 0) \end{cases}$$

$f(k) = 0$ or $f(k) = 2a$ 를 만족하는 k 의 개수가 4이다.
 이르기 위해서는 $f(a) = 2a$



$$f(a) = 2a = 4a^2$$

$$a = \frac{1}{2}$$

$$\int_{-1}^1 f(x) dx = \frac{4 \cdot 1^3}{6} + 4 \cdot \left[\frac{x^3}{3} - \frac{x^2}{2} \right]_{-1}^1$$

$$= \frac{4}{6} + \frac{20}{6} = 4$$

(4)

- * 확인 사항
- 답안지의 해당란에 필요한 내용을 정확히 기입(표기)했는지 확인하시오.
 - 이어서, 「선택과목(확률과 통계)」 문제가 제시되오니, 자신이 선택한 과목인지 확인하시오.

제 2 교시

수학 영역(확률과 통계)

5 지선다형

23. ${}_3P_4$ 의 값은? [2점]

- ① 63 ② 69 ③ 75 ④ 81 ⑤ 87

$3^4 = 81$

④

24. 6개의 숫자 1, 1, 2, 2, 2, 3을 일렬로 나열하여 만들 수 있는 여섯 자리의 자연수 중 홀수의 개수는? [3점]

- ① 20 ② 30 ③ 40 ④ 50 ⑤ 60

②

— — — — — 1

$\frac{5!}{3!} = 20$

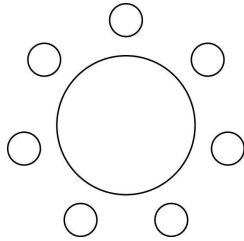
— — — — — 3

$\frac{5!}{3!2!} = 10$

$20 + 10 = 30$

25. A 학교 학생 5명, B 학교 학생 2명이 일정한 간격을 두고 원 모양의 탁자에 모두 둘러앉을 때, B 학교 학생끼리는 이웃하지 않도록 앉는 경우의 수는? (단, 회전하여 일치하는 것은 같은 것으로 본다.) [3점]

- ① 320 ② 360 ③ 400 ④ 440 ⑤ 480

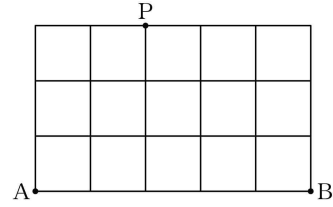


⑤

이웃해도 되는 A학교 학생들을 배치한다,
그 후 B 학교 학생들은 A학교 학생들 사이에 끼워넣는다.

$$4! \times 5 \times 4 = 480$$

26. 그림과 같이 직사각형 모양으로 연결된 도로망이 있다. 이 도로망을 따라 A 지점에서 출발하여 P 지점을 지나 B 지점까지 최단 거리로 가는 경우의 수는? (단, 한 번 지난 도로를 다시 지날 수 있다.) [3점]

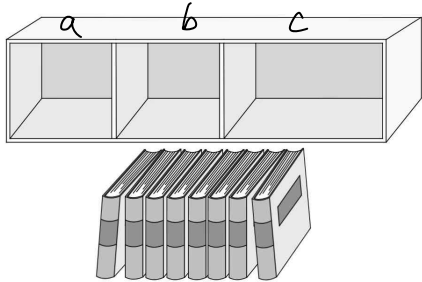


- ① 200 ② 210 ③ 220 ④ 230 ⑤ 240

①

$$\frac{5!}{3!2!} \times \frac{6!}{3!3!} = 10 \times 20 = 200$$

27. 그림과 같이 같은 종류의 책 8권과 이 책을 각 칸에 최대 5권, 5권, 8권을 꽂을 수 있는 3개의 칸으로 이루어진 책장이 있다. 이 책 8권을 책장에 남김없이 나누어 꽂는 경우의 수는? (단, 비어 있는 칸이 있을 수 있다.) [3점]



- ① 31 ② 32 ③ 33 ④ 34 ⑤ 35

$$a + b + c = 8$$

$$\geq 0 \geq 0 \geq 0$$

$$\therefore H_8 = 45$$

불가능한 경우 배제

$$(6 \ 2 \ 0) \quad 2 \times 2 = 4$$

$$(6 \ 1 \ 1) \quad 2 \times 1 = 2$$

$$(7 \ 1 \ 0) \quad 2 \times 2 = 4$$

$$(8 \ 0 \ 0) \quad 2 \times 1 = 2$$

$$45 - 12 = 33$$

③

28. 세 명의 학생 A, B, C에게 서로 다른 종류의 사탕 5개를 다음 규칙에 따라 남김없이 나누어 주는 경우의 수는? (단, 사탕을 받지 못하는 학생이 있을 수 있다.) [4점]

- (가) 학생 A는 적어도 하나의 사탕을 받는다.
(나) 학생 B가 받는 사탕의 개수는 2 이하이다.

- ① 167 ② 170 ③ 173 ④ 176 ⑤ 179

B가 받는 사탕의 개수를 기준으로 상사.

A	B	C	
1	0	4	${}^5C_1 = 5$
2	0	3	${}^5C_2 = 10$
3	0	2	${}^5C_3 = 10$
4	0	1	${}^5C_4 = 5$
5	0	0	${}^5C_5 = 1$

④

31

A	B	C	
1	1	3	${}^5C_1 \times {}^4C_1 = 20$
2	1	2	${}^5C_2 \times {}^3C_1 = 30$
3	1	1	${}^5C_3 \times {}^2C_1 = 20$
4	1	0	${}^5C_4 = 5$

75

A	B	C	
1	2	2	${}^5C_1 \times {}^4C_2 = 30$
2	2	1	${}^5C_2 \times {}^3C_2 = 30$
3	2	0	${}^5C_3 = 10$

70

$$33 + 75 + 70 = 178$$

단답형

개수 a b c d e

29. 두 집합 $X = \{1, 2, 3, 4, 5\}$, $Y = \{-1, 0, 1, 2, 3\}$ 에 대하여 다음 조건을 만족시키는 함수 $f: X \rightarrow Y$ 의 개수를 구하시오.

[4점]

- (가) $f(1) \leq f(2) \leq f(3) \leq f(4) \leq f(5)$
- (나) $f(a) + f(b) = 0$ 을 만족시키는 집합 X 의 서로 다른 두 원소 a, b 가 존재한다.

(1) 최역에 -1 포함

$$a + b + c + d + e = 5 \quad \Rightarrow H_3 = 35$$

$$\geq 1 \geq 1 \geq 1 \geq 1 \geq 1 \quad \Rightarrow 35 + 35 - 5 = 65$$

(2) 최역에 0 2개 이상 포함

$$a + b + c + d + e = 5 \quad \Rightarrow H_3 = 35$$

$$\geq 0 \geq 2 \geq 0 \geq 0 \geq 0 \quad \Rightarrow 65$$

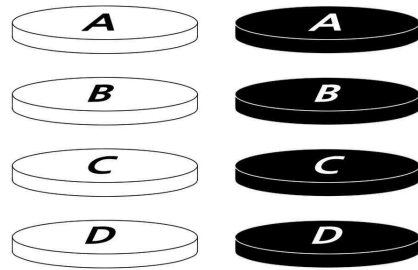
(3) (1), (2) 공통

$$a + b + c + d + e = 5 \quad \Rightarrow H_1 = 5$$

$$\geq 1 \geq 2 \geq 1 \geq 0 \geq 0$$

30. 흰색 원판 4개와 검은색 원판 4개에 각각 A, B, C, D의 문자가 하나씩 적혀 있다. 이 8개의 원판 중에서 4개를 택하여 다음 규칙에 따라 원기둥 모양으로 쌓는 경우의 수를 구하시오. (단, 원판의 크기는 모두 같고, 원판의 두 밑면은 서로 구별하지 않는다.) [4점]

- (가) 선택된 4개의 원판 중 같은 문자가 적힌 원판이 있으면 같은 문자가 적힌 원판끼리는 검은색 원판이 흰색 원판보다 아래쪽에 놓이도록 쌓는다.
- (나) 선택된 4개의 원판 중 같은 문자가 적힌 원판이 없으면 D가 적힌 원판이 맨 아래에 놓이도록 쌓는다.



(1) 같은 문자 X

$$\frac{2^4 \times 3!}{\text{흑/백}} = 96 \quad \Rightarrow 96 + 576 + 36 = 708$$

(2) 같은 문자 0

(i) 같은 문자 1개 (ex. AABC)

$$4 \times \frac{3!}{\text{같은 문자 1개}} \times 2^2 \times \frac{4!}{2!} = 576$$

(ii) 같은 문자 2개

$$4 \times \frac{4!}{2! \times 2!} = 36$$

* 확인 사항

- 답안지의 해당란에 필요한 내용을 정확히 기입(표기)했는지 확인하시오.
- 이어서, 「선택과목(미적분)」 문제가 제시되오니, 자신이 선택한 과목인지 확인하시오.

제 2 교시

수학 영역(미적분)

5 지선 다형

23. $\lim_{n \rightarrow \infty} \frac{2^{n+1} + 3^{n-1}}{(-2)^n + 3^n}$ 의 값은? [2점]

- ① $\frac{1}{9}$ ② $\frac{1}{3}$ ③ 1 ④ 3 ⑤ 9

2

24. 수열 $\{a_n\}$ 이 $\lim_{n \rightarrow \infty} (3a_n - 5n) = 2$ 를 만족시킬 때,

$\lim_{n \rightarrow \infty} \frac{(2n+1)a_n}{4n^2}$ 의 값은? [3점]

- ① $\frac{1}{6}$ ② $\frac{1}{3}$ ③ $\frac{1}{2}$ ④ $\frac{2}{3}$ ⑤ $\frac{5}{6}$

$$\lim_{n \rightarrow \infty} \frac{3a_n - 5n}{n} = 2$$

5

$$\lim_{n \rightarrow \infty} \frac{a_n}{n} = \frac{5}{3}$$

$$\lim_{n \rightarrow \infty} \frac{(2n+1)a_n}{4n^2} = \frac{2 \cdot \frac{5}{3}}{4} = \frac{5}{6}$$

25. $\lim_{n \rightarrow \infty} (\sqrt{an^2+n} - \sqrt{an^2-an}) = \frac{5}{4}$ 를 만족시키는 모든 양수 a 의 값의 합은? [3점]

- ① $\frac{7}{2}$ ② $\frac{15}{4}$ ③ 4 ④ $\frac{17}{4}$ ⑤ $\frac{9}{2}$

$$\lim_{n \rightarrow \infty} \frac{(a+1)n}{\sqrt{an^2+n} + \sqrt{an^2-an}} \quad \text{④}$$

$$= \frac{a+1}{2\sqrt{a}} = \frac{5}{4}$$

$$4a^2 - 17a + 4 = 0$$

26. 첫째항이 1인 두 수열 $\{a_n\}$, $\{b_n\}$ 이 모든 자연수 n 에 대하여

$$a_{n+1} - a_n = 3, \quad \sum_{k=1}^n \frac{1}{b_k} = n^2$$

을 만족시킬 때, $\lim_{n \rightarrow \infty} a_n b_n$ 의 값은? [3점]

- ① $\frac{7}{6}$ ② $\frac{4}{3}$ ③ $\frac{3}{2}$ ④ $\frac{5}{3}$ ⑤ $\frac{11}{6}$

$$\frac{1}{b_n} = 2n-1 \quad \text{③}$$

$$a_n = 3n-2$$

$$b_n = \frac{1}{2n-1}$$

27. 수열 $\{a_n\}$ 이 모든 자연수 n 에 대하여

$$a_n^2 < 4na_n + n - 4n^2$$

을 만족시킬 때, $\lim_{n \rightarrow \infty} \frac{a_n + 3n}{2n + 4}$ 의 값은? [3점]

- ① $\frac{5}{2}$ ② 3 ③ $\frac{7}{2}$ ④ 4 ⑤ $\frac{9}{2}$

$$(a_n - 2n)^2 < n \quad \text{①}$$

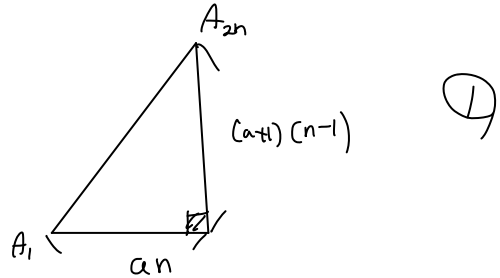
$$2n - \sqrt{n} < a_n < 2n + \sqrt{n}$$

28. 자연수 n 에 대하여 좌표평면 위의 점 A_n 을 다음 규칙에 따라 정한다.

- (가) A_1 은 원점이다.
 (나) n 이 홀수이면 A_{n+1} 은 점 A_n 을 x 축의 방향으로 a 만큼 평행이동한 점이다.
 (다) n 이 짝수이면 A_{n+1} 은 점 A_n 을 y 축의 방향으로 $a+1$ 만큼 평행이동한 점이다.

$\lim_{n \rightarrow \infty} \frac{A_1 A_{2n}}{n} = \frac{\sqrt{34}}{2}$ 일 때, 양수 a 의 값은? [4점]

- ① $\frac{3}{2}$ ② $\frac{7}{4}$ ③ 2 ④ $\frac{9}{4}$ ⑤ $\frac{5}{2}$



$$\lim_{n \rightarrow \infty} \frac{\sqrt{a^2 n^2 + (a+1)^2 (n-1)^2}}{n} = \sqrt{(a+1)^2 + a^2} = \frac{\sqrt{34}}{2}$$

$$4a^2 + 4a - 15 = 0$$

$$(2a+5)(2a-3) = 0$$

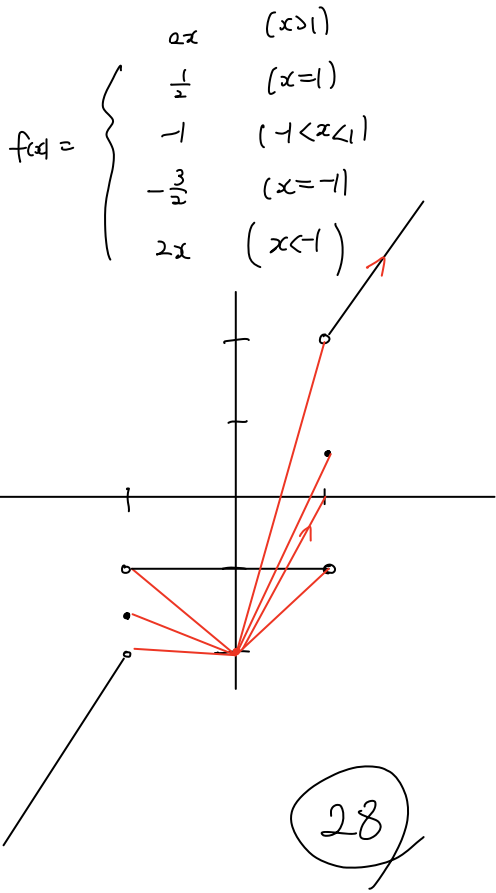
$$a = \frac{3}{2}$$

단답형

29. 실수 t 에 대하여 직선 $y=tx-2$ 가 함수

$$f(x) = \lim_{n \rightarrow \infty} \frac{2x^{2n+1}-1}{x^{2n}+1}$$

의 그래프와 만나는 점의 개수를 $g(t)$ 라 하자. 함수 $g(t)$ 가 $t=a$ 에서 불연속인 모든 a 의 값을 작은 수부터 크기순으로 나열한 것을 a_1, a_2, \dots, a_m (m 은 자연수)라 할 때, $m \times a_m$ 의 값을 구하시오. [4점]



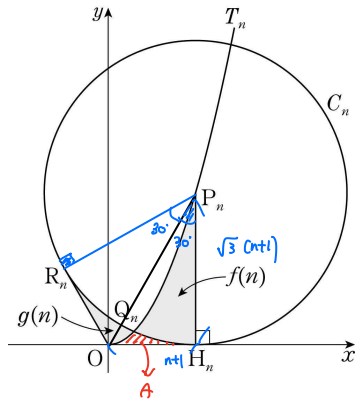
30. 그림과 같이 자연수 n 에 대하여 곡선

$$T_n : y = \frac{\sqrt{3}}{n+1}x^2 \quad (x \geq 0)$$

위에 있고 원점 O 와의 거리가 $2n+2$ 인 점을 P_n 이라 하고, 점 P_n 에서 x 축에 내린 수선의 발을 H_n 이라 하자.

중심이 P_n 이고 점 H_n 을 지나는 원을 C_n 이라 할 때, 곡선 T_n 과 원 C_n 의 교점 중 원점에 가까운 점을 Q_n , 원점에서 원 C_n 에 그은 두 접선의 접점 중 H_n 이 아닌 점을 R_n 이라 하자.

점 R_n 을 포함하지 않는 호 Q_nH_n 과 선분 P_nH_n , 곡선 T_n 으로 둘러싸인 부분의 넓이를 $f(n)$, 점 H_n 을 포함하지 않는 호 R_nQ_n 과 선분 OR_n , 곡선 T_n 으로 둘러싸인 부분의 넓이를 $g(n)$ 이라 할 때, $\lim_{n \rightarrow \infty} \frac{f(n)-g(n)}{n^2} = \frac{\pi}{2} + k$ 이다. $60k^2$ 의 값을 구하시오. (단, k 는 상수이다.) [4점]



$$f(n) + A = \int_0^{nt+1} \frac{\sqrt{3}}{nt+1} x^2 dx = \frac{\sqrt{3}}{3} (nt+1)^2$$

$$\begin{aligned}
 g(n) + A &= \square P_n H_n O R_n - \triangle P_n R_n H_n \\
 &= \frac{\sqrt{3}}{4} \times 4(nt+1)^2 - \frac{1}{2} \cdot 3(nt+1)^2 \cdot \frac{\pi}{3} \\
 &= (\sqrt{3} - \frac{\pi}{2}) (nt+1)^2
 \end{aligned}$$

$$\lim_{n \rightarrow \infty} \frac{f(n)-g(n)}{n^2} = \lim_{n \rightarrow \infty} \frac{(\frac{\pi}{2} - \frac{\sqrt{3}}{3})(nt+1)^2}{n^2} = \frac{\pi}{2} - \frac{2\sqrt{3}}{3}$$

$$k^2 = \frac{4}{3} \quad 60 \times \frac{4}{3} = 80$$

30

* 확인 사항

- 답안지의 해당란에 필요한 내용을 정확히 기입(표기)했는지 확인하시오.
- 이어서, 「선택과목(기하)」 문제가 제시되오니, 자신이 선택한 과목인지 확인하시오.

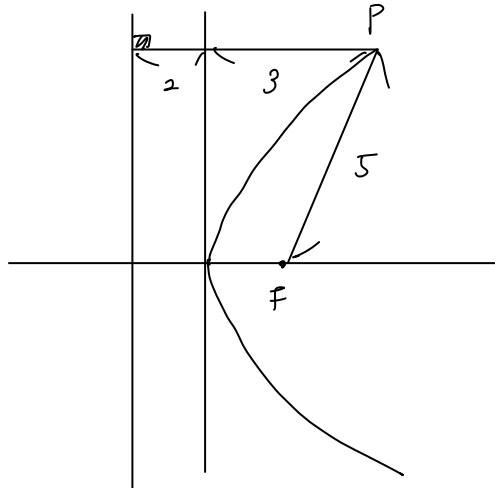
제 2 교시

수학 영역(기하)

5 지선 다형

23. 초점이 F인 포물선 $y^2 = 8x$ 위의 점 P와 y축 사이의 거리가 3일 때, 선분 PF의 길이는? [2점]

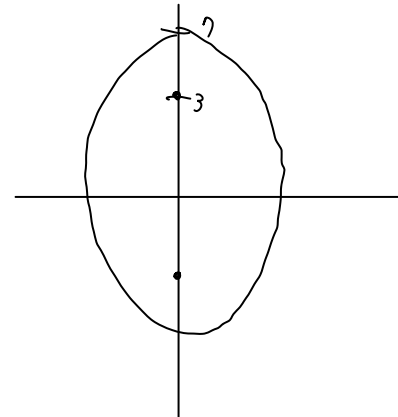
- ① 4 ② 5 ③ 6 ④ 7 ⑤ 8



24. 두 초점의 좌표가 (0, 3), (0, -3)인 타원이 y축과 점 (0, 7)에서 만날 때, 이 타원의 단축의 길이는? [3점]

- ① $4\sqrt{6}$ ② $4\sqrt{7}$ ③ $8\sqrt{2}$ ④ 12 ⑤ $4\sqrt{10}$

⑤



$$\frac{x^2}{40} + \frac{y^2}{49} = 1$$

$$2 \times 2\sqrt{10}$$

$$= 4\sqrt{10}$$

25. 쌍곡선 $4x^2 - 8x - y^2 - 6y - 9 = 0$ 의 점근선 중 기울기가 양수인 직선과 x 축, y 축으로 둘러싸인 부분의 넓이는? [3점]

- ① $\frac{19}{4}$ ② $\frac{21}{4}$ ③ $\frac{23}{4}$ ④ $\frac{25}{4}$ ⑤ $\frac{27}{4}$

$$(x-1)^2 - \frac{(y+3)^2}{4} = 1$$

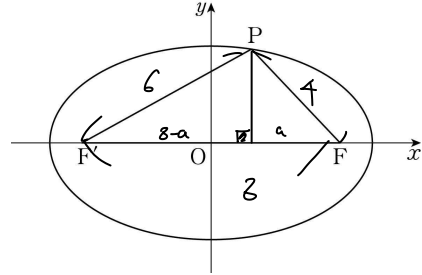
$$y = 2x - 5$$

④

$$\frac{1}{2} \times 5 \times \frac{5}{2} = \frac{25}{4}$$

26. 그림과 같이 두 초점이 F, F'인 타원 $\frac{x^2}{25} + \frac{y^2}{9} = 1$ 위의 점 중

제1사분면에 있는 점 P에 대하여 세 선분 PF, PF', FF'의 길이가 이 순서대로 등차수열을 이룰 때, 점 P의 x 좌표는? (단, 점 F의 x 좌표는 양수이다.) [3점]



③

- ① 1 ② $\frac{9}{8}$ ③ $\frac{5}{4}$ ④ $\frac{11}{8}$ ⑤ $\frac{3}{2}$

$$6 - a^2 = 36 - (3-a)^2$$

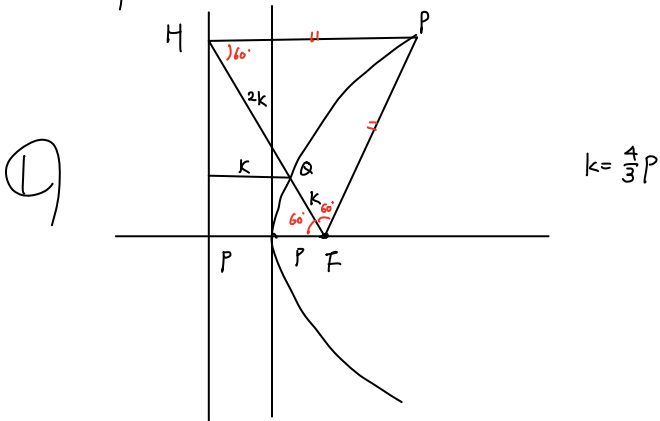
$$a = \frac{11}{4}$$

$$4 - \frac{11}{4} = \frac{5}{4}$$

27. 초점이 F 인 포물선 $y^2 = 4px$ ($p > 0$) 위의 점 중 제1사분면에 있는 점 P에서 준선에 내린 수선의 발 H에 대하여 선분 FH가 포물선과 만나는 점을 Q라 하자. 점 Q가 다음 조건을 만족시킬 때, 상수 p 의 값은? [3점]

- (가) 점 Q는 선분 FH를 1:2로 내분한다.
 (나) 삼각형 PQF의 넓이는 $\frac{8\sqrt{3}}{3}$ 이다.

- ① $\sqrt{2}$ ② $\sqrt{3}$ ③ 2 ④ $\sqrt{5}$ ⑤ $\sqrt{6}$



$\triangle PHF = 8\sqrt{3}$ $\frac{\sqrt{3}}{4} \cdot 16p^2 = 8\sqrt{3}$
 $p = \sqrt{2}$

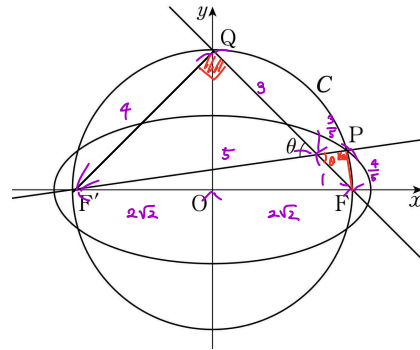
28. 그림과 같이 타원 $\frac{x^2}{a^2} + \frac{y^2}{b^2} = 1$ 의 두 초점 F, F'에 대하여

선분 FF'을 지름으로 하는 원을 C라 하자. 원 C가 타원과 제1사분면에서 만나는 점을 P라 하고, 원 C가 y축과 만나는 점 중 y좌표가 양수인 점을 Q라 하자. 두 직선 F'P, QF가

이루는 예각의 크기를 θ 라 하자. $\cos \theta = \frac{3}{5}$ 일 때, $\frac{b^2}{a^2}$ 의 값은?

(단, a, b는 $a > b > 0$ 인 상수이고, 점 F의 x좌표는 양수이다.)

[4점]



$2a = \frac{32}{5}, a = \frac{16}{5}$
 $c = 2\sqrt{2}$
 $b = 2\sqrt{\frac{14}{5}}$
 $\frac{b^2}{a^2} = \frac{14}{64} = \frac{7}{32}$

- ① $\frac{11}{64}$ ② $\frac{3}{16}$ ③ $\frac{13}{64}$ ④ $\frac{7}{32}$ ⑤ $\frac{15}{64}$

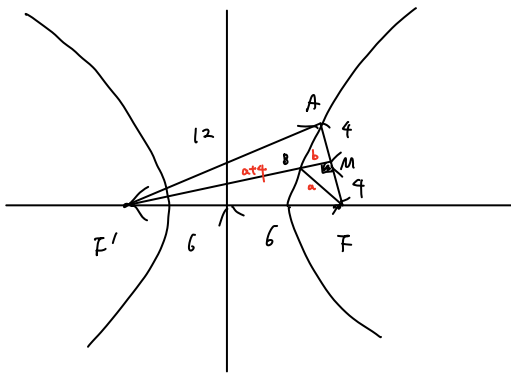
4

단답형

29. 두 점 F, F'을 초점으로 하는 쌍곡선 $\frac{x^2}{4} - \frac{y^2}{32} = 1$ 위의 점 A가 다음 조건을 만족시킨다.

- (가) $\overline{AF} < \overline{AF'}$
- (나) 선분 AF의 수직이등분선은 점 F'을 지난다.

선분 AF의 중점 M에 대하여 직선 MF'과 쌍곡선의 교점 중 점 A에 가까운 점을 B라 할 때, 삼각형 BFM의 둘레의 길이는 k이다. k²의 값을 구하시오. [4점]



$a+b+4 = 8\sqrt{2}$

$(8\sqrt{2})^2 = 128$

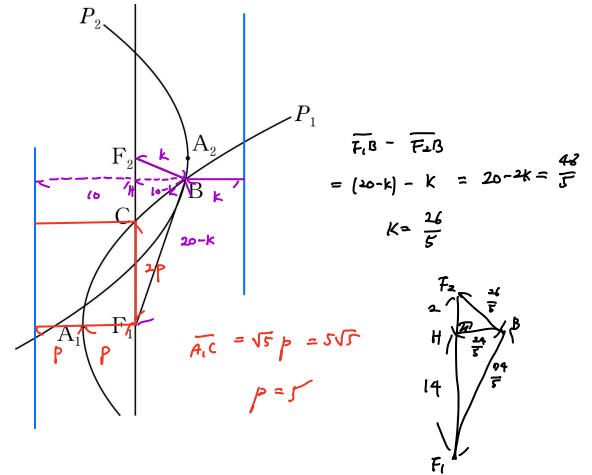
128

30. 그림과 같이 꼭짓점이 A₁이고 초점이 F₁인 포물선 P₁과 꼭짓점이 A₂이고 초점이 F₂인 포물선 P₂가 있다. 두 포물선의 준선은 모두 직선 F₁F₂와 평행하고, 두 선분 A₁A₂, F₁F₂의 중점은 서로 일치한다. ⇒ **참거려 일치**

두 포물선 P₁, P₂가 서로 다른 두 점에서 만날 때 두 점 중에서 점 A₂에 가까운 점을 B라 하자. 포물선 P₁이 선분 F₁F₂와 만나는 점을 C라 할 때, 두 점 B, C가 다음 조건을 만족시킨다.

- (가) $\overline{A_1C} = 5\sqrt{5}$
- (나) $\overline{F_1B} - \overline{F_2B} = \frac{48}{5}$

삼각형 BF₂F₁의 넓이가 S일 때, 10S의 값을 구하시오. (단, ∠F₁F₂B < 90°) [4점]



$\overline{F_1B} - \overline{F_2B} = (20-k) - k = 20-2k = \frac{48}{5}$
 $k = \frac{26}{5}$

$A_1C = \sqrt{5}p = 5\sqrt{5}$
 $p = 5$

$10S = \frac{1}{2} \cdot 16 \cdot \frac{24}{5} \cdot 10 = 384$

384

* 확인 사항

- 답안지의 해당란에 필요한 내용을 정확히 기입(표기)했는지 확인하시오.