

제 4교시

사회탐구 영역(사회·문화)

성명

수험 번호

제()선택

▶ 23수특 16쪽 5번 [22022-0013]

1. 밑줄 친 ㉠~㉣과 같은 현상의 일반적인 특징에 대한 설명으로 옳은 것은?

최저 기온이 영하 10도 아래로 내려가는 한파가 이어지면서 전기차 운전자들의 불만이 쏟아지고 있다. 전기차는 겨울철 낮은 온도에서 배터리 성능이 급감하는 특성이 있다. ㉠ 대부분의 전기차에는 리튬 이온 배터리를 사용하는데 한겨울에 ㉡ 기온이 떨어지면 전해질이 굳어 리튬 이온의 이동이 저하되기 때문이다. 이와 같은 현상으로 배터리의 내부 저항이 증가하면 주행가능 거리가 줄고 충전 시간도 오래 걸린다. 그러다 보니 전기차 운전자들은 ㉢ 겨울철만 되면 짧아지는 주행 거리에 불편함을 호소하고 있다.

- ① ㉠과 같은 현상은 존재 법칙의 지배를 받는다.
- ② ㉡과 같은 현상은 확실성의 원리가 적용된다.
- ③ ㉢과 같은 현상은 ㉣과 같은 현상에 비해 인과 관계가 명확히 나타난다.
- ④ ㉠, ㉡과 같은 현상은 모두 보편성과 특수성이 공존한다.
- ⑤ ㉡, ㉢과 같은 현상은 ㉠과 같은 현상과 달리 경험적 자료를 통해 탐구할 수 있다.

▶ 23수특 27쪽 7번 변형 [22022-0031]

2. 자료에 대한 옳은 설명만을 <보기>에서 있는 대로 고른 것은? [3점]

연구자 갑은 비행 청소년들의 ㉠ 준법 의식과 ㉡ 법적 문제 해결력 향상에 □□ 법 교육 프로그램의 적용이 미치는 효과에 관한 ㉢ 가설을 설정하고 연구를 진행하였다. 이를 위해 ○○ 지역 비행 청소년 50명을 25명씩 두 집단으로 나누었다. ㉣ A 집단에는 □□ 법 교육 프로그램을 적용하고, ㉤ B 집단에는 별도의 법 교육 프로그램 적용 없이 기존 방식대로 교정 기관의 활동에 참여하도록 하여 연구를 진행하기로 하였다. 이에 따라 □□ 법 교육 프로그램의 효과를 측정하기 위하여 준법 의식과 법적 문제 해결력에 대한 ㉥ 사전 검사 점수와 사후 검사 점수를 비교 분석하였다. 자료 분석 결과는 다음 표와 같고, 그 결과는 통계적으로 유의미하였다.

변인	집단	검사 시기	
		사전	사후
준법 의식	A	2.50	2.90
	B	2.57	2.56
법적 문제 해결력	A	2.71	2.91
	B	2.60	2.59

※ 표의 점수는 5점 만점으로 한 해당 집단의 평균값이며, 점수가 높을수록 그 정도가 높음.

<보 기>

- ㄱ. ㉠, ㉡은 모두 독립 변인에 해당한다.
- ㄴ. ㉣은 실험 집단, ㉤은 통제 집단에 해당한다.
- ㄷ. ㉢이 '□□ 법 교육 프로그램 적용이 비행 청소년들의 준법 의식을 향상시킬 것이다.'라면, ㉣은 기각된다.
- ㄹ. ㉥은 ㉣, ㉤에 대하여 독립 변인 처치 전 종속 변인을 측정하는 과정이다.

- ① ㄱ, ㄷ ② ㄱ, ㄹ ③ ㄴ, ㄷ ④ ㄴ, ㄹ ⑤ ㄷ, ㄹ

▶ 23수특 37쪽 7번 [22022-0047]

3. 다음은 사회·문화 수업 장면의 일부이다. 이에 대한 설명으로 옳은 것은? (단, A~C는 각각 면접법, 문헌 연구법, 질문지법 중 하나이다.) [3점]

교사: 아래 <자료>는 A~C의 특징들을 나열한 것입니다. ㉠은 A의 특징에 해당하므로 A에 해당하는 특징은 4개이고, B에 해당하는 특징은 2개, C에 해당하는 특징은 1개입니다.

<자료>

- 시간적·공간적 제약으로부터 자유롭다.
- 연구 주제 선정 또는 선행 연구 검토 시 사용되는 경우가 많다.
- 다수를 대상으로 수량화된 1차 자료를 수집하는 데 적합하다.
- 무성의한 응답의 가능성이 높다.
- _____ ㉠ _____
- 언어적 응답을 통해 자료를 수집한다.

- ① A는 주로 질적 연구, B는 주로 양적 연구에서 사용된다.
- ② B는 C와 달리 1차 자료 수집에 적합하다.
- ③ C는 A에 비해 조사 대상자의 반응에 유연하게 대처할 수 있다.
- ④ '조사 대상자의 주관적 인식을 파악할 수 없다.'는 ㉠에 들어갈 수 있다.
- ⑤ '조사 대상자와의 신뢰감을 바탕으로 한 허용적 분위기의 조성이 중요하다.'는 ㉠에 들어갈 수 있다.

▶ 23수특 75쪽 5번 변형 [22022-0095]

4. 갑의 답변이 바탕으로 하는 일탈 이론에 대한 진술이 아닌 것만을 <보기>에서 있는 대로 고른 것은?

기자: 최근 동영상 공유 웹사이트에서 자신이 가지고 있는 채널의 구독자 수와 조회 수를 늘리기 위해 일탈 행동을 하는 경우가 많습니다. 그 이유가 무엇이라고 생각하십니까?

갑: 채널의 구독자 수와 조회 수를 늘려 부와 명예를 추구하고자 하는 사람들이 제도적인 방법으로는 그것이 어렵게 되자, 어떤 식으로든 이것을 늘릴 수만 있으면 된다고 생각하고 일탈 행동을 저지르게 되는 것입니다.

<보 기>

- ㄱ. 사회 구조적인 차원에서 일탈 행동의 발생 원인을 설명한다.
- ㄴ. 기존의 사회 규범과 새로운 사회 규범의 혼재 등으로 인해 일탈 행동이 발생한다고 본다.
- ㄷ. 일탈 행동의 감소 방안으로 일탈자와의 접촉 감소를 강조한다.
- ㄹ. 문화적 목표와 제도적 수단 간의 괴리로 인해 일탈 행동이 발생한다고 본다.

- ① ㄱ, ㄷ ② ㄱ, ㄹ ③ ㄴ, ㄷ ④ ㄴ, ㄹ ⑤ ㄷ, ㄹ

▶ 23수특 91쪽 4번 [22022-0118]

5. 갑, 을이 지닌 문화 이해의 태도에 대한 옳은 설명만을 <보기>에서 있는 대로 고른 것은?

갑: 한 사회의 문화는 시대와 장소를 초월하여 이해해야 할 부분도 있지만, 문화의 대부분은 특정 시대 및 장소와 연관지어 이해해야 합니다. 즉, 각 문화는 해당 사회의 맥락에서 이해되어야 하므로 우열을 구분할 수 없습니다.
 을: 모든 사회의 문화 수준이 우리 사회와 같은 수준이라고 이해해서는 안 됩니다. 물이 위에서 아래로 흐르는 것과 같이 우리 사회가 향유하는 높은 수준의 문화를 낮은 수준의 문화를 지닌 사회에 전해 주어야 합니다. 야만의 문화를 누리는 사회에 문명의 빛을 전해 주어야 합니다.

—<보 기>—

ㄱ. 갑의 태도는 을의 태도와 달리 문화 다양성 보존에 기여한다.
 ㄴ. 갑의 태도는 을의 태도와 달리 자기 문화의 정체성을 상실할 우려가 크다는 비판을 받는다.
 ㄷ. 을의 태도는 갑의 태도와 달리 문화를 평가의 대상으로 본다.
 ㄹ. 을의 태도는 갑의 태도와 달리 문화 제국주의로 흐를 가능성이 있다는 비판을 받는다.

- ① ㄱ, ㄴ ② ㄱ, ㄹ ③ ㄴ, ㄷ
 ④ ㄱ, ㄷ, ㄹ ⑤ ㄴ, ㄷ, ㄹ

▶ 23수특 138쪽 3번 변형 [22022-0177]

6. 빈칸 (가)에 들어갈 내용으로 옳은 것만을 <보기>에서 고른 것은?

사회적 소수자는 신체적 또는 문화적 특징으로 인해 불평등한 처우를 받는 사람들이다. 사회적 소수자는 다원화, 세계화 등으로 인해 그 유형이 다양해지고 있다. 현재 사회적 소수자의 개념 정의에 비추어 볼 때 사회적 소수자는 (가) 라는 질문에는 '그렇다.'라고 답할 수 있다.

—<보 기>—

ㄱ. 소수자 집단에 속한다는 이유만으로 차별을 받는가?
 ㄴ. 주류 집단에 비해 사회적 자원 획득에 불리한가?
 ㄷ. 수적으로 반드시 다수가 아닌 소수여야 하는가?
 ㄹ. 주류 집단으로부터 차별받는 집단의 성원이라는 의식이 있는가?

- ① ㄱ, ㄴ ② ㄴ, ㄷ ③ ㄴ, ㄹ
 ④ ㄱ, ㄴ, ㄹ ⑤ ㄴ, ㄷ, ㄹ

▶ 23수특 139쪽 1번 [22022-0179]

7. 다음은 빈곤의 유형 A, B를 질문에 따라 구분한 것이다. 이에 대한 옳은 설명만을 <보기>에서 고른 것은? (단, A, B는 각각 절대적 빈곤, 상대적 빈곤 중 하나이다.)

질문	예	아니요
다른 사람들보다 사회적 자원을 적게 가져 사회 구성원 다수가 누리는 생활 수준에 미치지 못하는 상태로 정의되는가?	A	B
(가)	B	A

—<보 기>—

ㄱ. A는 상대적 빈곤, B는 절대적 빈곤이다.
 ㄴ. A는 우리나라에서 중위 소득의 일정 수준을 기준으로 구분한다.
 ㄷ. B는 실제 소득과 상관없이 개인이 체감하는 빈곤 상태를 의미한다.
 ㄹ. (가)에는 '소득 수준이 높은 국가에서는 나타나지 않는가?'가 들어갈 수 있다.

- ① ㄱ, ㄴ ② ㄱ, ㄷ ③ ㄴ, ㄷ ④ ㄴ, ㄹ ⑤ ㄷ, ㄹ

▶ 23수특 59쪽 8번 변형 [22022-0074]

8. 아래는 갑과 을의 대화 내용이다. 밑줄 친 ㉠~㉣에 대한 설명으로 옳은 설명만을 <보기>에서 있는 대로 고른 것은? [3점]

갑: 오늘 우리 ㉠회사에서 좋은 일과 아쉬운 일이 있었어.
 을: 좋은 일은 뭐야?
 갑: 우리 부서 ㉡부장님의 ㉢딸이 원하던 ㉣대학교에 합격해서 부서원들에게 커피를 사 주셨어.
 을: 그렇구나. 아쉬운 일은 뭐니?
 갑: 입사 전 회사 직무에 대한 신입 사원 교육을 받을 예정이던 병이라는 사람이 입사를 하지 않기로 결정했어.
 을: 왜 그랬대?
 갑: 자기가 예전에 입사하기를 바라던 회사의 채용 공고가 나서 우리 회사에 입사할지 ㉤고민하다가 입사를 포기하고 그 회사에 지원하기로 했다.

—<보 기>—

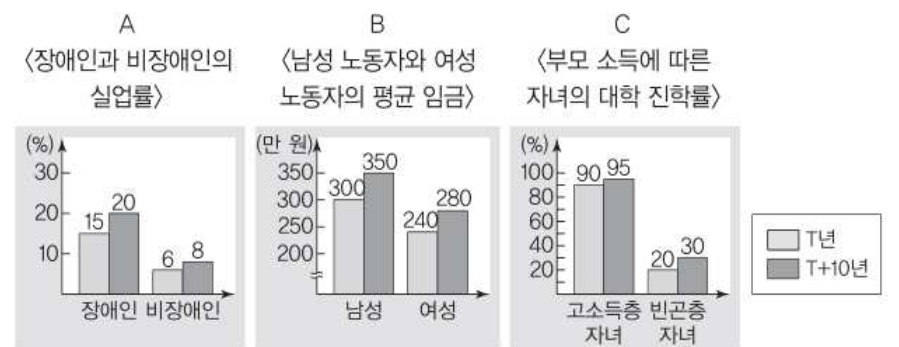
ㄱ. ㉠은 공식 조직이자 자발적 결사체이다.
 ㄴ. ㉡은 성취 지위, ㉢은 귀속 지위이다.
 ㄷ. ㉣은 공식적 사회화 기관이자 2차적 사회화 기관이다.
 ㄹ. ㉤은 병의 역할 갈등에 해당한다.

- ① ㄱ, ㄴ ② ㄱ, ㄷ ③ ㄴ, ㄷ ④ ㄴ, ㄹ ⑤ ㄷ, ㄹ

▶ 23수특 141쪽 6번 [22022-0184]

9. 다음 자료에 대한 분석으로 옳은 것만을 <보기>에서 있는 대로 고른 것은? [3점]

교사: A~C는 다양한 사회 불평등 현상을 파악하기 위해 수집한 자료입니다. 이에 대해 분석해봅시다.



—<보 기>—

ㄱ. A와 달리 B를 통해 상호 중복되지 않는 집단 간 차이를 분석할 수 있다.
 ㄴ. 사회적 소수자의 지표가 사회 전체의 평균 이하인 자료는 B, C이다.
 ㄷ. T년 대비 T+10년에 사회적 소수자들이 겪고 있는 불평등이 완화되었다는 주장의 근거로 C가 A보다 적합하다.
 ㄹ. A, B는 C와 달리 제시된 자료에 나타난 서로 다른 두 집단 간의 격차가 T년 대비 T+10년에 증가하였다.

- ① ㄱ, ㄴ ② ㄱ, ㄷ ③ ㄴ, ㄷ ④ ㄴ, ㄹ ⑤ ㄷ, ㄹ

▶ 23수특 100쪽 4번 변형 [22022-0130]

10. 다음 자료에 대한 옳은 설명만을 <보기>에서 있는 대로 고른 것은?

출산율 감소로 인한 노동 가능 인구의 부족으로 외국인 노동자들의 유입이 확대되고 있는 갑국에서는 기존의 순혈주의를 버리고 다문화주의를 채택하게 되었다. 그 결과 다양한 국적의 외국인들이 유입되었고, 그들은 공장이 밀집한 지역에 각각 자리를 잡아 자신들의 고국 문화를 해당 지역에 뿌리내리게 하였다. 그중 특히 을국의 노동자들은 A 지역, 병국의 노동자들은 B 지역을 중심으로 자리를 잡았다. 이에 따라 해당 지역의 학교에서는 ㉠갑국의 문화만을 가르쳤던 기존 교육과정 대신 갑국의 문화를 근간으로 하면서 각각 ㉡을국의 문화, ㉢병국의 문화도 함께 가르치는 교육과정을 채택하게 되었다.

<보 기>

- ㄱ. A 지역에서 ㉡은 주류 문화, ㉢은 반문화이다.
- ㄴ. 갑국에서 ㉠은 주류 문화, ㉡과 ㉢은 하위문화이다.
- ㄷ. 갑국은 ㉡과 ㉢을 수용함으로써 문화의 획일화를 추구하고 있다.
- ㄹ. ㉡과 ㉢은 모두 갑국의 문화적 다양성을 증가시키는 요인으로 작용할 수 있다.

- ① ㄱ, ㄴ ② ㄱ, ㄷ ③ ㄴ, ㄹ
- ④ ㄱ, ㄷ, ㄹ ⑤ ㄴ, ㄷ, ㄹ

▶ 23수특 89쪽 6번 [22022-0112]

11. ㉠~㉣에 대한 옳은 설명만을 <보기>에서 있는 대로 고른 것은?

문화의 속성	해당 속성이 부각된 사례
㉠	전화기가 다이얼을 돌리는 식에서 버튼을 누르는 식으로 바뀌었다.
전체성	㉡
㉣	어린이가 부모로부터 존댓말을 배웠다.

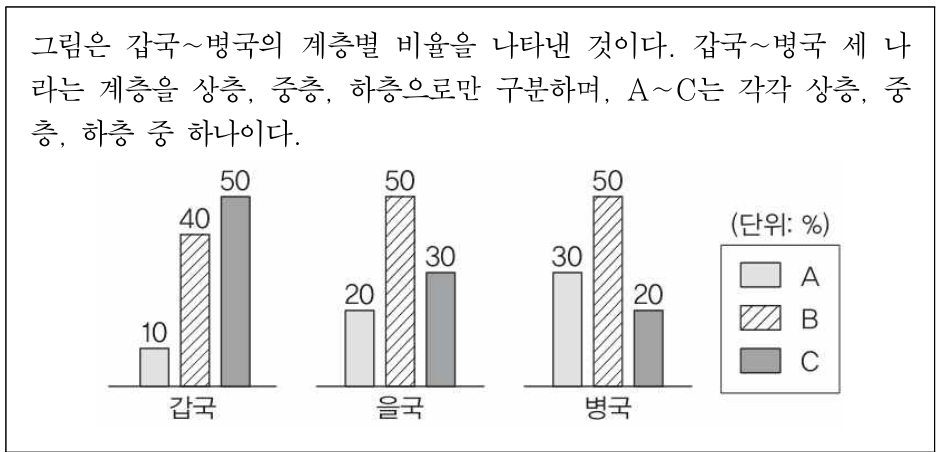
<보 기>

- ㄱ. ㉠은 학습성, ㉣은 변동성이다.
- ㄴ. ㉠은 문화의 각 부분이 상호 밀접한 관련을 맺고 있음을 의미한다.
- ㄷ. ㉡에는 한 사회의 문화가 언어, 가치 등 다양한 문화 요소 간 상호 연관되어 있음이 강조된 사례가 들어갈 수 있다.
- ㄹ. ㉣은 문화가 선천적인 행동이 아닌 후천적으로 형성된 생활 양식임을 의미한다.

- ① ㄱ, ㄴ ② ㄱ, ㄷ ③ ㄴ, ㄷ ④ ㄴ, ㄹ ⑤ ㄷ, ㄹ

▶ 23수특 129쪽 8번 [22022-0166]

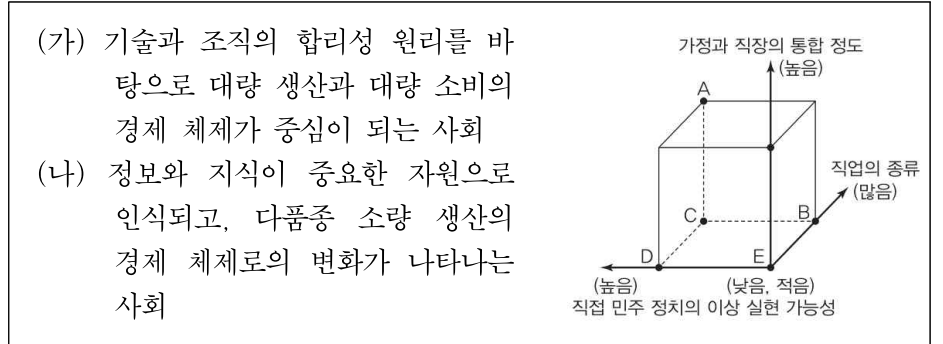
12. 다음 자료에 대한 설명으로 옳은 것은? [3점]



- ① 갑국이 다이아몬드형 계층 구조라면, 을국은 하층의 비율이 가장 높다.
- ② 을국이 피라미드형 계층 구조라면, 병국은 중층의 비율이 가장 낮다.
- ③ 병국이 다이아몬드형 계층 구조라면, 갑국은 상층과 하층 비율의 합이 중층의 비율과 같다.
- ④ A가 상층이고 B가 중층이라면, 갑국과 을국은 모두 피라미드형 계층 구조이다.
- ⑤ B가 하층이고 C가 상층이라면, 중층의 비율은 을국과 병국이 같다.

▶ 23수특 172쪽 3번 [22022-0223]

13. (가)와 비교한 (나)의 상대적 특징을 그림의 A~E에서 고른 것은? (단, (가)와 (나)는 산업 사회, 정보 사회 중 하나이다.) [3점]



- ① A ② B ③ C ④ D ⑤ E

▶ 23수특 74쪽 1번 [22022-0091]

14. 다음 글에 나타난 개인과 사회의 관계를 바라보는 관점에 대한 진술로 가장 적절한 것은?

사회는 그것을 구성하고 있는 개인과 구별되어 독자적으로 존재하는 실체이다. 살아 있는 유기체와 마찬가지로 사회는 독자성을 가지고 있으며 사회 구성원들은 사회의 기관(器官)처럼 저마다 주어진 역할을 수행하게 된다.

- ① 사회는 개인의 속성을 모두 합한 것과 같다.
- ② 사회의 구속력이 개인의 자율성보다 우위에 있다.
- ③ 사회의 특성은 모두 개개인의 특성으로 환원된다.
- ④ 사회는 사회를 구성하는 개인들 간의 계약에 의해 이루어진다.
- ⑤ 사회 문제를 해결하기 위해서는 사회 제도의 개선보다 개인의 의식 개선이 우선되어야 한다.

▶ 23수특 151쪽 8번 [22022-0200]

15. 자료에 대한 옳은 분석만을 <보기>에서 있는 대로 고른 것은? [3점]

<갑국의 사회 보장 제도>

(가) 장애인의 자립 생활 및 사회 참여 증진을 위하여 낮 시간에 발달장애인의 욕구를 반영한 지역 사회 기반 활동에 참여할 수 있게 하는 주간 활동 서비스를 지원하는 제도

(나) 만 18세 이상의 중증 장애인 중 소득 인정액이 일정 기준 이하로 장애로 인하여 생활이 어려운 중증 장애인의 안정된 삶을 위해 연금을 지급하는 제도

구분	A 지역			B 지역		
	남성	여성	전체	남성	여성	전체
(가)	15	13	14	10	14	11.5
(나)	8	9	8.5	14	6	11

* 갑국은 A와 B 지역으로만 구성되어 있으며, 갑국의 사회 보장 제도는 우리나라의 사회 보장 제도와 동일함
 ** A 지역 인구는 B 지역 인구의 0.5배임
 *** 해당 지역 수혜자 비율(%)=(해당 지역 수혜자 수/해당 지역 인구)×100

<보 기>

- ㄱ. (가) 제도의 경우 B 지역에서 남성 수혜자 수가 여성 수혜자 수보다 많다.
- ㄴ. B 지역에서 성별 수혜자 수 차이는 (가) 제도가 (나) 제도보다 크다.
- ㄷ. 공공 부조에 속한 제도의 경우 여성 수혜자 수 대비 남성 수혜자 수의 비의 값은 A 지역이 B 지역보다 작다.
- ㄹ. 여성의 경우 금전적 지원을 원칙으로 하는 제도의 수혜자 수 대비 비금전적 지원을 원칙으로 하는 제도의 수혜자 수의 비의 값은 A 지역이 B 지역보다 크다.

- ① ㄱ, ㄷ ② ㄱ, ㄹ ③ ㄴ, ㄷ
- ④ ㄴ, ㄹ ⑤ ㄱ, ㄷ, ㄹ

▶ 23수특 109쪽 4번 변형 [22022-0144]

16. 문화 변동과 관련하여 갑국~정국의 사례에 대한 설명으로 옳지 않은 것만을 <보기>에서 있는 대로 고른 것은? [3점]

- 갑국 지도자 A는 병국 전통 종교에 관심을 가져 병국 선교사를 초청했다. 이후 병국 선교사들의 노력과 병국 전통 종교에 심취하게 된 국민들에 의해 병국 전통 종교와 갑국 전통 종교가 합쳐진 새로운 종교가 탄생하게 되었다.
- 을국 지도자 B는 병국의 전통 종교 선교사들이 비밀리에 을국에 들어왔다는 보고를 받고 선교 활동을 강력히 규제하는 정책을 시행했다. 이후 을국에서 병국의 전통 종교를 찾아볼 수 없게 되었다.
- 병국 지도자 C는 강력한 해군력을 바탕으로 하여 식민지를 여러 곳에 건설하였다. C에 의해 임명받은 각 식민지의 총독들은 지역 주민들의 거부에도 불구하고 해당 지역의 토착 종교를 완전히 소멸시킨 후 그 자리에 병국의 전통 종교를 이식했는데, 그 실제 사례가 정국이다.

—<보 기>—

- ㄱ. 갑국에서는 자발적 문화 접변에 의해 새로운 문화 요소가 등장했다.
- ㄴ. 을국에서는 새로운 문화에 대한 충격으로 인해 아노미가 나타났다.
- ㄷ. 정국에서는 강제적 문화 접변에 의한 문화 동화가 나타났다.
- ㄹ. 갑국, 을국, 병국 모두에서 외재적 요인에 의한 문화 변동이 나타났다.

- ① ㄱ, ㄴ ② ㄱ, ㄷ ③ ㄴ, ㄷ ④ ㄴ, ㄹ ⑤ ㄷ, ㄹ

▶ 23수특 69쪽 8번 [22022-0090]

17. 표는 A, B를 특징에 따라 비교한 것이다. 이에 대한 옳은 설명만을 <보기>에서 있는 대로 고른 것은? (단, A, B는 각각 관료제, 탈관료제 중 하나이다.) [3점]

특징	상대적 정도
(가)	A > B
(나)	A < B

—<보 기>—

- ㄱ. A가 관료제라면, (가)에는 '직급 체계의 세분화 정도'가 들어갈 수 있다.
- ㄴ. B가 탈관료제라면, (나)에는 '조직의 유연성 정도'가 들어갈 수 있다.
- ㄷ. (가)가 '업무의 표준화 정도'라면, A는 B보다 능력에 따른 보상 원칙을 강조한다.
- ㄹ. (나)가 '의사 결정 권한의 분산 정도'라면, B는 A보다 조직에서 중간 관리층의 비중이 높다.

- ① ㄱ, ㄴ ② ㄱ, ㄷ ③ ㄴ, ㄷ ④ ㄴ, ㄹ ⑤ ㄷ, ㄹ

▶ 23수특 161쪽 5번 [22022-0205]

18. 사회학자 A가 사회 변동을 설명하는 이론에 대한 옳은 설명만을 <보기>에서 있는 대로 고른 것은?

A는 사회 변동이 유목민과 정주민의 충돌에 기초하고 있다고 보았다. 유목민들은 정주민들의 도시를 정복하고 공격하여 새로운 국가나 제국을 형성한다. 그러나 일단 정복자들이 도시에 정착하면 그들은 그들이 정복한 정주민들이 겪은 악덕과 무능의 상태로 타락하고 다시 제국은 새로운 사막 유목민 세대의 수중에 떨어진다. 국가는 이렇게 성립되고 전복되며, 역사에는 성장과 쇠퇴, 정복과 붕괴가 연속적으로 나타난다.

—<보 기>—

- ㄱ. 사회 변동을 곧 진보와 발전으로 본다.
- ㄴ. 사회 변동에 의해 사회가 더 복잡하게 분화한다고 본다.
- ㄷ. 사회는 주기적으로 동일한 과정을 반복하며 변동한다고 본다.
- ㄹ. 내부 갈등, 전쟁 등에 의해 흥망성쇠를 거듭한 국가의 사례를 설명하기 적합하다.

- ① ㄱ, ㄴ ② ㄱ, ㄷ ③ ㄴ, ㄷ ④ ㄴ, ㄹ ⑤ ㄷ, ㄹ

▶ 23수특 16쪽 6번 [22022-0014]

19. 사회·문화 현상을 바라보는 갑~병의 서로 다른 관점에 대한 설명으로 옳은 것은?

- 갑:** 종교는 지배 집단에 유리한 현재 상태를 정당화하고 사회 변혁을 저지하는 수단이며, 왜곡된 현실을 위장하기 위한 허위의식에 불과합니다.
- 을:** 종교는 사람들이 일상생활에서 서로의 행동을 해석하고 반응하는 과정을 통해 나타난 것입니다. 그 과정에서 종교는 개인에게 스스로의 정체성을 확인하고 규정하기 위한 준거로 기능하게 됩니다.
- 병:** 인간 행위가 규범에 의해 표준화되는 과정에서 사회는 통합과 균형을 유지할 수 있는데, 종교는 사회 구성원을 도덕 공동체 안에 결집시켜 사회 질서의 형성과 유지에 기여합니다.

- ① 갑의 관점은 인간이 자율성을 지닌 능동적인 존재임을 강조한다.
- ② 을의 관점은 개인의 행위를 구속하는 사회 체계의 힘을 간과한다는 비판을 받는다.
- ③ 병의 관점은 사회 질서가 상징에 기초한 개인 간 상호 작용을 통해 형성된다고 본다.
- ④ 갑의 관점은 을의 관점과 달리 기득권층의 이익을 대변하는 논리로 이용된다는 비판을 받는다.
- ⑤ 병의 관점은 갑의 관점과 달리 거시적 관점에 해당한다.

▶ 23수특 172쪽 4번 [22022-0224]

20. 다음 자료에 대한 옳은 분석만을 <보기>에서 고른 것은? [3점]

표는 갑국의 노인 인구 비율과 노령화 지수 및 전체 인구 증가율을 나타낸 것이다. (단, 갑국에서는 30년 단위로 인구 관련 통계 자료를 작성한다.)

구분	t년	t+30년	t+60년
노인 인구 비율(%)	5	12.5	25
노령화 지수	20	100	600
전체 인구 증가율(%)		20	-20

* 노인 인구 비율(%): (65세 이상 노인 인구/전체 인구)×100
 ** 노령화 지수 = (65세 이상 노인 인구/0~14세 유소년 인구)×100
 *** 전체 인구 증가율(%): 직전 조사 시기 대비 전체 인구 증가율
 **** 총부양비 = {(0~14세 유소년 인구+65세 이상 노인 인구)/15~64세 인구}×100

—<보 기>—

- ㄱ. 갑국의 노인 인구는 t+60년이 t년의 5배이다.
- ㄴ. 갑국의 총부양비는 t년보다 t+30년이 크다.
- ㄷ. 유소년 인구 대비 노인 인구는 제시된 연도 중 t+60년이 가장 크다.
- ㄹ. 갑국의 t년 대비 t+30년에 증가한 노인 인구는 같은 기간 감소한 유소년 인구와 같다.

- ① ㄱ, ㄴ ② ㄱ, ㄷ ③ ㄴ, ㄷ ④ ㄴ, ㄹ ⑤ ㄷ, ㄹ

※ 확인 사항
 ○ 답안지의 해당란에 필요한 내용을 정확히 기입(표기)했는지 꼭!! 확인하세요!
 ○ “민어왔던 것들이 너를 배반할 것만 같아 후덜덜 떨겠지만, 꿈꿔왔던 걸 절대 잊지 마. 네 자신을 믿어.”
 - 버벌진트, 『우리 존재 화이팅』

〈정답과 해설〉

- ※ 문항과 문항코드에 대한 저작권은 한국교육방송공사(EBS)에 있습니다. '렛츠사문'과 EBS는 어떠한 연관도 없으며, EBS는 한국교육방송공사의 고유한 상표임을 명시합니다.
- ※ 본 모의고사 문항의 해설에 대한 저작권은 렛츠사문에게 있습니다. 해설의 무단 도용을 절대 금합니다.

★ 정답

1	②	2	④	3	③	4	③	5	④
6	④	7	①	8	③	9	⑤	10	③
11	⑤	12	③	13	①	14	②	15	①
16	④	17	①	18	⑤	19	②	20	⑤

★ 해설

- 1) ②
 〈전제〉 ㉠과 ㉡은 사회·문화 현상, ㉢은 자연 현상이다.
- 〈정답 고르기〉
 ② 자연 현상은 확실성의 원리가 적용된다.
- 〈오답 피하기〉
 ① 사회·문화 현상은 당위 법칙의 지배를 받는다.
 ③ 사회·문화 현상은 자연 현상에 비해 인과 관계가 명확히 나타나지 않는다.
 ④ 사회·문화 현상(㉠)은 보편성과 특수성이 공존한다. 그러나 자연 현상(㉢)은 보편성만 존재한다.
 ⑤ 사회·문화 현상과 자연 현상은 모두 경험적 자료를 통해 탐구할 수 있다.
- 2) ④
 〈전제〉 연구자 갑은 가설 설정을 통해 두 변인 간의 관계를 분석했다. 그러므로 갑은 양적 연구를 진행한 것이라고 볼 수 있다. 이때 A 집단(㉡ - □□ 법 교육 프로그램을 적용한 집단 - 실험 집단)과 B 집단(㉢ - □□ 법 교육 프로그램을 적용하지 않은 집단 - 통제 집단)으로 나눠 실험법을 통해 '비행 청소년들의 준법 의식과 법적 문제 해결력 향상에 □□ 법 교육 프로그램의 적용이 미치는 효과'를 분석했으므로 '□□ 법 교육 프로그램의 적용 유무'는 독립 변인, '비행 청소년들의 준법 의식(㉠)'과 '법적 문제 해결력(㉢)'은 각각 종속 변인이라고 볼 수 있다.
- 〈정답 고르기〉
 나. ㉡은 실험 집단, ㉢은 통제 집단이다.
 르. 갑의 연구에서 독립 변인의 처치는 '□□ 법 교육 프로그램'의 적용이다. 이때 갑이 시행한 사전 검사(㉢)는 독립 변인 처치 전 '비행 청소년의 준법 의식', '비행 청소년의 법적 문제 해결력'과 같은 종속 변인을 측정을 위해 이뤄졌다고 볼 수 있다.
- 〈오답 피하기〉
 가. ㉠과 ㉢은 종속 변인에 해당한다.
 다. 문제에 제시된 표를 통해 □□ 법 교육 프로그램을 적용하지 않은 B 집단에서는 '준법 의식' 향상이 거의 나타나지 않은 것에 반해, □□ 법 교육 프로그램을 적용한 A 집단에서는 '준법 의식'의 향상이 눈에 띄게 나타났다. 그러므로 만일 다 선택지에서 제시한 내용이 가설(㉡)이라면 가설은 수용될 것이다.
- 3) ③
 〈전제〉
 하나. 제시된 자료를 표로 정리하면 아래와 같다.
 ※ 각 자료 수집 방법이 제시된 특징에 해당한다면 O, 해당하지 않는다면 X로 표시함.

특징	면접법	문헌 연구법	질문지법
시간적·공간적 제약으로부터 자유롭다.	X	O	X
연구 주제 선정 또는 선행 연구 검토 시 사용되는 경우가 많다.	X	O	X
다수를 대상으로 수량화된 1차 자료를 수집하는 데 적합하다.	X	X	O
무성의한 응답의 가능성이 높다.	X	X	O
㉠	?	?	?
언어적 응답을 통해 자료를 수집한다.	O	X	O

둘. ㉠을 뺀 나머지 특징을 살펴볼 때 '면접법'에 해당하는 특징은 1개, '문헌 연구법'에 해당하는 특징은 2개, '질문지법'에 해당하는 특징은 3개이다.

셋. 만일 '문헌 연구법'이 해당하는 특징에 ㉠이 포함된다면 '문헌 연구법'에 해당하는 특징이 3가지가 되는데, 이 경우 '문헌 연구법'은 교사가 제시한 A~C 중 무엇에도 속할 수가 없다. 그러므로 '문헌 연구법'에 해당하는 특징에 ㉠은 포함되지 않는다. 따라서 '문헌 연구법'에 해당하는 특징은 2개가 되므로, B는 '문헌 연구법'이다. 이에 따라 '면접법'이 A와 C 중 하나에 속하려면 '면접법'에 해당하는 특징에 반드시 ㉠이 포함되지 않아야 하므로 '면접법'에 해당하는 특징은 1가지가 되고, C는 '면접법'이 된다. 마지막으로 남은 A는 '질문지법'이 된다.
 ∴ A는 '질문지법', B는 '문헌 연구법', C는 '면접법'

〈정답 고르기〉

③ C(면접법)은 A(질문지법)에 비해 조사 대상자의 반응에 유연하게 대처할 수 있다.

〈오답 피하기〉

- ① A(질문지법)는 주로 양적 연구, B는 주로 질적 연구에서 사용된다.
- ② B(문헌 연구법)와 C(면접법)는 모두 1차 자료 수집에 적합하다.
- ④ 〈전제〉에 의해 ㉠은 A(질문지법)에만 해당하는 특징이 와야 한다. 그러나 제시된 모든 자료 수집 방법은 조사 대상자의 주관적 인식을 파악할 수 있다. 따라서 ㉠에는 '조사 대상자의 주관적 인식을 파악할 수 없다.'가 들어갈 수 없다.
- ⑤ 〈전제〉에 의해 ㉠은 A(질문지법)에만 해당하는 특징이 와야 한다. 그러나 조사 대상자와의 신뢰감을 바탕으로 한 허용적 분위기의 조성이 중요한 자료 수집 방법은 제시된 자료 수집 방법 중 C(면접법)에만 해당하는 특징이며, '질문지법'에는 해당하지 않는다. 따라서 ㉠에는 '조사 대상자와의 신뢰감을 바탕으로 한 허용적 분위기의 조성이 중요하다.'가 들어갈 수 없다.

4) ③

〈전제〉 갑은 '구독자 수와 조회 수 증가를 통한 부와 명예 추구'라는 문화적 목표와 그것을 달성하기 위한 제도적 수단 간의 괴리가 발생하여 일탈 행동이 발생한다고 보고 있다. 그러므로 갑의 관점은 '머튼의 아노미 이론'이다. 이때 발문에서 갑의 답변이 바탕으로 하는 일탈 이론에 대한 진술이 아닌 것을 고르라고 했다는 점에 유의해야 한다.

〈정답 고르기〉

- 나. 제시된 내용은 뒤르켐의 아노미 이론에 관한 설명이다.
- 다. 제시된 내용은 차별적 교체 이론에 관한 설명이다.

〈오답 피하기〉

- 가. 머튼의 아노미 이론은 일탈 행동의 발생 원인을 사회 구조적 차원에서 설명한다.
- 르. 머튼의 아노미 이론은 문화적 목표와 제도적 수단 간의 괴리로 인해 일탈 행동이 발생한다고 본다.

5) ④

〈전제〉 갑은 '각 문화가 해당 사회의 맥락에서 이해되어야 하며 문화는 우열을 가릴 수 없다'라고 말했으므로 문화 상대주의적 태도를 지니고 있다고

볼 수 있다. 을은 '우리 사회가 향유하는 높은 수준의 문화를 낮은 수준의 문화를 지닌 사회에 전해주어야 한다.'라고 주장했다. 그러므로 을은 자문화 중심주의적 태도를 지니고 있다고 볼 수 있다.

<정답 고르기>

- ㄱ. 갑의 태도(문화 상대주의)는 문화 다양성 보존에 기여한다. 그러나 을의 태도(자문화 중심주의)는 문화 다양성 보존에 기여하지 않는다.
- ㄷ. 을의 태도(자문화 중심주의)는 갑의 태도(문화 상대주의)와 달리 문화를 평가의 대상으로 본다.

<오답 피하기>

- ㄴ. 갑의 태도(문화 상대주의)는 자기 문화의 정체성을 상실할 우려가 크다는 비판을 받지 않는다.
- ㄹ. 을의 태도(자문화 중심주의)는 갑의 태도(문화 상대주의)와 달리 문화 제국주의로 흐를 가능성이 있다는 비판을 받는다.

6) ④

<전제> 제시된 자료에서 사회적 소수자는 (가) 질문에 대해 '그렇다.'라고 답할 수 있다고 했다. 그러므로 (가)에는 사회적 소수자의 입장에서 '그렇다.'라는 답변이 옳은 답변인 질문이 와야 한다.

<정답 고르기>

- ㄱ. 사회적 소수자는 해당 소수자 집단에 속한다는 이유만으로 차별을 받을 수 있다.
- ㄴ. 사회적 소수자는 주류 집단에 비해 사회적 자원 획득에 불리하다.
- ㄷ. 사회적 소수자는 주류 집단으로부터 차별받는 집단의 성원이라는 의식이 존재한다.

<오답 피하기>

ㄷ. 사회적 소수자가 수적으로 반드시 '소수(小數)'여야만 하는 것은 아니다.

7) ①

<전제> 절대적 빈곤과 상대적 빈곤 중 '다른 사람들보다 사회적 자원을 적게 가져 사회 구성원 다수가 누리는 생활 수준에 미치지 못하는 상태로 정의되는 것은 '상대적 빈곤'이다. 따라서 A는 '상대적 빈곤', B는 '절대적 빈곤'이다. 이때 (가) 질문에 대해 B는 '예', C는 '아니요'라고 답했으므로 (가)는 '절대적 빈곤'만 동의할 수 있는 질문이 와야 한다.

<정답 고르기>

- ㄱ. A는 '상대적 빈곤', B는 '절대적 빈곤'이다.
- ㄴ. A(상대적 빈곤)는 우리나라에서 중위 소득의 50%를 기준으로 구분한다.

<오답 피하기>

- ㄷ. A(상대적 빈곤)와 B(절대적 빈곤)는 모두 객관적 빈곤(기준에 의한 빈곤)에 속한다. 따라서 B가 '실제 소득과 상관없이 개인이 체감하는 빈곤 상태'라고 볼 수 없다.
- ㄹ. B(절대적 빈곤)는 소득 수준이 높은 국가에서도 나타난다. 이때 (가)는 '절대적 빈곤'만 동의할 수 있어야 하는 질문이 와야 한다. 따라서 '소득 수준이 높은 국가에서는 나타나지 않는가?'는 (가)에 올 수 없다.

8) ③

<정답 고르기>

- ㄴ. ㉠(부장님)은 본인의 의지에 따라 얻은 지위에 속하므로 성취 지위이고, ㉡(딸)은 본인의 의지와 관계없이 얻은 지위이므로 귀속 지위이다.
- ㄷ. ㉢(대학교)은 사회화를 목적으로 설립된 기관이므로 공식적 사회화 기관이고, 고도화된 사회화가 이뤄지는 기관이므로 2차적 사회화 기관이다.

<오답 피하기>

- ㄱ. ㉠은 공식 조직이지만, 자발적 결사체가 아니다.
- ㄷ. ㉡과 같은 단순한 고민, 갈등은 역할 갈등에 해당한다고 볼 수 없다.

9) ⑤

<정답 고르기>

- ㄷ. 하나. T년과 T+10년 사이 A 자료에서 장애인의 실업률은 5%p 상승했으나 비장애인의 실업률은 2%p 상승했다는 점을 확인할 수 있다. 이를 근거로 장애인(사회적 소수자)의 실업률 상승이 비장애인의 실업률 상승보다 더 컸다고 볼 수 있다. 반면 C 자료에서 고소득층 자녀의 대학 진학률은 5%p 상승했으나 빈곤층 자녀의 대학 진학률은 10%p 상승했다는 점을 확인할 수 있다. 이를 근거로 빈곤층(사회적 소수자) 자녀의 진학률 상승이 고소득층 자녀의 진학률 상승보다 더 컸다고 볼 수 있다.

둘. 이때 선지에서 'T년 대비 T+10년에 사회적 소수자들이 겪고 있는 불평등이 완화되었다는 주장의 근거로 C가 A보다 적합하다.'라고 했다.

셋. C 자료에서는 고소득층 자녀(사회적 소수자)의 진학률 상승 폭 대비 빈곤층 자녀(사회적 소수자)의 진학률 상승 폭이 더 크게 나타나므로 불평등이 완화되었다고 볼 수 있다. 반면 A 자료에서는 장애인(사회적 소수자)의 실업률 상승 폭이 비장애인의 실업률 상승 폭보다 더 크게 나타나므로 불평등이 심화되었다고 볼 수 있다.

∴ 따라서 불평등이 완화되었다는 주장의 근거로 C가 A보다 적합하다고 판단할 수 있다.

ㄹ.

하나. 각 자료에서 격차를 분석하면 아래와 같은 결과를 얻을 수 있다.

구분	격차	%p	만 원	%p
		<A> 장애인-비장애인 실업률 격차	 남성-여성 평균 임금 격차	<C> 고소득층-저소득층 대학 진학률 격차
T년		9	60	70
T+10년		12(+3)	70(+10)	65(-5)

※ %p는 비율과 비율 사이의 격차를 나타낼 때 사용되는 단위이다. 예를 들어 10%와 5% 사이에는 '5%p의 차이가 난다'라고 표현한다.

둘. 자료를 통해 A와 B의 격차는 증가했으나, C의 격차는 감소했다는 점을 알 수 있다.

<오답 피하기>

- ㄱ. A와 B 모두를 통해 상호 중복되지 않는 집단 간의 차이를 분석할 수 있다. (∵ 장애인과 비장애인, 남성 노동자와 여성 노동자는 상호 중복되지 않는다.)
- ㄴ. B에서는 가중 평균을 통해 T년에 여성 노동자의 평균 임금(240만 원)이 전체 노동자의 평균 임금(240만 원 초과 ~ 300만 원 미만) 이하라는 점을 알 수 있다. 또 T+10년에 여성 노동자의 평균 임금(280만 원)이 전체 노동자의 평균 임금(280만 원 초과 ~ 350만 원 미만) 이하라는 점을 알 수 있다. 그러나 C에서는 고소득층 인구, 빈곤층 인구, 고소득층 및 빈곤층 외 인구 등 인구에 관한 정보를 전혀 알 수 없으므로 평균을 구할 수 없다. 따라서 C를 '사회적 소수자의 지표가 사회 전체의 평균 이하인 자료'라고 볼 수 없다.

10) ③

<정답 고르기>

- ㄴ. 기존 갑국의 국민들이 향유하던 문화인 ㉠은 주류 문화이고, 을국과 병국의 노동자가 들어오며 함께 유입된 ㉡과 ㉢은 하위문화로 볼 수 있다.
- ㄷ. ㉡과 ㉢은 모두 하위문화로, 하위문화는 해당 국가/지역 전체의 문화적 다양성을 증가시키는 요인으로 작용할 수 있다.

<오답 피하기>

ㄱ. A 지역에서 ㉠은 주류 문화이지만, ㉡이 반문화라고 볼 수는 없다. ㉢이 주류 문화인 ㉠에 대항하는 성격을 가지고 A 지역에 자리 잡았다는 내용을 자료에서 찾아볼 수 없기 때문이다.

ㄴ. 갑국은 ㉠과 ㉡을 함께 가르치는 교육과정을 채택하여 문화의 다양화를 추구하고 있다.

11) ⑤

<전제> '전화가 ~ 바뀌었다.'라는 사례를 통해 문화의 변동성을 파악할 수 있다. 또 '어린아이가 부모로부터 존댓말을 배웠다.'라는 사례를 통해 문화의 학습성을 파악할 수 있다. 따라서 ㉠은 '변동성', ㉡은 '학습성'이다. ㉢은 문화의 전체성이 부각된 사례이다.

<정답 고르기>

ㄷ. 선지의 내용은 문화의 '전체성'에 관한 내용이다.

ㄹ. 선지의 내용은 문화의 '학습성'에 관한 내용이다.

<오답 피하기>

ㄱ. ㉠은 학습성, ㉡은 변동성이다.

ㄴ. 문화의 각 부분이 상호 밀접한 관련을 맺고 있음을 의미하는 속성은 문화의 총체성이다.

12) ③

<정답 고르기>

② 을국이 피라미드형 계층 구조라면 B는 하층, C는 중층, A는 상층이어야 한다. 이때 병국의 중층 비율은 20%이고, 하층 비율은 50%, 상층 비율은 30%이다. 따라서 병국은 중층 비율이 가장 낮다.

<오답 피하기>

① 갑국이 다이아몬드형 계층 구조라면 C는 중층이어야 한다. 그러나 이 사실만으로 A와 B 중 무엇이 상층이고 무엇이 하층인지를 특정할 수 없다. 그러므로 을국의 하층의 비율이 가장 높다고 단언할 수 없다.

③ 병국이 다이아몬드형 계층 구조라면 B는 중층이어야 한다. 이때 갑국의 B(중층) 비율은 40%이고 상층과 하층의 합, 즉, A와 C의 합은 60%이다. 따라서 갑국은 상층과 하층 비율의 합이 중층의 비율과 같지 않다.

④ A가 상층이고 B가 중층이라면 C는 하층이다. 이때 갑국의 A(상층) 비율은 10%, B(중층) 비율은 40%, C(하층) 비율은 50%이다. 그러므로 갑국은 피라미드형 계층 구조이다. 한편 을국의 A(상층) 비율은 20%, B(중층) 비율은 50%, C(하층) 비율은 30%이다. 따라서 을국의 계층 구조는 다이아몬드형 계층 구조이다.

⑤ B가 하층이고 C가 상층이라면 A는 중층이다. 이때 을국의 A(중층) 비율은 20%, 병국의 A(중층) 비율은 30%이다. 따라서 을국과 병국의 중층 비율은 같지 않다.

13) ①

<전제> 제시된 자료를 통해 (가)는 산업 사회, (나)는 정보 사회임을 알 수 있다. 이때 발문에서 '(가)와 비교한 (나)의 상대적 특징'을 파악하라고 했으므로 그림에서 정보 사회의 특징에 해당하는 점을 찾아야 한다. (가-산업 사회)에 비해 (나-정보 사회)는 가정과 직장의 통합 정도가 높고, 직업의 종류가 많으며, 직접 민주 정치의 이상 실현 가능성이 높다. 그러므로 정답은 A이다.

14) ②

<전제> 제시된 자료는 '사회가 독자성을 가지고 있다'라고 말했다. 그러므로 제시된 자료의 관점은 사회 실재론과 사회 명목론 중 사회 실재론이다.

<정답 고르기 & 오답 피하기>

②는 사회 실재론에 관한 설명이고, 나머지(①, ③~⑤)는 모두 사회 명목론에 관한 설명이다.

15) ①

<전제>

하나. 갑국의 사회 보장 제도에서 비금전적 지원을 언급하고 있는 (가)는 사회 서비스이다. '소득 인정액이 일정 기준 이하인 중증 장애인'을 위한 '연금 지급 제도'를 언급하고 있는 (나)는 공공 부조이다.

둘. 각주에서 A 지역의 인구는 B 지역 인구의 0.5배라고 언급했다. 그러므로 A 지역의 인구를 0.5b, B 지역의 인구를 b라고 가정한다.

셋. A 지역의 (가) 자료를 바탕으로 한 가중평균 풀이를 통해 (A 지역 남성 인구) : (A 지역 여성 인구) = 1 : 1이라는 점을 확인할 수 있다. B 지역의 (가) 자료를 바탕으로 한 가중평균 풀이를 통해 (B 지역 남성 인구) : (B 지역 여성 인구)가 5:3이라는 점을 확인할 수 있다.

∴ 이러한 과정으로 인구수를 정리하면 아래와 같은 결과를 얻을 수 있다.

구분	A 지역 남성	A 지역 여성	B 지역 남성	B 지역 여성
인구수	$0.25b = \frac{1}{4}b$	$0.25b = \frac{1}{4}b$	$\frac{5}{8}b$	$\frac{3}{8}b$

※ 저는 숫자 가정 없이, 100 없이, 미지수로 간결하게 해설하는 방식을 선호하여 위와 같이 인구수를 정리했습니다. 숫자 가정을 통한 해설이 필요하신 분은 EBS 수능특강 해설을 참고하시면 됩니다.

<정답 고르기>

ㄱ. B 지역의 (가) 제도의 수혜자 수는 남성이 $\frac{5}{8}b \times 10$ 명, 여성이 $\frac{3}{8}b \times 14$ 명이다. $50b$ 는 $42b$ 보다 크다. 그러므로 B 지역에서 남성 수혜자 수는 여성 수혜자 수보다 많다.

ㄴ.

하나. 공공 부조에 속한 제도는 (나) 제도이다. (나) 제도의 여성 수혜자 수 대비 남성 수혜자 수의 비의 값은 아래와 같이 정리할 수 있다.

$$- A \text{ 지역 } \frac{\frac{1}{4}b \times 8}{\frac{1}{4}b \times 9}, B \text{ 지역 } \frac{\frac{5}{8}b \times 14}{\frac{3}{8}b \times 6}$$

둘. 두 값을 굳이 구할 필요 없이 선지에서 말한 대로 가정하여 부등식으로 풀다. 모순이 생기지 않으면 선지의 내용이 적절한 거고, 모순이 생기면 선지의 내용이 적절하지 않은 거다.

$$\frac{\frac{1}{4}b \times 8}{\frac{1}{4}b \times 9} < \frac{\frac{5}{8}b \times 14}{\frac{3}{8}b \times 6} \Rightarrow \frac{8}{9} < \frac{5 \times 14}{3 \times 6} \Rightarrow \frac{8}{9} < \frac{5 \times 7}{3 \times 3} \Rightarrow \frac{8}{9} < \frac{35}{9}$$

셋. 가정에 모순이 없으므로 이 선지는 적절하다.

<오답 피하기>

ㄴ.

하나. B 지역에서의 성별 수혜자 수 차이는 아래와 같다.

$$- (가) \text{ 제도 } |\frac{5}{8}b \times 10 - \frac{3}{8}b \times 14|, (나) \text{ 제도 } |\frac{5}{8}b \times 14 - \frac{3}{8}b \times 6|$$

둘. 두 값을 굳이 구할 필요 없이 선지에서 말한 대로 가정하여 부등식으로 풀다. 모순이 생기지 않으면 선지의 내용이 적절한 거고, 모순이 생기면 선지의 내용이 적절하지 않은 거다.

$$|\frac{5}{8}b \times 10 - \frac{3}{8}b \times 14| > |\frac{5}{8}b \times 14 - \frac{3}{8}b \times 6|$$

$$|5b \times 10 - 3b \times 14| > |5b \times 14 - 3b \times 6|$$

$$\therefore 8b > 62b$$

셋. 결론에 모순이 생겼으므로 이 선지는 적절하지 않다.

ㄹ.

하나. 금전적 지원을 원칙으로 하는 제도는 (나) 제도이고, 비금전적 지원을 원칙으로 하는 제도는 (가) 제도이다. 지역별 (나) 수혜자 수 대비 (가) 수혜자 수의 비는 아래와 같다.

- A 지역 $\frac{13}{9}$, B 지역 $\frac{14}{6}$

둘. 선지에서 말한 대로 가정하여 부등식으로 풀다. 모순이 생기지 않으면 선지의 내용이 적절한 거고, 모순이 생기면 선지의 내용이 적절하지 않은 거다.

$\frac{13}{9} > \frac{14}{6}$

[TIP] 분수에서 분모의 크기가 작아지고, 분자의 크기가 커졌다면 증가한 것이다. 즉, 위 경우에서 $\frac{13}{9}$ 보다 $\frac{14}{6}$ 가 더 크다.

셋. 결론에 모순이 생겼으므로 이 선지는 적절하지 않다.

16) ④

<전제> 갑국에서는 자발적 문화 접변을 통한 문화 융합이 일어났다. 을국에서는 문화 접변이 일어날 뻔했지만 강력한 규제 정책으로 인해 실제로 문화 접변이 일어나진 못했다. 정국에서는 강제적 문화 접변(병국으로부터의 전통 종교 이식)으로 인해 문화 동화가 나타났다.

<정답 고르기>

ㄴ. 을국에서는 새로운 문화에 대한 거부가 나타났다. 그러나 제시문에는 문화 충격, 아노미가 나타나 있지 않다.

ㄷ. 갑국에서는 직접 전파에 의해 문화 변동이 일어났다. 그러나 을국에서는 강력한 규제로 인해 문화 변동이 일어나지 않았다. 병국에서도 문화 변동이 일어나지 않았다.

<오답 피하기>

ㄱ. 갑국에서는 외래문화 요소(병국 전통 종교)가 변형되어 제3의 새로운 문화 요소가 등장했다.

ㄷ. 정국에서는 강제적 문화 접변에 의해 문화 동화가 나타났다.

17) ①

<정답 고르기>

ㄱ. A가 관료제라면 B는 탈관료제이다. 이때 (가)는 B(탈관료제)보다 A(관료제)에서 더 두드러지게 나타나는 특징이어야 한다. '직급 체계의 세분화 정도'는 A(관료제)에서 더 두드러지게 나타나는 특징이 맞다. 따라서 (가)에 들어갈 수 있다.

ㄴ. B가 탈관료제라면 A는 관료제이다. 이때 (나)는 A(관료제)보다 B(탈관료제)에서 더 두드러지게 나타나는 특징이어야 한다. '조직의 유연성 정도'는 B(탈관료제)에서 더 두드러지게 나타나는 특징이 맞다. 따라서 (가)에 들어갈 수 있다.

<오답 피하기>

ㄷ. '업무의 표준화 정도'는 탈관료제보다 관료제에서 두드러지게 나타나는 특징이다. 만약 (가)가 '업무의 표준화 정도'라면, A는 '관료제'이고 B는 '탈관료제'이다. 이때 능력에 따른 보상 원칙을 강조하는 것은 '탈관료제'이다. 따라서 적절하지 않다.

ㄷ. '의사 결정 권한의 분산 정도'는 관료제보다 탈관료제에서 두드러지게 나타나는 특징이다. 만약 (나)가 '의사 결정 권한의 분산 정도'라면, B는 '탈관료제'이고 A는 '관료제'이다. 이때 조직에서 중간 관리층의 비중이 높은 것은 '관료제'이다. 따라서 적절하지 않다.

18) ⑤

<전제> 제시된 사회학자 A의 설명 말미에서 '국가는 이렇게 성립되고 전복되며, 역사에는 성장과 쇠퇴, 정복과 붕괴가 연속적으로 나타난다.'라는 내

용을 찾을 수 있다. 그러므로 사회 변동을 설명하는 이론인 진화론과 순환론 중 사회학자 A의 입장은 순환론이다.

<정답 고르기&오답 피하기>

- ㄱ과 ㄴ은 진화론에 관한 설명이고, ㄷ과 ㄹ은 순환론에 관한 설명이다.

19) ②

<전제> 갑은 종교가 '지배 집단에 유리한 현재 상태를 정당화하고 사회 변혁을 저지하는 수단'이라고 본다. 그러므로 갑의 관점은 갈등론이다. 을은 종교가 '사람들이 일상생활에서 서로의 행동을 해석하고 반응하는 과정을 통해 나타난 것'이라고 했다. 그러므로 을의 관점은 상징적 상호 작용론이다. 병은 종교가 '사회 구성원을 도덕 공동체 안에 결집시켜 사회 질서의 형성과 유지에 기여'한다고 본다. 그러므로 병의 관점은 기능론이다.

<정답 고르기>

② 을의 관점(상징적 상호 작용론)은 미시적 관점으로, 개인의 행위를 구속하는 사회 체계의 힘을 간과한다는 비판을 받는다.

<오답 피하기>

① 갑의 관점(갈등론)은 거시적 관점으로, 인간이 자율성을 지닌 능동적인 존재임을 강조하지 않는다. 선지의 내용은 '상징적 상호 작용론'에만 해당한다.

③ 병의 관점(기능론)은 거시적 관점으로, 사회 질서가 상징에 기초한 개인 간 상호 작용을 통해 형성된다고 보지 않는다. 선지의 내용은 '상징적 상호 작용론'에만 해당한다.

④ 갑의 관점(갈등론)은 기득권층의 이익을 대변하는 논리로 이용된다는 비판을 받지 않는다. 선지의 내용은 '기능론'에만 해당한다.

⑤ 병의 관점(기능론)과 갑의 관점(갈등론)은 모두 거시적 관점에 해당한다.

20) ⑤

<전제>

하나. t년 인구

- t년의 전체 인구를 100명으로 가정한다. 이때 노인 인구 비율이 5%이므로 노인 인구는 5명이다. 또 노령화 지수가 20이므로 유소년 인구:노인 인구=5:1이다. 따라서 유소년 인구는 25명이다. 부양 인구는 100-30=70명이다.

둘. t+30년 인구

- t년의 전체 인구에서 20%가 증가했으므로 t+30년의 전체 인구는 120명이다. 이때 노인 인구 비율이 12.5%이다. 120의 12.5%를 계산하는 것보다 12.5의 120%를 계산하는 것이 더 빠르므로 이를 계산하면 12.5+2.5=15이다. 따라서 노인 인구는 15명이다. 또 노령화 지수가 100이므로 유소년 인구:노인 인구=1:1이다. 따라서 유소년 인구는 15명이다. 부양 인구는 120-30=90명이다.

[TIP] 곱셈의 교환 법칙에 의해 a의 b%와 b의 a%는 같다.

증명) $a \times \frac{b}{100} = b \times \frac{a}{100}$ <← 2×4=4×2와 같은 원리로 생각하면 쉽다.

셋. t+60년 인구

- t+60년의 전체 인구에서 20%가 감소했으므로 t+60년의 전체 인구는 96명이다. 이때 노인 인구 비율이 25%, 즉 1/4이므로 노인 인구는 24명이다. 또 노령화 지수가 100이므로 유소년 인구:노인 인구=1:6이다. 따라서 유소년 인구는 4명이다. 부양 인구는 96-28=68명이다.

∴ 정리

구분 (명)	유소년 인구	부양 인구	노인 인구	합
t년	25	70	5	100
t+30년	15	90	15	120
t+60년	4	68	24	96

<정답 고르기>

ㄷ.

하나. 유소년 인구 대비 노인 인구를 연도별로 표현해보면 아래와 같다.

$$- t\text{년 } \frac{5}{25}, t+30\text{년 } \frac{15}{15}, t+60\text{년 } \frac{24}{4}$$

둘. t 년에서 $t+60$ 년으로 갈수록 분모의 크기는 작아지고, 분자의 크기는 커진다.

셋. 따라서 $t+60$ 년이 가장 크다.

ㄹ. t 년 대비 $t+30$ 년에 증가한 노인 인구와 감소한 유소년 인구는 모두 10명이다.

<오답 피하기>

ㄱ. 갑국의 노인 인구는 $t+60$ 년이 t 년의 5배가 아니다.

ㄴ. 갑국의 총부양비는 t 년이 $\frac{30}{70} = \frac{3}{7}$, $t+30$ 년이 $\frac{30}{90} = \frac{1}{3}$ 이다. 이때 $\frac{3}{7}$ 은 $\frac{1}{3}$ 보다 크다. 그러므로 $t+30$ 년보다 t 년이 더 크다.

[TIP] $\frac{30}{70}$ 과 $\frac{30}{90}$ 을 비교하는 상황에서 약분하지 않고 $\frac{30}{70}$ 의 분모의 크기가 더 작으므로 $\frac{30}{70}$ 이 $\frac{30}{90}$ 보다 더 크다고 판단해도 무방하다.

사회문화 만점의 시작과 끝,
릿츠사문