

제 2 교시

수학 영역

15회

8.

정답: ④

해설1:

$\lim_{x \rightarrow \infty} \frac{x^3 - f(x)}{x^2} = 3$ 에서  $x^3 - f(x)$ 은 최고차항의 계수가 3, 차수가 2라는 것을 알 수 있다.

$x^3 - f(x) = 3x^2 + ax + b$ 라 하면  $f(x) = x^3 - 3x^2 - ax - b$ 이다.

$\lim_{x \rightarrow 1} \frac{f(x) - 2}{x - 1} = 2$ 에서 (분모)  $\rightarrow 0$ 이므로 극한값이 존재하려면

$f(1) = 2$ 여야 하고,

$\lim_{x \rightarrow 1} \frac{f(x) - 2}{x - 1} = \lim_{x \rightarrow 1} \frac{f(x) - f(1)}{x - 1} = f'(1) = 2$ 이다.

$f(1) = -a - b - 2 = 2$ 이고,  $f'(1) = 3 - 6 - a = 2$ 이므로  $a = -5$ ,  $b = 1$ 이다.

따라서  $f(x) = x^3 - 3x^2 + 5x - 1$ 이고,  $f(3) = 14$ 이다.

해설2:

$f(1) = 2$ ,  $f'(1) = 2$ 이고  $f(x) = x^3 - 3x^2 + \dots$ 이므로,

$f(x) = (x-1)^3 + a(x-1)^2 + 2(x-1) + 2$ 라고 식 세운 후, 이차항의 계수가  $-3$ 인 것을 통해  $a=0$ 임을 알 수 있다.

따라서  $f(x) = (x-1)^3 + 2(x-1) + 2$ 이고,

$f(3) = (3-1)^3 + 2 \times (3-1) + 2 = 14$ 이다.

여담:

무한대로 가는 극한과 미분계수만 잘 해석할 수 있으면 무난하게 풀 수 있는 문제.

해설 2의 풀이도 알아두자. 문자를 하나만 써도 된다.

9.

정답: ⑤

해설:

점 A의 x좌표를 a라 할 때

$f(a) = 1$ 이고  $af(a) + \frac{3}{4} = 1$ 이므로  $a = \frac{1}{4}$ 이다.

또한 점 A에서 두 곡선의 접선은 서로 수직이므로  $f'(a) \times \{af'(a) + f(a)\} = -1$ 이고, 정리하면  $f'(a) = -2$ 이다.

그러므로  $f(a) = f\left(\frac{1}{4}\right) = 1$ 이고,  $f'(a) = f'\left(\frac{1}{4}\right) = -2$ 이므로

$f(x) = \left(x - \frac{1}{4}\right)^2 - 2\left(x - \frac{1}{4}\right) + 1$ 이다.

따라서  $f(2) = \left(2 - \frac{1}{4}\right)^2 - 2 \times \left(2 - \frac{1}{4}\right) + 1 = \frac{9}{16}$ 이다.

여담:

무난하게 계산만 잘 하면 되는 문제.

10.

정답: ③

해설:

1)  $a_2 > -1$ 인 경우

$$a_3 = a_2 - 7 \text{이고,}$$

$$a_4 = (a_2 - 7)^2 - (a_2 - 7) \text{ (단, } a_2 - 7 \leq -1 \text{)}$$

또는  $a_4 = a_2 - 14$  (단,  $a_2 - 7 > -1$ ) 이다.

주어진 조건에 의해  $a_4 - a_2 = 1$ 이므로

$$a_4 = (a_2 - 7)^2 - (a_2 - 7) \text{이고, (단, } a_2 \leq 6 \text{)}$$

$$a_4 - a_2 = (a_2 - 7)^2 - (a_2 - 7) - a_2 = 1 \text{이다.}$$

이를 만족시키는  $-1 < a_2 \leq 6$ 인  $a_2$ 의 값은  $a_2 = 5$ 이고,

$$\text{이 경우 } a_3 = 5 - 7 = -2, a_4 = (-2)^2 - (-2) = 6,$$

$$a_5 = 6 - 7 = -1 \text{이므로 } a_5 > 0 \text{을 만족하지 않는다.}$$

따라서  $a_2 \leq -1$ 이다.

2)  $a_2 \leq -1$ 인 경우

$$a_3 = (a_2)^2 - a_2 \geq 2 \text{이므로 } a_4 = (a_2)^2 - a_2 - 7 \text{이다.}$$

또한  $a_4 - a_2 = (a_2)^2 - a_2 - 7 - a_2 = 1$ 을 만족시키는  $a_2 \leq -1$ 인

$a_2$ 의 값은  $a_2 = -2$ 이고,

$$\text{이때 } a_3 = (-2)^2 - (-2) = 6, a_4 = 6 - 7 = -1,$$

$$a_5 = (-1)^2 - (-1) = 2 \text{이므로 } a_5 > 0 \text{을 만족시킨다.}$$

$a_2 = -2$ 이므로 가능한  $a_1$ 의 값은  $a_1 = (-2) + 7 = 5$ 이고,

$((a_1)^2 - a_1 = -2$ 는 불가능)

$$a_3 = 6, a_6 = 2 - 7 = -5 \text{이므로}$$

$$a_1 + a_3 + a_6 = 5 + 6 + (-5) = 6 \text{이다.}$$

여담:

범위에 조심하며 차근차근 케이스분류하자.

11.

정답: ②

해설:

step1 주어진 부등식 해석

$$f(x_1)f(x_2) - f(x_1) - f(x_2) + 1 = \{f(x_1) - 1\}\{f(x_2) - 1\} \text{이므로}$$

$x_1 < 2 < x_2$ 인 모든 실수  $x_1, x_2$ 에 대하여

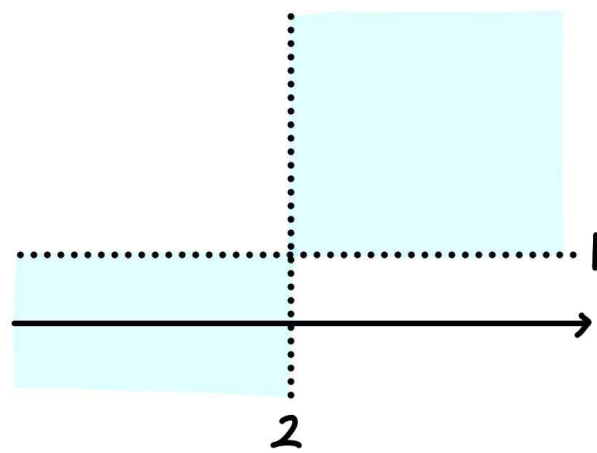
$$\{f(x_1) - 1\}\{f(x_2) - 1\} \leq 0 \text{이다.}$$

즉,  $x < 2$ 일 때  $f(x) \leq 1$ 이고,  $x > 2$ 일 때  $f(x) \geq 1$ 인 경우거나,

$x < 2$ 일 때  $f(x) \geq 1$ 이고,  $x > 2$ 일 때  $f(x) \leq 1$ 인 경우이다.

이때  $f(x)$ 는 최고차항의 계수가 양수인 삼차함수이므로  $x \rightarrow \infty$ 일 때  $f(x) \rightarrow \infty$ 이고,

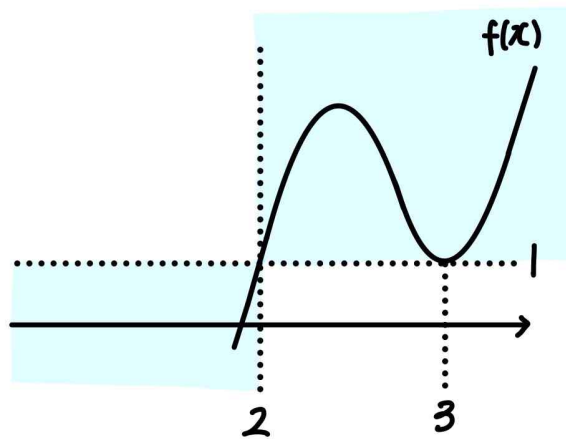
따라서  $x < 2$ 일 때  $f(x) \leq 1$ 이고,  $x > 2$ 일 때  $f(x) \geq 1$ 이다.



그러므로  $f(2) = 1$ 이다.

step2

주어진 조건에 의해  $f(3) = 1$ 인데,  $x = 3$  주위에서  $f(x) - 1$ 의 부호가 바뀌면 안되므로  $f'(3) = 0$ 이다.



따라서  $f(x) = (x-2)(x-3)^2 + 1$ 이고,  
 $f(5) = (5-2) \times (5-3)^2 + 1 = 13$ 이다.

**여담:**

주어진 부등식을 인수분해해서 해석하기.

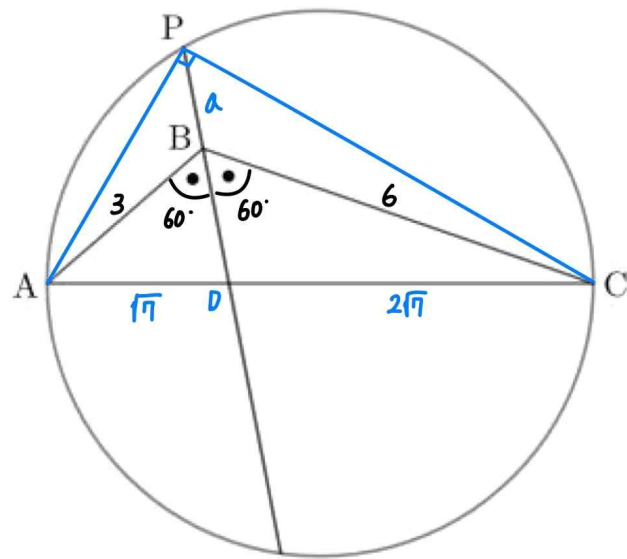
$f(x) - 1$ 이라는 함수의 부호변화를 기준으로 해석하면  
 $f'(3) = 0$ 을 찾기 편하다.

12.

정답: ④

해설:

step1



선분 AC와 직선 BP의 교점을 점 D라 하고,

선분 AP와 선분 CP를 그려보자.

삼각형 ABC에서 코사인법칙을 사용하면,

$$(\overline{AC})^2 = (\overline{AB})^2 + (\overline{BC})^2 - 2 \times (\overline{AB}) \times (\overline{BC}) \times \cos \angle ABC \text{이므로}$$

$$(\overline{AC})^2 = 3^2 + 6^2 - 2 \times 3 \times 6 \times \left(-\frac{1}{2}\right) = 63 \text{이고, } \overline{AC} = 3\sqrt{7} \text{이다.}$$

이때 삼각형 ABC에서 선분 BD는 각 B의 이등분선이므로,  
 $\overline{AB} : \overline{BC} = \overline{AD} : \overline{CD}$ 이다.

따라서  $\overline{AC} = 3\sqrt{7}$ 이고,  $\overline{AD} : \overline{CD} = 1 : 2$ 이므로  $\overline{AD} = \sqrt{7}$ ,  
 $\overline{CD} = 2\sqrt{7}$ 이다.

step2

$\overline{BP} = a$ 라 하자.

삼각형 ABP에서 코사인법칙을 사용하면,

$$(\overline{AP})^2 = (\overline{AB})^2 + (\overline{BP})^2 - 2 \times (\overline{AB}) \times (\overline{BP}) \times \cos \angle ABP \text{이므로}$$

$$(\overline{AP})^2 = 3^2 + a^2 - 2 \times 3 \times a \times \left(-\frac{1}{2}\right) \text{이고,}$$

삼각형 BCP에서 코사인법칙을 사용하면,

$$(\overline{CP})^2 = (\overline{BC})^2 + (\overline{BP})^2 - 2 \times (\overline{BC}) \times (\overline{BP}) \times \cos \angle CBP \text{이므로}$$

$$(\overline{CP})^2 = 6^2 + a^2 - 2 \times 6 \times a \times \left(-\frac{1}{2}\right) \text{이다.}$$

이때 삼각형 ACP에서 선분 AC는 주어진 원의 지름이므로  $\angle APC = 90^\circ$  이다.

따라서  $(\overline{AC})^2 = (\overline{AP})^2 + (\overline{CP})^2$ 이므로

$$(3\sqrt{7})^2 = \left\{3^2 + a^2 - 2 \times 3 \times a \times \left(-\frac{1}{2}\right)\right\} + \left\{6^2 + a^2 - 2 \times 6 \times a \times \left(-\frac{1}{2}\right)\right\}$$

이고,

정리하면  $2a^2 + 9a - 18 = 0$ 이므로  $a = \overline{BP} = \frac{3}{2}$ 이다.

**여담:**

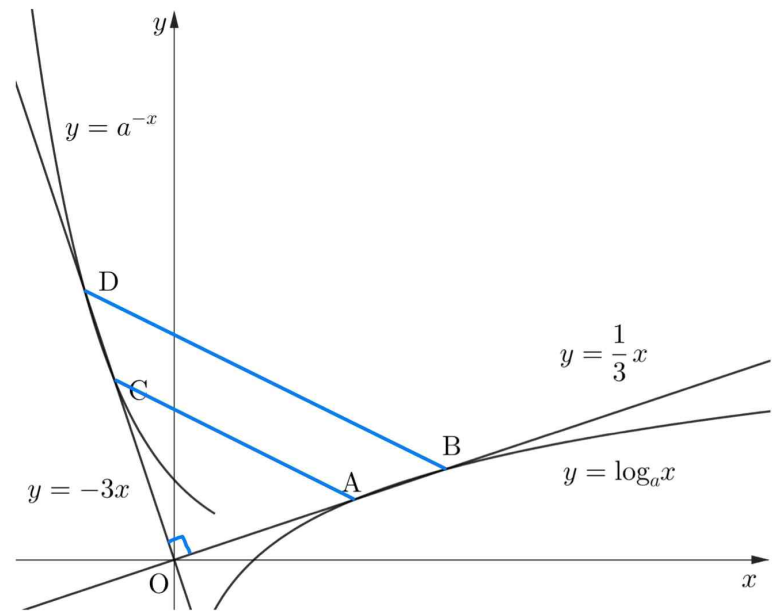
선분 AC가 지름이고 점 P가 주어진 원 위의 점이므로 선분 AP와 선분 CP를 긋는 발상은 꼭 했어야 한다.

13.

**정답:** ③

**해설:**

step1



주어진 조건에 의해

(삼각형 OAC의 넓이) : (사각형 ABDC의 넓이) = 4 : 5이므로

(삼각형 OAC의 넓이) : (삼각형 OBD의 넓이) = 4 : 9임을 알 수 있다.

이때  $y = -3x$ 를 원점에 대해  $90^\circ$  회전시키면  $y = \frac{1}{3}x$ 가 되고,

$y = a^{-x}$ 를 원점에 대해  $90^\circ$  회전시키면  $y = \log_a x$ 가 된다.

따라서 선분 OC를 원점에 대해  $90^\circ$  회전시키면 선분 OA가 되고, 선분 OD를 원점에 대해  $90^\circ$  회전시키면 선분 OB가 되므로,

$\overline{OA} = \overline{OC}$ ,  $\overline{OB} = \overline{OD}$ ,  $\angle AOC = 90^\circ$  이고,

삼각형 AOC와 삼각형 BOD는 직각이등변삼각형이다.

그러므로 삼각형 AOC와 삼각형 BOD는 닮음이고, 넓이비가 4 : 9이므로 길이비가 2 : 3이다.

step2

점 A와 점 B는 직선  $y = \frac{1}{3}x$  위의 점이고, 선분 OA와 선분 OB의 길이비가 2 : 3이므로,

점 A의 좌표를  $(6p, 2p)$ , 점 B의 좌표를  $(9p, 3p)$ 라 하자.

점 A와 점 B는  $y = \log_a x$  위의 점이므로

$2p = \log_a 6p, 3p = \log_a 9p$ 이다.

따라서  $a^{2p} = 6p, a^{3p} = 9p$ 이므로  $a^p = \frac{3}{2}$ 이고,  $p = \frac{3}{8}$ 이다.

그러므로  $a^{\frac{3}{8}} = \frac{3}{2}$ 이므로  $a = \left(\frac{3}{2}\right)^{\frac{8}{3}}$ 이다.

**여담:**

- 1) 주어진 그래프들의  $90^\circ$  회전 이동 관계를 파악해 삼각형 AOC와 삼각형 BOD는 직각이등변삼각형이라는 점 파악하기.
- 2) 삼각형 AOC와 삼각형 BOD는 닮음이므로 선분 OA와 선분 OB의 길이비를 구할 수 있고, 이를 통해 점 A와 점 B의 좌표 설정하기.
- 3) 넓이비는 닮음비의 제곱이라는 점 기억하기!

**14.**

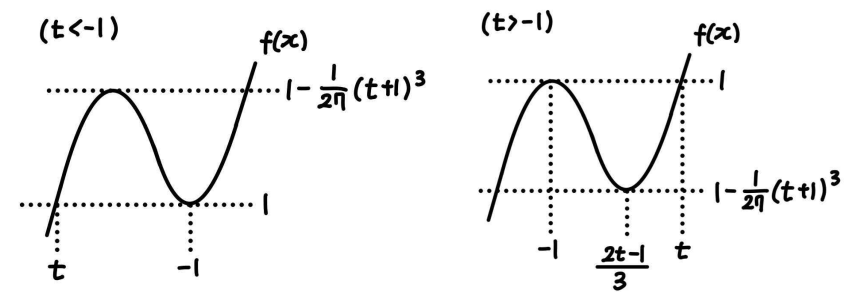
**정답:** ③

**해설:**

**step1**

$f(f(x))=0$ 의 서로 다른 실근의 개수는,  $f(x)=0$ 의 서로 다른 실근을  $x_1, x_2, x_3$ 라 했을 때,  $f(x)=x_1$  또는  $f(x)=x_2$  또는  $f(x)=x_3$ 을 만족시키는 서로 다른 모든  $x$ 의 개수이다.

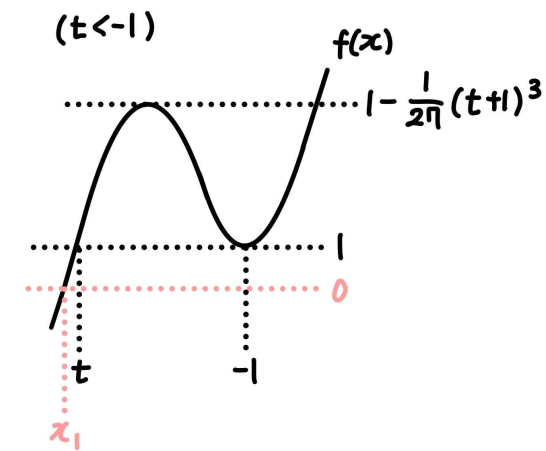
(단,  $x_1 < x_2 < x_3$ 이고,  $f(x)=0$ 의 서로 다른 실근이 1개 또는 2개 존재할 수도 있다.)



**step2**

ㄱ.

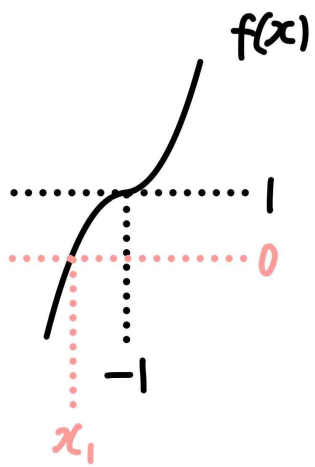
1)  $t < -1$ 인 경우



$f(x)=0$ 의 실근은  $x=x_1$ 의 1개이다. (단,  $x_1 < -1$ )

이때  $f(x)=x_1$ 의 실근은 1개이기 때문에  $g(t)=1$ 이다.

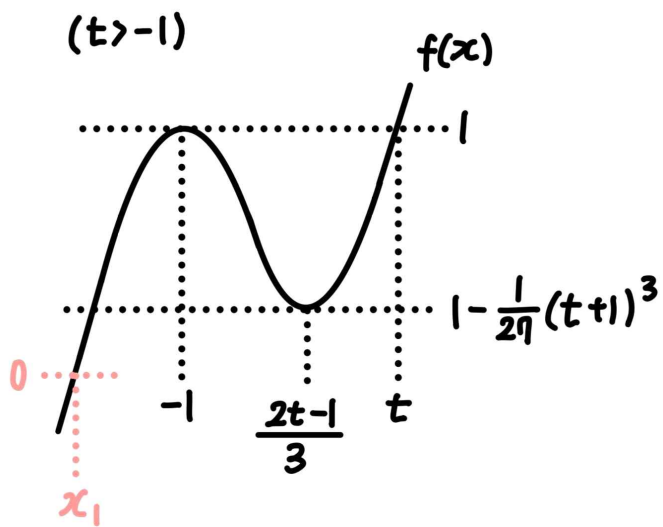
2)  $t = -1$ 인 경우



$f(x)$ 는 증가함수이므로  $f(x)=0$ 의 실근은  $x=x_1$ 의 1개이다.  
(단,  $x_1 < -1$ )

이때  $f(x)=x_1$ 의 실근은 1개이기 때문에  $g(-1)=1$ 이다.

3)  $-1 < t < 2$ 인 경우



$0 < 1 - \frac{1}{27}(t+1)^3 < 1$ 이므로  $f(x)=0$ 의 실근은  $x=x_1$ 의 1개이다. (단,  $x_1 < -1$ )

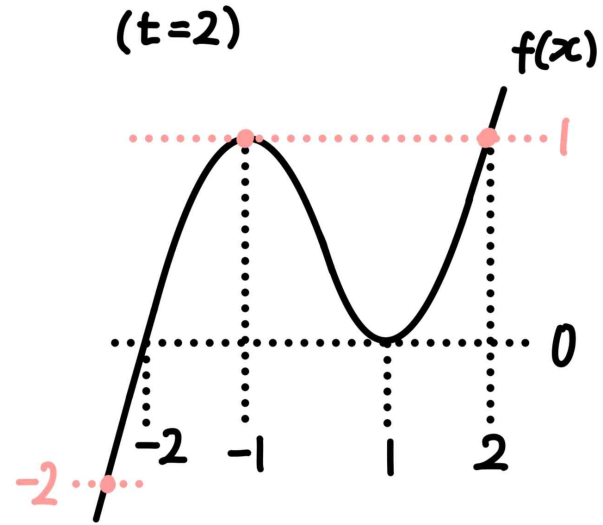
이때  $f(x)=x_1$ 의 실근은 1개이기 때문에  $g(t)=1$ 이다.

따라서  $t < 2$ 이면  $g(t)=1$ 이므로  $\neg$ 은 참이다.

$\neg$ .

$\neg$ 에서  $g(2-)=1$ 이다.

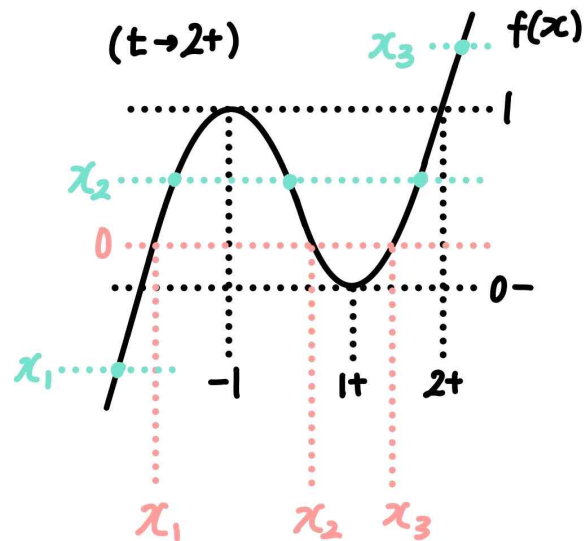
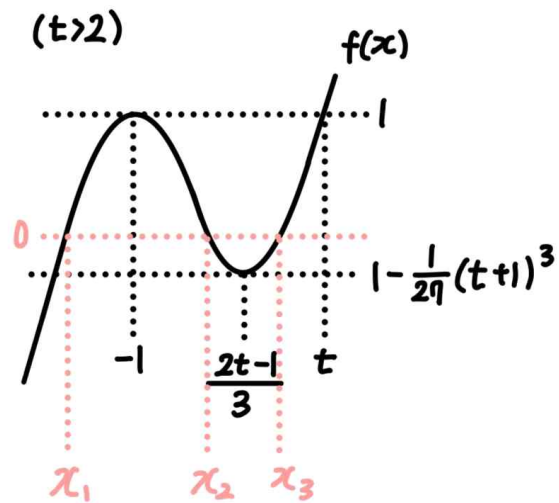
$t=2$ 일 때  $f(x)=0$ 의 실근은  $x=-2, x=1$ 의 두 개이고,  $f(x)=-2$ 의 실근은 1개,  $f(x)=1$ 의 실근은 2개이므로  $g(2)=3$ 이다.



$t \rightarrow 2+$ 일 때  $f(x)=0$ 의 실근은  $x=x_1, x_2, x_3$ 의 3개이다.

(단,  $t \rightarrow 2+$ 일 때  $x_1 < -1, 0 < x_2 < \frac{2t-1}{3} < 1, 1 < x_3 < 2$ )

이때  $f(x)=x_1$ 의 서로 다른 실근은 1개,  $f(x)=x_2$ 의 서로 다른 실근은 3개,  $f(x)=x_3$ 의 서로 다른 실근은 1개이므로  $g(2+)=5$ 이다.



따라서  $g(2+) - g(2-) = g(2) + 1 = 4$ 이므로,  $\neg$ 은 참이다.

$\neg$ .

$g(t)$ 의 값은 정수이고,  $1 \leq g(t) \leq 9$ 이다.

$t = \frac{1}{3}$ 일 때  $f(x)=0$ 의 실근은  $x=x_1$ 의 1개이고,  $f(x)=x_1$ 의

실근도 1개이므로  $g\left(\frac{1}{3}\right)=1$ 이다.

$t = \frac{2}{3}$ 일 때  $f(x)=0$ 의 실근은  $x=x_1$ 의 1개이고,  $f(x)=x_1$ 의

실근도 1개이므로  $g\left(\frac{2}{3}\right)=1$ 이다.

$t=1$ 일 때  $f(x)=0$ 의 실근은  $x=x_1$ 의 1개이고,  $f(x)=x_1$ 의 실근도 1개이므로  $g(1)=1$ 이다.

$t = \frac{4}{3}$ 일 때  $f(x)=0$ 의 실근은  $x=x_1$ 의 1개이고,  $f(x)=x_1$ 의

실근도 1개이므로  $g\left(\frac{4}{3}\right)=1$ 이다.

$t = \frac{5}{3}$ 일 때  $f(x)=0$ 의 실근은  $x=x_1$ 의 1개이고,  $f(x)=x_1$ 의

실근도 1개이므로  $g\left(\frac{5}{3}\right)=1$ 이다.

$t=2$ 일 때  $f(x)=0$ 의 실근은  $x=x_1, x=x_2$ 의 2개이고,  $f(x)=x_1$ 의 실근은 1개,  $f(x)=x_2$ 의 실근은 1개 이므로  $g(2)=2$ 이다.

$t = \frac{7}{3}$ 일 때  $f(x)=0$ 의 실근은  $x=x_1, x=x_2, x=x_3$ 의 3개이고,

$g\left(\frac{7}{3}\right)<7$ 이다.

$t = \frac{8}{3}$ 일 때  $f(x)=0$ 의 실근은  $x=x_1, x=x_2, x=x_3$ 의 3개이고,

$g\left(\frac{8}{3}\right)<8$ 이다.

$t=3$ 일 때  $f(x)=0$ 의 실근은  $x=x_1, x=x_2, x=x_3$ 의 3개이고,  $g(3)<9$ 이다.

따라서  $g(t)=3t$ 이도록 하는 실수  $t$ 는  $t = \frac{1}{3}$ 의 1개이므로,

ㄷ은 거짓이다.

**여담:**

$f(f(x))=0$ 의 해석방법 알아두기.

ㄷ에서  $t$ 의 값이 정수일 필요가 없다는 점 놓치지 말기!

**15.**

**정답:** ④

**해설:**

**step1**  $a_4$  구하기

$a_{m+2} < a_{m+1} < a_m$ 을 만족시키는 자연수  $m$ 의 최솟값은 5이므로,

$a_7 < a_6 < a_5$ 이고,  $a_5 \geq a_4$ 이다.

또한  $a_{n+1} = \begin{cases} a_n + n & (a_n \leq 0, a_n = 3) \\ a_n - n & (0 < a_n < 3, a_n > 3) \end{cases}$ 이다.

$a_4 = a$ 라 하면,  $a_5 \geq a_4$ 이므로  $a_5 = a + 4$ 이고  $a \leq 0$  또는  $a = 3$ 이다.

$a_5 = a + 4$ 일 때  $a_6 < a_5$ 이므로  $a_6 = a_5 - 5 = a - 1$ 이고,  $0 < a + 4 < 3$  또는  $a + 4 > 3$ 이다.

$a_6 = a - 1$ 일 때  $a_7 < a_6$ 이므로  $a_7 = a_6 - 6 = a - 7$ 이고,  $0 < a - 1 < 3$  또는  $a - 1 > 3$ 이다.

따라서  $a \leq 0$  또는  $a = 3$ 이고,  $-4 < a < -1$  또는  $a > -1$ 이며,  $1 < a < 4$  또는  $a > 4$ 를 모두 만족하는  $a$ 의 값은  $a = 3$ 이다.

그러므로  $a_4 = 3, a_5 = 7, a_6 = 2, a_7 = -4$ 이다.

**step2**  $a_1$  구하기

$a_4 = 3$ 일 때  $a_3 = 6$  또는  $a_3 = 0$ 이다.

만약  $a_3 = 6$ 이라면  $a_2 = 8$ 이고,  $a_1 = 9$ 인데, 이 경우  $a_{m+2} < a_{m+1} < a_m$ 을 만족시키는 자연수  $m$ 의 최솟값은 1이기 때문에 모순이다.

따라서  $a_3 = 0$ 이고, 이때  $a_2 = 2$  또는  $a_2 = -2$ 인데,

만약  $a_2 = 2$ 라면 가능한  $a_1$ 의 값이 존재하지 않으므로  $a_2 = -2$ 이고,  $a_1 = -3$ 이다.

**step3**  $a_{21}$  구하기

$a_7 = -4$ 이므로

$a_8 = -4 + 7 = 3, a_9 = 3 + 8 = 11, a_{10} = 11 - 9 = 2,$

$a_{11} = 2 - 10 = -8$ 이고,

$a_{12} = -8 + 11 = 3, a_{13} = 3 + 12 = 15, a_{14} = 15 - 13 = 2,$

$a_{15} = 2 - 14 = -12$ 이며,

$$a_{16} = -12 + 15 = 3, a_{17} = 3 + 16 = 19, a_{18} = 19 - 17 = 2,$$

$$a_{19} = 2 - 18 = -16 \text{이므로}$$

$$a_{20} = -16 + 19 = 3 \text{이고 } a_{21} = 3 + 20 = 23 \text{이다.}$$

$$\text{따라서 } a_{21} - a_1 = 23 - (-3) = 26 \text{이다.}$$

**여담:**

1)  $a_7 < a_6 < a_5$ 이고,  $a_5 \geq a_4$ 이라는 점을 통해  $a_4$ 의 값을 구할 수 있다.

2)  $a_{m+2} < a_{m+1} < a_m$ 을 만족하는 자연수  $m$ 의 최솟값이 5라는 점 놓치지 말기. ( $m=1$ 일 때  $a_{m+2} < a_{m+1} < a_m$ 이면 안 된다.)

3)  $a_{21}$ 을 구할 때,  $a_n$ 의 주기성을 파악해서 구해도 된다.

$$\text{자연수 } k \text{에 대하여 } \begin{cases} a_{4k-3} = 4k-1 & (k \geq 2) \\ a_{4k-2} = 2 & (k \geq 2) \\ a_{4k-1} = -4(k-1) & (k \geq 1) \\ a_{4k} = 3 & (k \geq 1) \end{cases} \text{이다.}$$

**20.**

**정답:** 20

**해설:**

**step1**

$x$ 에 대한 방정식  $2f(x) = g\left(\frac{x}{2}\right)$ 은, 양변을  $f$ 라는 함수에 대입한

$f(2f(x)) = f\left(g\left(\frac{x}{2}\right)\right)$ 와 의미가 같다. ( $f$ 는 일대일 대응이므로)

$f\left(g\left(\frac{x}{2}\right)\right) = \frac{x}{2}$ 이므로,  $2f(x) = h(x)$ 라 하면,

방정식  $2f(x) = g\left(\frac{x}{2}\right)$ 은 방정식  $h(h(x)) = x$ 와 같다.

**step2**

$$h(x) = 2f(x) = \frac{1}{4}x^3 + \frac{1}{4}x + 2k \text{이다.}$$

$h(x)$ 를  $x$ 에 대해 미분하면  $h'(x) = \frac{3}{4}x^2 + \frac{1}{4} > 0$ 이므로  $h(x)$ 는 실수 전체의 집합에서 증가한다.

$h(x) = x$ 의 근을  $x = x_1, x_2, \dots$ 라 하면,

$h(h(x)) = x$ 의 근은  $h(x) = x_1, x_2, \dots$ 의 근과 같고,

$h(x)$ 는 증가함수이므로  $h(h(x)) = x$ 의 근의 개수는  $h(x) = x$ 의 근의 개수와 같다.

따라서  $h(x) = x$ 의 서로 다른 실근은 2개이다.

**step3**

$y = h(x)$ 와  $y = x$ 의 접점의  $x$ 좌표를  $p$ 라 하면,  $h'(p) = 1$ 이고  $h(p) = p$ 이다.

따라서  $h'(p) = \frac{3}{4}p^2 + \frac{1}{4} = 1$ 이므로  $p = -1$  또는  $p = 1$ 이고,

$$h(p) = \frac{1}{4}p^3 + \frac{1}{4}p + 2k = p \text{이다.}$$

이때  $p = -1$ 이면  $k = -\frac{1}{4}$ 이므로  $k$ 가 양수라는 조건을 만족하지 않는다.

그러므로  $p = 1$ 이고,  $k = \frac{1}{4}$ 이므로,  $80k = 20$ 이다.

**여담:**

주어진 방정식을 우리에게 익숙한 형태인  $h(h(x)) = x$ 의 형태로 바꾸어서 해석하자.



$f(x)$ 가 일대일대응이므로  $h(x)$  또한 일대일대응이고, 따라서  $h(h(x))=x$ 의 실근의 개수는  $h(x)=x$ 의 실근의 개수와 동일하다.

앞서 15회 14번에서도  $f(f(x))=x$ 의 해석을 다루었으니 이 회차를 통해  $h(h(x))=x$ 의 해석을 확실하게 알아가도록 하자.

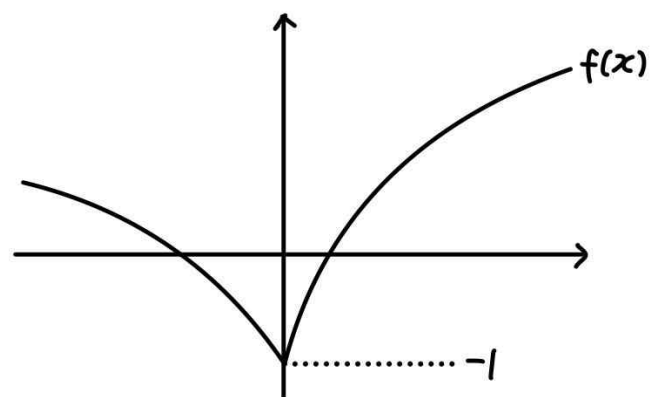
21.

정답: 27

해설:

step1

절댓값을 풀어보면  $f(x) = \begin{cases} \log_a\left(4x + \frac{1}{a}\right) & (x \geq 0) \\ \log_a\left(-2x + \frac{1}{a}\right) & (x < 0) \end{cases}$  이다.



$x \rightarrow -\infty$ 일 때  $f(x) \rightarrow \infty$ ,  $x \rightarrow \infty$ 일 때  $f(x) \rightarrow \infty$ 이다.

step2

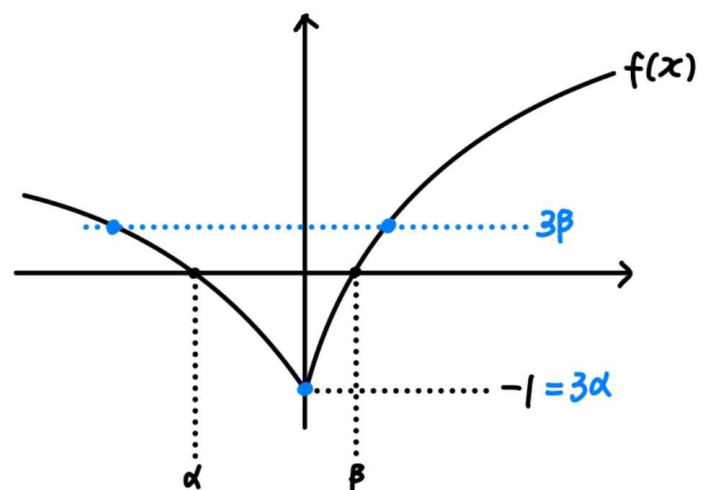
$f(x)=0$ 의 서로 다른 두 실근을  $\alpha, \beta$ 라 하자. (단,  $\alpha < 0 < \beta$ )

$\frac{f(x)}{3} = \beta$ 의 실근은,  $f(x) = 3\beta$ 의 실근과 같으므로,  $\frac{f(x)}{3} = \beta$ 의 실근의 개수는 2개이다.

따라서  $\frac{f(x)}{3} = \alpha$ 의 실근이 1개여야 하므로,  $3\alpha = -1$ ,

즉  $\alpha = -\frac{1}{3}$ 이다.

또한  $f(\alpha) = 0$ 이므로  $f(\alpha) = \log_a\left(\frac{2}{3} + \frac{1}{a}\right) = 0$ 이고,  $a = 3$ 이다.



step3

$f\left(\frac{f(x)}{3}\right)=0$ 의 가장 큰 실근은,  $f(x)=3\beta$ 의 가장 큰 실근과 같다.

1)  $\beta$  구하기

$$\log_3\left(4\beta + \frac{1}{3}\right) = 0 \text{이므로 } \beta = \frac{1}{6} \text{이다.}$$

2)  $f(x)=3\beta$ 의 가장 큰 실근 구하기

$$\log_3\left(4x + \frac{1}{3}\right) = \frac{1}{2} \text{의 실근이므로 } x = \frac{3\sqrt{3}-1}{12} \text{이다.}$$

따라서  $m=27$ 이다.

**여담:**

$f\left(\frac{f(x)}{3}\right)=0$ 의 서로 다른 실근은,  $f(x)=0$ 의 서로 다른 모든 실근을  $\alpha, \beta$ 라 할 때,  $\frac{f(x)}{3}=\alpha, \beta$ 의 서로 다른 모든 실근과 같다.

22.

**정답:** 257

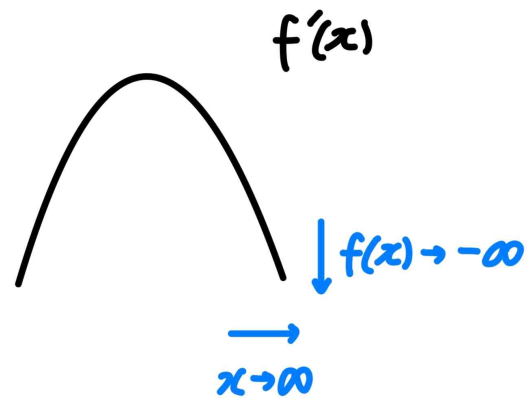
**해설:**

step1  $f'(x)$ 의 그래프 해석하기

만약  $f(x)$ 의 최고차항 계수가 음수라면,

$x \rightarrow \infty$ 일 때  $f'(x) \rightarrow -\infty$ 일 것이고,

이에 따라  $f'(k-1) \times f'(k) \times f'(k+1) < 0$ 을 만족하는 양수  $k$ 의 개수는 무수히 많을 것이다.



따라서  $f(x)$ 의 최고차항 계수는 양수이다.

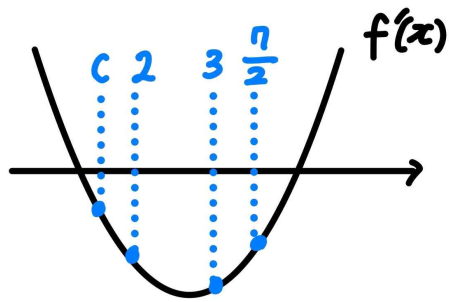
이때  $f'\left(\frac{7}{2}\right) < 0$ 이므로  $f'(x)=0$ 은 서로 다른 두 실근을 가진다.

또한  $\left[\frac{1}{2}, 2\right]$ 에서 평균값정리를 적용하면,

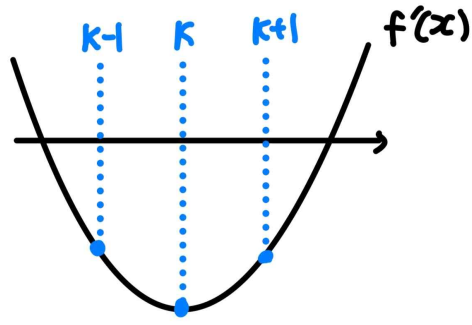
$$f'(c) = \frac{2-3}{2-\frac{1}{2}} = -\frac{2}{3} < 0 \text{인 실수 } c \text{가 구간 } \left(\frac{1}{2}, 2\right) \text{에 존재하고,}$$

$$f'\left(\frac{7}{2}\right) < 0 \text{이므로,}$$

최소  $x=2$ 와  $x=3$ 에서  $f'(x) < 0$ 이다.



1) 만약  $f'(x) < 0$ 을 만족하는 정수  $x$ 의 개수가 3개 이상이라면,  $f'(k-1) \times f'(k) \times f'(k+1) < 0$ 을 만족하는 정수  $k$ 가 존재하게 된다.



2)  $f'(x) < 0$ 을 만족하는 정수  $x$ 의 개수가 2개이고,  $f'(\alpha) < 0$ ,  $f'(\alpha+1) < 0$ 이라 하자.

이때  $f'(\alpha-2) > 0$ 이고,  $f'(\alpha-1) > 0$  또는  $f'(\alpha-1) = 0$ 이다.

만약  $f'(\alpha-1) > 0$ 이라면  $f'(\alpha-2) \times f'(\alpha-1) \times f'(\alpha) < 0$ 이므로  $f'(k-1) \times f'(k) \times f'(k+1) < 0$ 을 만족하는 정수  $k$ 가 존재하게 된다.

따라서  $f'(\alpha-1) = 0$ 이다.

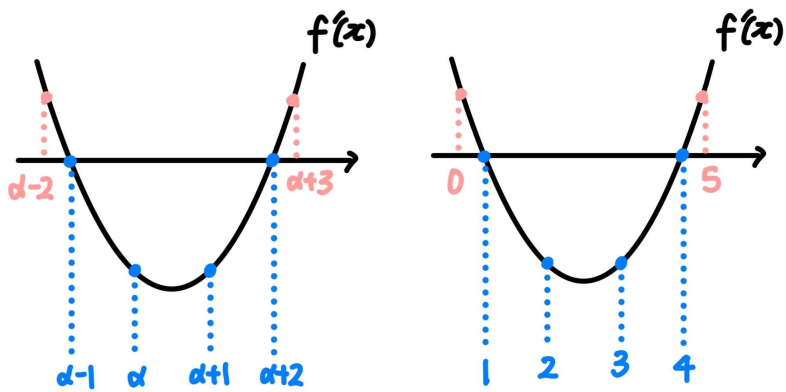
또한  $f'(\alpha+3) > 0$ 이고,  $f'(\alpha+2) > 0$  또는  $f'(\alpha+2) = 0$ 이다.

만약  $f'(\alpha+2) > 0$ 이라면

$f'(\alpha+1) \times f'(\alpha+2) \times f'(\alpha+3) < 0$ 이므로

$f'(k-1) \times f'(k) \times f'(k+1) < 0$ 을 만족하는 정수  $k$ 가 존재하게 된다.

따라서  $f'(\alpha+2) = 0$ 이다.

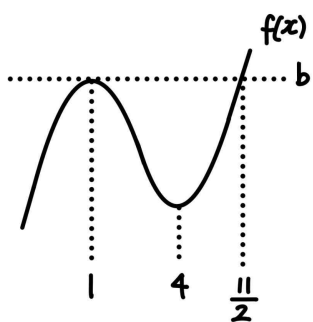


그러므로  $f'(1) = 0$ ,  $f'(2) < 0$ ,  $f'(3) < 0$ ,  $f'(4) = 0$ 이다.

step2

$f'(x) = 3a(x-1)(x-4)$ 라 하자. (단,  $a > 0$ )

삼차함수 비율관계에 의해  $f(x) = a(x-1)^2(x - \frac{11}{2}) + b$ 이다.



이때  $f(\frac{1}{2}) = 3$ 이므로  $a \times (\frac{1}{2}-1)^2 \times (\frac{1}{2}-\frac{11}{2}) + b = 3$ 이고,

정리하면  $-\frac{5}{4}a + b = 3$ 이다.

또한  $f(2) = 2$ 이므로  $a \times (2-1)^2 \times (2-\frac{11}{2}) + b = 2$ 이고, 정리하면

$-\frac{7}{2}a + b = 2$ 이다.

따라서  $a = \frac{4}{9}$ 이고,  $b = \frac{32}{9}$ 이므로

$f(x) = \frac{4}{9}(x-1)^2(x - \frac{11}{2}) + \frac{32}{9}$ 이고,

$f(7) = \frac{4}{9} \times (7-1)^2 \times (7-\frac{11}{2}) + \frac{32}{9} = \frac{248}{9}$ 이다.

그러므로  $p = 9$ ,  $q = 248$ 이므로  $p+q = 257$ 이다.

여담:

평균값정리와 주어진 조건을 통해  $f'(x) < 0$ 을 만족시키는 정수  $x$ 가 최소 2개 존재한다는 점을 파악한 다음, 주어진 조건을 만족하기 위한  $f'(x)$ 의 상황을 파악하자.

**기출 다시보기: 2024학년도 6월 모의평가 22번**

22. 정수  $a (a \neq 0)$ 에 대하여 함수  $f(x)$ 를

$$f(x) = x^3 - 2ax^2$$

이라 하자. 다음 조건을 만족시키는 모든 정수  $k$ 의 값의 곱이  $-12$ 가 되도록 하는  $a$ 에 대하여  $f'(10)$ 의 값을 구하시오. [4점]

함수  $f(x)$ 에 대하여

$$\left\{ \frac{f(x_1) - f(x_2)}{x_1 - x_2} \right\} \times \left\{ \frac{f(x_2) - f(x_3)}{x_2 - x_3} \right\} < 0$$

을 만족시키는 세 실수  $x_1, x_2, x_3$ 이 열린구간  $(k, k + \frac{3}{2})$ 에 존재한다.

**정답: 380**

기출 다시보기: 2024학년도 수능 22번

22. 최고차항의 계수가 1인 삼차함수  $f(x)$ 가 다음 조건을 만족시킨다.

함수  $f(x)$ 에 대하여

$$f(k-1) \times f(k+1) < 0$$

을 만족시키는 정수  $k$ 는 존재하지 않는다.

$f'(-\frac{1}{4}) = -\frac{1}{4}$ ,  $f'(\frac{1}{4}) < 0$ 일 때,  $f(8)$ 의 값을 구하시오. [4점]

정답: 483

\* 확인 사항

○ 답안지의 해당란에 필요한 내용을 정확히 기입(표기)했는지 확인하시오.