

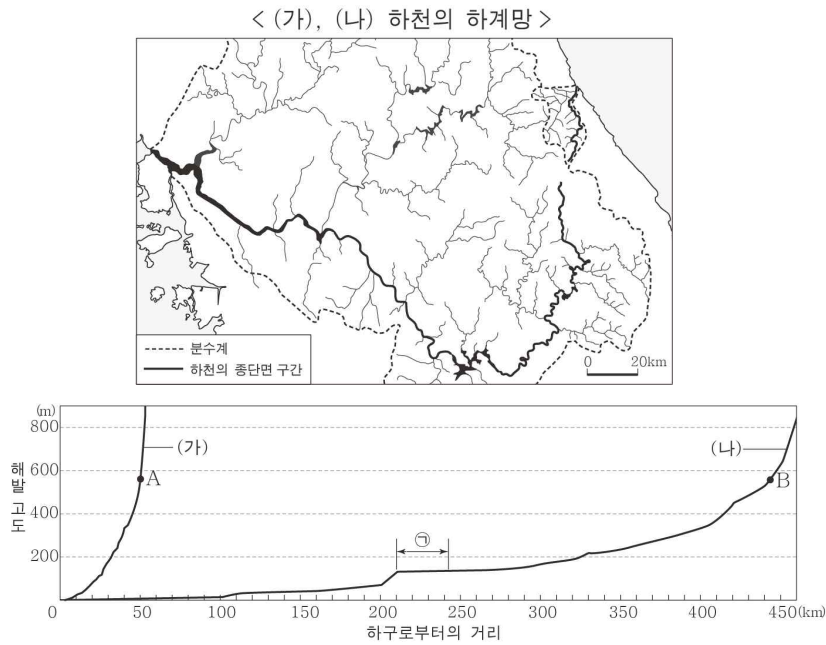
제 4 교시

사회탐구 영역(한국 지리)

성명

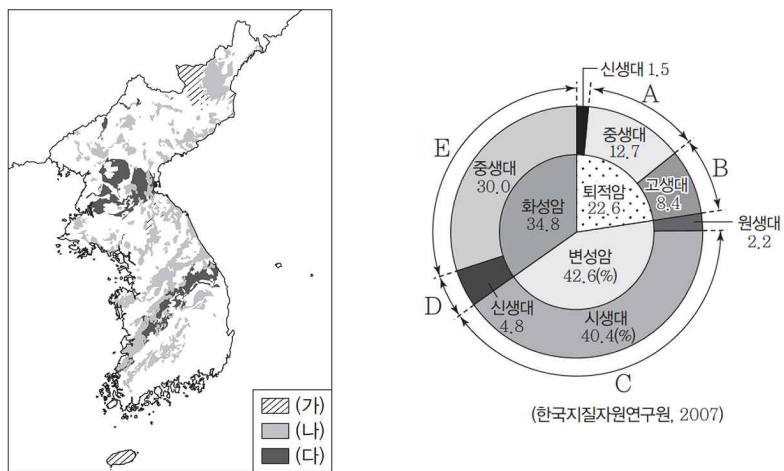
수험 번호

1. 자료는 지도에 표시된 (가), (나) 하천의 구간별 하천 수면 높이를 나타낸 것이다. 이에 대한 설명으로 옳지 않은 것은?



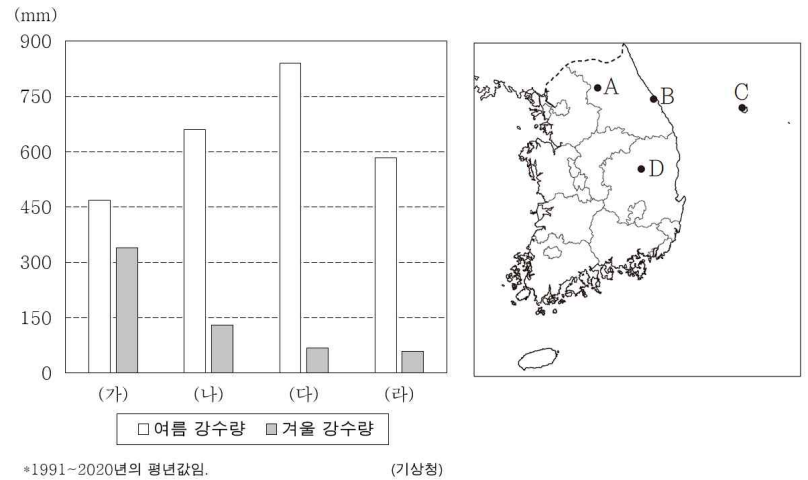
- ① (가)는 동해로, (나)는 황해로 유입된다.
- ② A 지점은 B 지점보다 퇴적 물질의 평균 입자 크기가 크다.
- ③ ㉠ 구간에서는 수력 발전이 이루어진다.
- ④ (가)는 (나)보다 하천 하구 부근의 하상계수가 크다.
- ⑤ (가)와 (나) 사이의 분수계는 1차 산맥의 일부이다.

2. 지도는 한반도의 암석 분포를 나타낸 것이다. (가)~(다)에 해당하는 암석을 A~E 중에서 고른 것은?



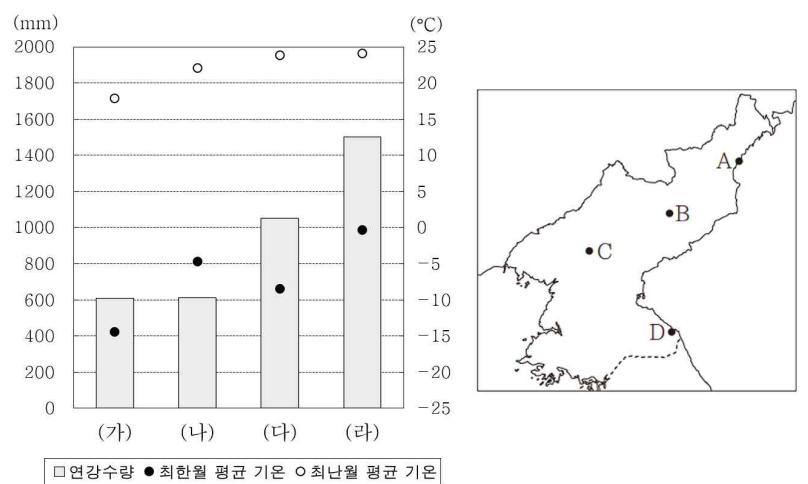
- | | | | |
|---|-----|-----|-----|
| | (가) | (나) | (다) |
| ① | A | B | C |
| ② | B | A | C |
| ③ | E | A | B |
| ④ | D | E | A |
| ⑤ | D | E | B |

3. 그래프는 지도에 표시된 네 지역의 기후를 나타낸 것이다. (가)~(라)의 기후를 A~D 중에서 고른 것은? [3점]



- | | | | | |
|---|-----|-----|-----|-----|
| | (가) | (나) | (다) | (라) |
| ① | B | A | D | C |
| ② | B | D | C | A |
| ③ | C | A | B | D |
| ④ | C | B | A | D |
| ⑤ | A | D | C | B |

4. 그래프는 지도에 표시된 네 지역의 기후를 나타낸 것이다. A~D의 기후를 (가)~(라) 중에서 고른 것은? [3점]



- | | | | | |
|---|-----|-----|-----|-----|
| | A | B | C | D |
| ① | (가) | (나) | (다) | (라) |
| ② | (가) | (다) | (나) | (라) |
| ③ | (나) | (가) | (다) | (라) |
| ④ | (나) | (가) | (라) | (다) |
| ⑤ | (나) | (라) | (가) | (다) |